




# سماجی ایپاس

چوتھین کلاس لاء



سندھ ٹیکسٹ بک بورڈ

چینڈر:

هن ڪتاب جا سڀ حق ۽ واسطا سنڌ ٽيڪسٽ بڪ بورڊ، ڄامشوري وٽ محفوظ آهن.  
هيءُ ڪتاب سنڌ ٽيڪسٽ بڪ بورڊ پاران وي ايمر انسٽيٽيوٽ فار ايجوڪيشن،  
ڪراچيءَ جي سهڪار سان تيار ڪيو ويو آهي.  
سنڌ سرڪار جي ايجوڪيشن ۽ خواندگيءَ واري کاتي، پاران مراسلي  
نمبر SO(G-I)E & L/Curriculum-2014 بتاريخ 03-03-2014 هيٺ سنڌ صوبي جي اسڪولن  
لاءِ منظور ڪيل.

بيورو آف ڪريڪيولم ۽ ايڪسٽينشن ونگ ڄامشوري پاران چڪاسيل.

## نگران اعليٰ

آغا سهيل احمد

چيئرمين سنڌ ٽيڪسٽ بڪ بورڊ

## ليڪڙ

پروفيسر ڊاڪٽر برناديٽ ايل دين

• شبنم خان • عروسه حفيظ

## چڪاسيندڙ

پروفيسر ڊاڪٽر برناديٽ ايل دين

• محمد قاسم ابڙو • محمد اسماعيل پنهور

• قائم الدين بلال • خالد محمود ميمڻ

• محمد ناطق ميمڻ • روزينه خواجہ

## سنديڪار

سرفراز احمد لاکو

## نگران

• علي محمد ساهڙ • عبدالودود

## ڪمپوزنگ

شفيق حسين ڪولاچي

## چيپيندڙ



# فهرست

صفحو نمبر	عنوان	باب
4	گلوب ۽ نقشن بابت سکيا	باب پهريون
17	سنڌ جي تاريخ	باب ٻيو
31	سنڌ جي ماڻهن ۽ زمين جو هڪٻئي سان لاڳاپو	باب ٽيون
50	موسم	باب چوٿون
67	اسان جي رهڻي ڪهڻي	باب پنجون
79	صوبي جي حڪومت	باب ڇهون
89	مواصلات جا ذريعا	باب ستون
95	ٻين سان گڏجي رهڻ	باب اٺون
104	شيون ۽ خدمتون	باب نائون
111	نبي سڳورو حضرت محمد صلي الله عليه و آله وسلم	باب ڏهون
114	خلفاء راشدين (خليفا سڳورا)	باب يارهون
119	اسان جا سُورما ۽ سُورميون	باب ٻارهون

## گلوب ۽ نقشن بابت سکيا

شاگردن جي سکڻ جا نتيجا:

هن باب جي پڄاڻيءَ تي شاگرد ان لائق ٿيندا ته:

- اهو سمجهي سگهن ته اتر قطب اتر طرف ۽ ڏکڻ قطب ڏکڻ طرف آهن.
- اهو سمجهي سگهن ته مٿي مطلب ڌرتيءَ کان پري جڏهن ته هيٺ جو مطلب ڌرتيءَ طرف (ويجهو) آهي.
- شين کي سامهون کان ۽ مٿان کان ڏسڻ ۾ فرق محسوس ڪري سگهن.
- گلوب ۽ نقشي کي سمجهي سگهن.
- گلوب ۽ نقشي وچ ۾ فرق کي سمجهي سگهن.
- ”گلوب“ ۽ ڌرتي جي ”نقشي“ تي ڪنڊن ۽ سمنڊن کي ڳولي انهن جا نالا ٻڌائي سگهن.
- نقشي جي اهم عنصرن کي سمجهي سگهن.
- سمجهي سگهن ته سڀ نقشن جا عنوان انهن جي ايراضي ۽ خاص خدو ۽ خال ٻڌائين ٿا.
- مختلف نقشن ۾ ڏيکاريل ايراضي ۽ خدو ۽ خال جي نشاندهي ڪري سگهن.
- اهو بيان ڪري سگهن ته ڪنهن نقشي تي حقيقي شيءِ جي جاءِ تي ان جون تصويرون ۽ نشانيون اينديون آهن.
- تصوير ۽ بيون نشانيون (نقطا، قطارون، رنگ جيڪي نقشن تي استعمال ٿين ٿا) ڪنجيءَ يا ليچنڊ ذريعي سمجهي سگهن.
- ”اهم“ ۽ ”وچ وارن“ طرفن جي نشاندهي ڪري سگهن.
- پنهنجي اسڪول جي چوڌاري ”اهم“ (اتر، اوڀر، اولهه، ڏکڻ) ۽ ”وچ وارن“ (اتر اولهه، اتر اوڀر، ڏکڻ اولهه، ڏکڻ اوڀر) طرفن ۾ موجود اهم جاين ۽ جڳهين جي نشاندهي ڪري سگهن.
- ”اهم“ ۽ ”وچ وارن طرفن“ جي مدد سان شين جي بيهڪ کي سمجهي سگهن.
- پٿماني جي مدد سان ڪنهن به نقشي تي موجود ٻن نقطن جي وچ واري مفاصلي کي سمجهي سگهن.
- مختلف پٿمان جي نقشن تي ٻن نقطن جي وچ واري مفاصلي کي ماپي سگهن.
- نقشن جي عنصرن جي مدد سان ڄاتل سڃاتل علائقن (ڪلاس روم، گهر ۽ پاڙي) جا سادا وڏي پٿماني وارا نقشا ٺاهي سگهن.

## گلوب ۽ نقشن بابت سکيا

گلوب ڇا آهي؟

لفظ گلوب لاطيني زبان جي لفظ ”گلوبس“ مان ورتل آهي، جنهن جي معنيٰ آهي گولائون جسر يا گول. اهڙيءَ طرح گلوب گولائين نقشي سان ڌرتي کي ظاهر ڪندو آهي.



شڪل 1.1 دنيا جي گلوب جا ٻه رخ

گلوب تي توهان کي خشڪي ۽ پاڻي نظر ايندو. خشڪيءَ واري ڀاڱي کي کنڊ سڏين ٿا ۽ اهي ست کنڊ آهن: ايشيا، آفريڪا، اتر آمريڪا، ڏکڻ آمريڪا، يورپ، آسٽريليا ۽ انٽارڪٽيڪا. اهڙيءَ طرح پاڻي جي وڏي ڀاڱي کي وڏا سمنڊ سڏين ٿا، جيڪي پنج آهن: ائٽلانٽڪ سمنڊ، پئسفڪ سمنڊ، هندي سمنڊ، آرڪٽڪ سمنڊ ۽ انٽارڪٽڪ سمنڊ.

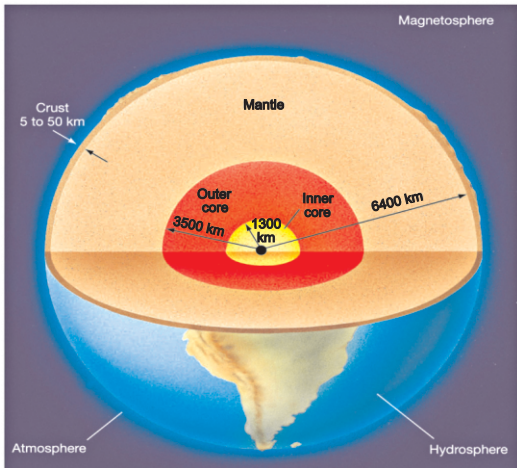
سرگرمي

ستن کنڊن ۽ پنجن سمنڊن جا نالا ٻڌايو.



شکل 1.2 ڌرتيءَ جو گولو اتر  
قطب ۽ ڏکڻ قطب ڏيکاري ٿو

جڏهن توهان گلوب تي نظر ڊوڙائيندا ته توهان کي نظر ايندو ته گلوب سڌو نه آهي، مگر اهو هڪ طرف جُهڪيل آهي. گلوب تي اتر جي وڌ ۾ وڌ پري نقطي کي ڳوليو، ان کي اتر قطب چئبو آهي. اهو ڌرتيءَ جي مقرر محور تي سڀ کان مٿي موجود آهي. توهان ڏسندؤ ته اتر قطب آرڪٽڪ سمنڊ جي وچ ۾ موجود آهي. سال جو اڪثر وقت، ان ۾ برف ڄميل هوندي آهي. هاڻي گلوب جي ڏکڻ ۾ سڀ کان ڏورانهين نقطي ڏانهن ڌيان ڏيو. ان کي ڏکڻ قطب چئبو آهي. ڏکڻ قطب ڌرتيءَ جي مقرر محور جي تري ۾ موجود آهي. ڏکڻ قطب انٽارڪٽيڪا تي موجود آهي، جيڪو ڌرتي جي ستن کنڊن مان هڪ آهي. اهڙيءَ طرح جڏهن اسان اتر چوئاسين ته ان جو مطلب آهي اتر قطب ۽ جڏهن اسان ڏکڻ چئون ته ان جو مطلب آهي ڏکڻ قطب.



شکل 1.3 ڌرتيءَ جو اندريون تهه وچيون تهه  
۽ ٻاهريون تهه ڏيکاري ٿي.

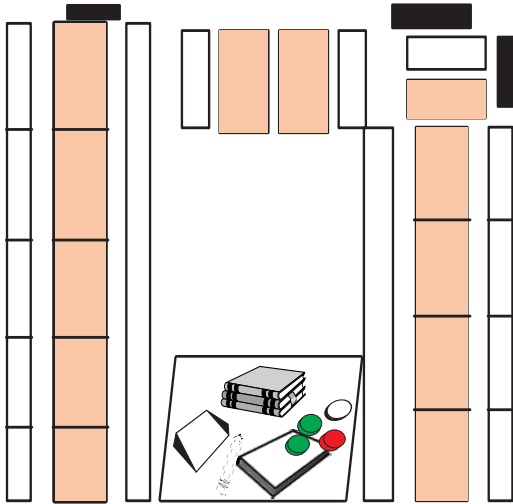
ڌرتي هڪ سخت بال آهي. شکل 1.3 ڏانهن نهاريو. توهان ڏسندؤ ته ڌرتيءَ جي سڀ کان اندرئين تهه کي ڪور چئبو آهي، ان کان پوءِ واري تهه (وچين تهه) کي مينٽل چئبو آهي ۽ سڀ کان ٻاهر واري تهه کي ڪرسٽ سڏبو آهي. اهڙيءَ طرح جڏهن اسين چئون ٿا ته جهاز مٿي اڏامي رهيو آهي، ته ان جو اهو مطلب آهي ته اهو ڌرتيءَ کان پري وڃي رهيو آهي ۽ جڏهن جهاز زمين تي لهي رهيو آهي ته حقيقت ۾ اهو زمين جي ويجهو اچي رهيو آهي. اهڙيءَ طرح مٿي معنيٰ زمين کان پري ۽ هيٺ معنيٰ زمين جي طرف.

## نقشو ڇا آهي؟

پوري ڌرتي يا ڌرتيءَ جي ڪجهه حصي جي مٿاڇري جي ٻن درجن (ڊيگهه ۽ ويڪر) واري هموار خاڪي کي نقشو چئبو آهي. نقشو ڪنهن جڳهه جو اهڙو خاڪو آهي، جو جڻ ته توهان ان جاءِ جي بلڪل مٿان موجود آهيو.

شڪل 1.4 ڏانهن ڏسو! اها هڪ ڪلاس روم جي تصوير آهي.

شڪل 1.5 ڏانهن نهاريو! اهو هڪ ڪلاس روم جو نقشو آهي، ڪهڙي ڳالهه ٻنهي کي هڪٻئي کان ڌار ڪري ٿي؟



شڪل 1.5 هڪ ڪلاس روم جو نقشو



شڪل 1.4 هڪ ڪلاس روم جي تصوير

### سرگرمي:

تصوير ۽ نقشي ۾ ڏيکاريل ميز ۽ ڪرسيءَ جي تصوير ٺاهيو.

**استاد لاءِ هدايت:** توهان جڏهن به ڪلاس ۾ گلوب آڻيو ته شاگردن کي ستن وڏن ڪنڊن جي باري ۾ ٻڌايو ۽ گلوب تي اهي شاگردن کي ڏيکاريو. بعد ۾ انهن کي وڏن سمنڊن جي نالن ۽ انهن جي بيهڪ جي باري ۾ ٻڌايو ۽ گلوب تي شاگردن کي انهن جي نشاندهي ڪري ڏيکاريو. ٻئي ڏينهن شاگردن کي دنيا جا خالي نقشا آڻڻ لاءِ چئو ۽ پوءِ انهن کي خالي جڳهين تي لاڳاپيل ڪنڊن ۽ سمنڊن جا نالا لکڻ لاءِ چئو.

## گلوب ۽ نقشي ۾ فرق:

گلوب ۽ نقشي ۾ ڪيترائي فرق آهن. ڇا توهان ڪجهه فرقن جي باري ۾ ڄاڻو ٿا؟  
ڪجهه وڌيڪ فرق معلوم ڪرڻ لاءِ هيٺئين ٽيبل پڙهو:

نقشو	گلوب
<ul style="list-style-type: none"> <li>نقشو ڌرتي جي مڪمل مٿاڇري يا ان جي ڪجهه حصي کي ٻن درجن ۾ هموار خاڪي سان پيش ڪري ٿو.</li> <li>نقشي ۾ نشانين جي مدد سان فقط ڪجهه اهم تفصيل ڏيکاريل آهن.</li> <li>نقشو ڪنهن شهر، ملڪ يا دنيا جي حقيقي تصوير جي فقط هڪ پهلو کي ظاهر ڪري ٿو. مثال طور نقشو ڪنهن هڪ ملڪ يا ڪيترن ئي ملڪن جي زمين يا پاڻي جي شڪل ڏسندو آهي.</li> <li>نقشو هموار هوندو آهي ۽ ان کي ڪيڏانهن به کڻي هلي سگهجي ٿو.</li> <li>نقشن کي آسانيءَ سان استعمال ڪري سگهجي ٿو. ڪيترن ئي نقشن کي گڏي ائٽلس ترتيب ڏنو ويندو آهي.</li> </ul>	<ul style="list-style-type: none"> <li>گلوب پوريءَ ڌرتيءَ جي مٿاڇري کي ٽن درجن ۾ ظاهر ڪري ٿو.</li> <li>گلوب ۾ نشانين جي مدد سان تمام گهڻا تفصيل ڏيکاريل آهن.</li> <li>گلوب پوريءَ ڌرتي جي حقيقي تصوير پيش ڪري ٿو.</li> <li>گلوب گولائون هوندو آهي ۽ توهان ان کي چوڌاري کڻي هلي نه ٿا سگهو.</li> <li>وڏن گلوبن کي استعمال ڪرڻ تمام ڏکيو آهي.</li> </ul>

## نقشي جا جزا:

نقشي ڏانهن نهاريو ۽ انهن جزن جي فهرست تيار ڪريو، جيڪي توهان کي نقشي سمجهڻ ۾ مدد ڏين ٿا. گهڻو ڪري نقشي ۾ هي جزا ٿيندا آهن.

- عنوان
- نشانين
- ليجنڊ يا ڪُنڇي
- قطب نما
- پيمانو

**استاد لاءِ هدايت:** هڪ ڏينهن ۾ فقط هڪ تصور يا ذيلي عنوان پڙهايو وڃي. انهيءَ تصور کي واضح ڪرڻ خاطر ٻيون سرگرميون ڏنيون وڃن. اهڙيءَ ريت هڪ عنوان پورو ڪري پوءِ ٻيو تصور يا عنوان هٿ ۾ کڻجي يا اڳتي وڌجي. مثال طور شاگردن کي وڌيڪ بهتر انداز ۾ نقشي جي سکيا ڏيڻ لاءِ ڪجهه شيون جيئن پينسلن واري پيتي ۽ هڪ رانديڪي واري ڪار ميز تي رکي. شاگردن کي هدايتون ڏيو ته انهن جو خاڪو ٺاهين. بعد ۾ هر شاگرد کي ڪرسي تي بيهاريو ۽ انهن کي هيٺ ميز تي ڏسڻ لاءِ چئو. پوءِ جيئن مٿان کان نظر اچي انهن کي ان جو خاڪو ڪڍڻ لاءِ هدايتون ڏيو.

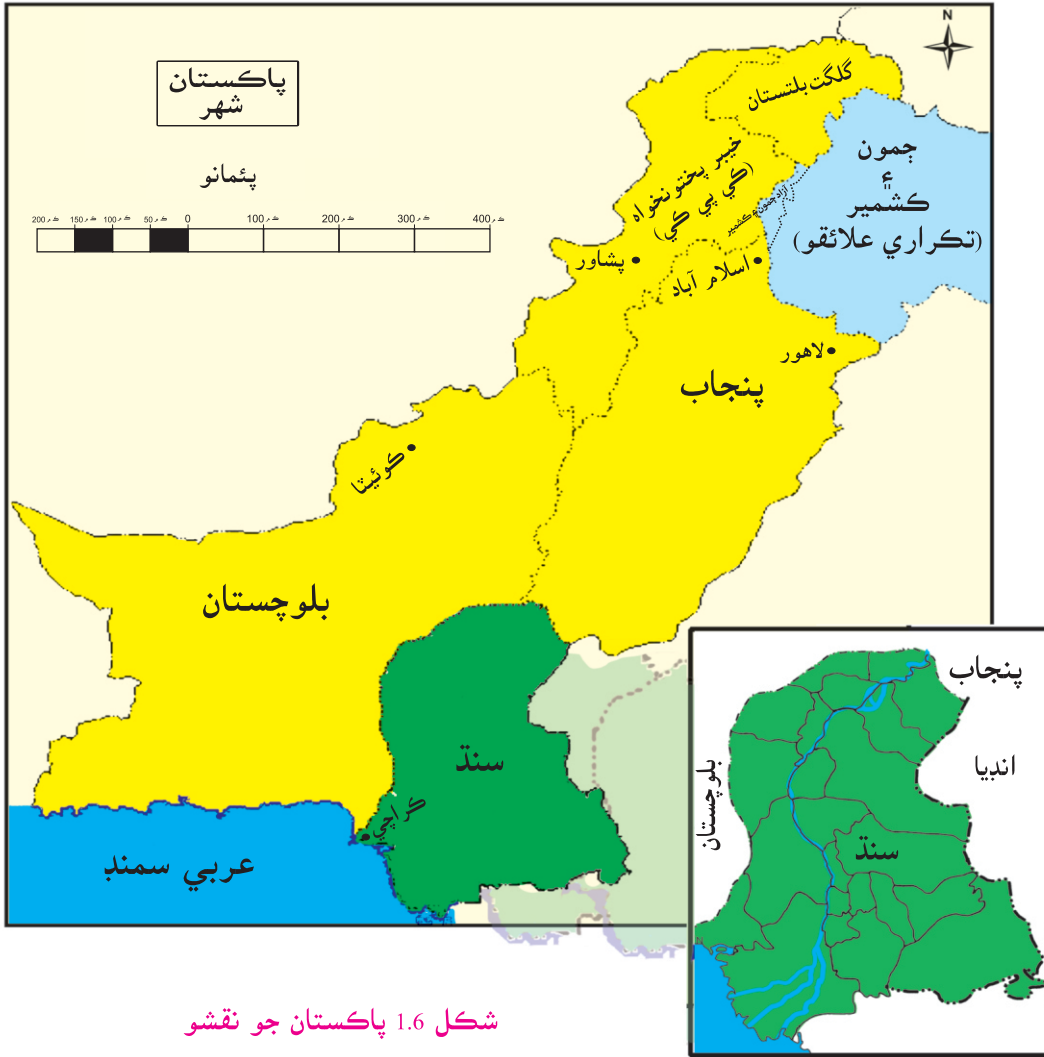
## سرگرمي

پنهنجي ڪتاب ۾ موجود نقشن ڏانهن ڏسو. سوچڻ ۽ سمجهڻ کان پوءِ لکو ته هر جزو ڪهڙيءَ طرح نقشن کي سمجهڻ ۾ توهان جي مدد ڪري ٿو. ان کان پوءِ پنهنجي ساٿيءَ کي پنهنجا خيال ٻڌايو ۽ سندس رايو معلوم ڪريو. توهان جا خيال هن ريت هجڻ کپن، اهو اسان کي ٻڌائي ته هيءَ ڪهڙي جڳهه آهي يا اهو ته مختلف جڳهين جا طرف ڪهڙا آهن وغيره.

## عنوان:

جڏهن به اسان نقشو پڙهڻ شروع ڪريون ته ان جي عنوان کي ڏسون. عنوان مان نقشي ۾ ڏنل ايراضيءَ بابت ڄاڻ ملي ٿي ۽ اها سڌ پوي ٿي ته نقشي تي ڇا ڏيکاريو ويو آهي. توهان شڪل 1.6 ۾ ڏنل نقشي جو عنوان ڏسو. توهان هن ريت نظر ايندو

پاڪستان  
شهر



شڪل 1.6 پاڪستان جو نقشو

**استاد لاءِ هدايت:** شاگردن کي اهڙن جزن جي لسٽ تيار ڪرڻ لاءِ چئو جيڪي نقشي پڙهڻ ۾ مدد ڪن ٿا. انهن کي ٻن يا نئين گروپن ۾ بحث ڪرايو ته جيئن هر هڪ جزو نقشي پڙهڻ ۽ سمجهڻ ۾ مدد ڏئي ٿو.




## سرگرمي:

شڪل 3.4 ۽ 3.9 ۾ ڏنل نقشا ڏسو. عنوان پڙهو. نقشي ۾ ڏيکاريل ايراضي سجاڻي ٻڌايو ته هر نقشو ڇا ٿو ڏيکاري. هيٺ ڏنل خانو تيار ڪري پريو.

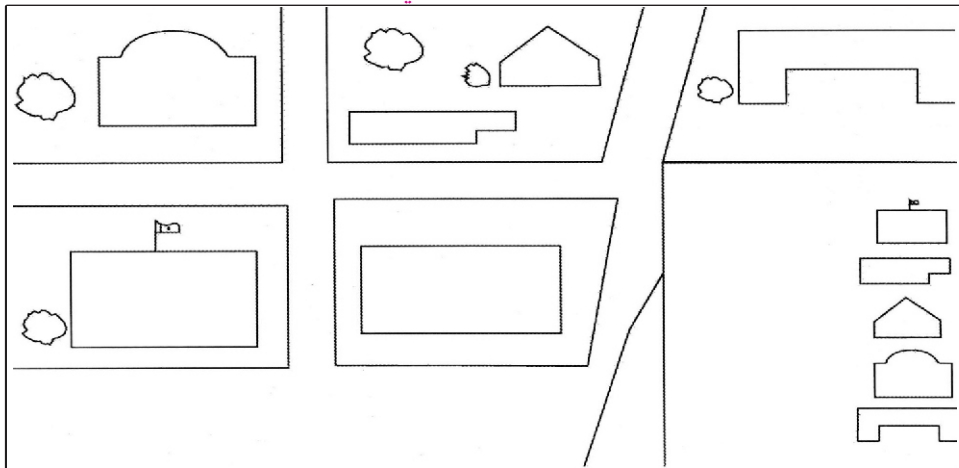
نقشي ۾ ڏيکاريل ايراضي	نقشو ڇا ٿو ڏيکاري

## علامتون (نشانيون):





شڪل 1.7 ڏانهن نهاريو. اها گرڻ تائون جي تصوير آهي. ان ۾ ڪيتريون ئي گهٽيون ۽ عمارتون ڏيکاريل آهن. هتي وڻ به ڏيکاريا ويا آهن. هاڻي شڪل 1.8 ڏانهن ڏسو. اهو گرڻ تائون جو نقشو آهي. انهن نقشن تي خاص نشان ٿيل آهن، جيڪي عمارتن، رستن ۽ وڻن جي نشاندهي ڪن ٿا. اهڙن نشانن کي علامتون سڏبو آهي.



شڪل 1.7 گرڻ تائون جي تصوير




شڪل 1.8 گرڻ تائون جو نقشو

نقشي تي شين کي اصل حالتن ۾ ڏيکارڻ لاءِ نشانين کي اينديون آهن. وڻ لاءِ ڪم ايندڙ نشاني  آهي ۽ ريل جي پٽڙي ظاهر ڪرڻ لاءِ  نشاني ڪتب اچي ٿي. ٻيون نشانين جن شين لاءِ استعمال ڪيون وڃن ٿيون، اهي انهن جهڙيون نه هونديون آهن. جيئن هيءَ نشاني  ڪنهن عمارت لاءِ ۽ هيءَ نشاني  ڪنهن شهر کي ڏيکاري ٿي. لکين ۽ نقطن کان سواءِ مختلف رنگ پڻ نشانين طور استعمال ٿيندا آهن. مثال طور نيرو رنگ پاڻي لاءِ ۽ گاڙهو ۽ ڪارو رنگ ماڻهن پاران ناهيل شين لاءِ استعمال ٿيندو آهي.

### سرگرمي:

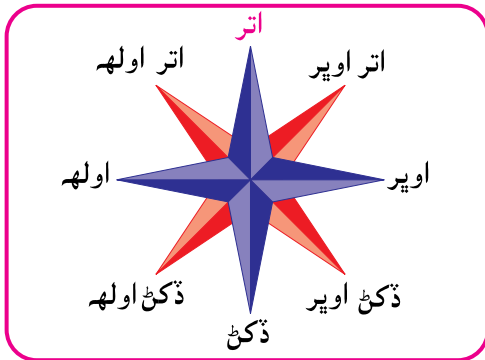
ٻه خانا ٺاهيو هڪ خاني ۾ هنن شين جا نالا لکو: وڻ، ريل ۽ پٽڙي، ندي، عمارت، جبل، پل، ٻئي خاني ۾ هر هڪ شيءِ جي علامت ٺاهيو. پهريون توهان جي رهنمائيءَ لاءِ حل هيٺ ٿيل آهي.

خانو ”الف“ شيءَ جو نالو	خانو ”ب“ علامت
وڻ	

### ڪنجي يا ليجنڊ:

نقشن جي هيٺان هڪ فهرست ڏنل هوندي آهي، جهڙي هڪ توهان مٿين سرگرميءَ ۾ ٺاهي آهي. هن فهرست کي ڪنجي يا ليجنڊ سڏجي ٿو. هڪ ليجنڊ يا ڪنجي اسان کي نقشن تي استعمال ٿيل نشانين کي سڃاڻڻ ۾ مدد ڏئي ٿي. ان ذريعي نقشي تي آيل مختلف نشانين جو مقصد ۽ معنيٰ معلوم ٿئي ٿي. ليجنڊ يا ڪنجي اسان کي نقشن کي پڙهڻ ۽ سمجهڻ ۾ مدد ڏئي ٿي. ليجنڊ يا ڪنجي انتهائي اهميت رکي ٿي ڇو جو ساڳي علامت مختلف نقشن تي مختلف شين کي ظاهر ڪري سگهي ٿي. جيئن نقطو هڪ نقشي ۾ ڪنهن شهر کي ظاهر ڪري ٿو ته ٻئي نقشي ۾ ڪنهن جڳهه جي آباديءَ لاءِ استعمال ڪري سگهجي ٿو.

## طرف:



نقشي سمجهڻ لاءِ، نقشي ۾ طرف ڏيکاريل هوندا آهن. اڪثر نقشن تي طرف ڏيکارڻ لاءِ هڪ خاص نشاني هوندي آهي. هن نشانيءَ کي ”قطب نمائي گلاب“ چوندا آهن. اها مکيه چار طرف اٽر، ڏکڻ، اوڀر ۽ اولهه ڏيکاري ٿي.

شڪل 1.9 قطب نمائي گلاب

”قطب نمائي گلاب“ ٻيا اهم طرف پڻ ڏسیندو آهي. اهي وچ وارا طرف هوندا آهن. شڪل 1.9 ۾ موجود ”قطب نمائي گلاب“ ڏانهن نهاريو. اٽر اوڀر لفظ ڳوليو. انهن لفظن جو مقصد اٽر اوڀر آهي. ڇو جو اٽر اوڀر، اٽر ۽ اوڀر جي وچ واري طرف کي چئبو آهي. اهڙي طرح ساڳئي شڪل ۾ لفظ ڏکڻ اولهه تلاش ڪيو. انهن جو مقصد آهي ڏکڻ اولهه. ڇو جو ڏکڻ، اولهه، ڏکڻ ۽ اولهه جي وچ واري طرف کي ظاهر ڪري ٿو. هاڻي ڏکڻ اوڀر ڳوليو. انهن جو مقصد ڏکڻ اوڀر آهي. ڇو جو ڏکڻ ۽ اوڀر جي وچ واري طرف کي ڏکڻ اوڀر چئبو آهي. هاڻي اٽر اولهه ڳوليو اهي لفظ ڪهڙي طرف جي نشاندهي ڪن ٿا؟

## سرگرمي:

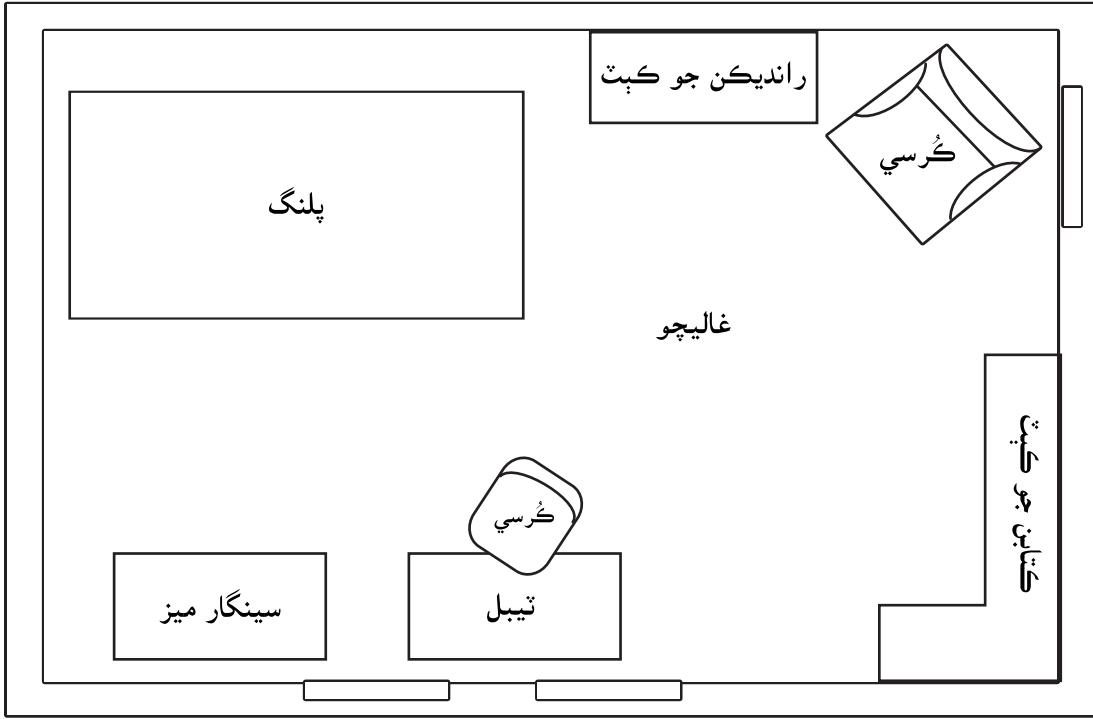
پنهنجي اسڪول جي چوڌاري موجود جڳهين جا نالا لکو جيڪي چئن مکيه طرفن ۾ آهن: اٽر، اوڀر، ڏکڻ ۽ اولهه ۽ وچ وارن طرفن ۾ موجود جڳهين جا نالا پڻ لکو: اٽر اوڀر، ڏکڻ اوڀر، ڏکڻ اولهه ۽ اٽر اولهه.

## پڙهائو:

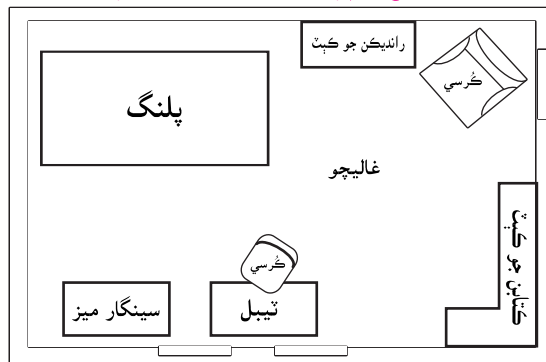
فرض ڪريو ته اسان کي دنيا جو نقشو ڪڍڻو آهي. نقشي کي ڪڏهن به ان جي اصلي ماپ يا ايراضيءَ ۾ ٺاهي نٿو سگهجي. انهيءَ ڪري نقشي کي زمين جي مٿاڇري جي اصل پڪيٽ جي ننڍي شڪل سمجهيو وڃي ٿو. اوهان جيڪڏهن پنهنجي سُمهڻ واري ڪمري جو نقشو ڪاغذ جي ٽڪري تي ٺاهڻ چاهيو ٿا، ته اوهان ڇا ڪندا؟ اهڙيءَ حالت ۾ اسان کي ڪاغذ جي ماپ نظر ۾ رکي ڪمرو ٺاهڻو پوندو.

اچو ته سڪون ته اهو ڪيئن ٿيندو:

1. شڪل 1.10 ڏانهن ڏسو. اهو عائشه جي ڪمري جو نقشو آهي.
2. شڪل 1.11 ڏانهن ڏسو. اها تصوير، شڪل 1.10 جي ننڍي ڪيل صورت آهي.
3. اسڪيل ڪٿو ۽ شڪل 1.10 ۾ ڏيکاريل پلنگ جي ماپ لھو. پلنگ 6 سينٽي ميٽر ڊگھو آھي.
4. ان جي ويڪر ماپيو. اھو 3 سينٽي ميٽر ويڪرو آھي.
5. انهيءَ ماپ کي گھٽائي اڌ ڪريو. ڊيگھ ۽ ويڪر کي 2 سان ونڊ ڪريو. هاڻي ڊيگھ تي 3 سينٽي ميٽر ۽ ويڪر بيٺي 1.5 سينٽي ميٽر.
6. اسڪيل جي مدد سان شڪل 1.11 ۾ پلنگ جي ڊيگھ لاءِ 5 سينٽي ميٽر ڊگھي ليڪ ڪيو.
7. ويڪر جي ماپ لاءِ 3 سينٽي ميٽر ڊگھي ليڪ ڪيو. اهاڻي سينٽي ميٽر ويڪر ٿيندي.



شڪل نمبر 1.10 عائشه جو ڪمرو

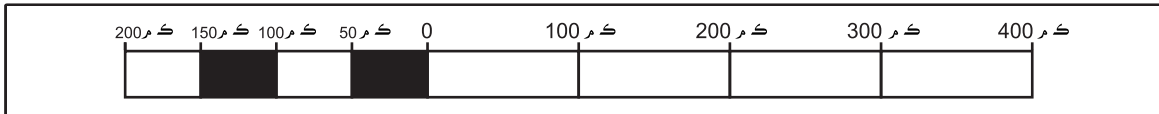


شڪل نمبر 1.11 عائشه جي ڪمري جو ننڍو نمونو

## سرگرمي:

شڪل نمبر 1.10 ۾ عائشه جي پلنگ جو نقشو آهي. انهيءَ پلنگ جي ڊيگهه ۽ ويڪر جي ماپ وٺو ۽ پنهنجي ڪاپيءَ ۾ پلنگ ٺاهيو. هاڻي ڊيگهه ۽ ويڪر کي 2 سان ونڊ ڪريو ۽ پنهنجي ڪاپيءَ ۾ ننڍو پلنگ ٺاهيو.

پٿماني ۾ نقشي تي موجود مفاصلي جي ڌرتي جي مٿاڇري جي اصلي مفاصلي سان ڀيٽ ڪئي ويندي آهي. پٿماني کي مفاصلو (ڊيگهه) ماپڻ لاءِ پڻ استعمال ڪيو ويندو آهي. پٿماني کي هڪ لڪير جي شڪل ۾ ظاهر ڪري سگهجي ٿو. لڪيري پٿمانو هڪ لڪير آهي، جيڪا ڪيترائي سينٽي ميٽر ڊگهي آهي ۽ اها هڪ جيترو حصن ۾ ورهايل آهي. شڪل 1.12 ۾ 0 ۽ 100 ڪلو ميٽرن جي وچ ۾ 2 سينٽي ميٽرن جو مفاصلو آهي. ان جو مطلب ته نقشي ۾ ڏنل 2 سينٽي ميٽر زمين جي 100 ڪلو ميٽرن جي برابر آهن يا نقشي ۾ موجود 1 سينٽي ميٽر زمين جي 50 ڪلو ميٽرن جي برابر آهي.



شڪل 1.12 ليڪ-ماپڻي يا خطي پٿمانو

## سرگرمي:

شڪل 1.6 ۾ ڪراچي ۽ لاهور جي وچ ۾ مفاصلي کي ماپيو. نقشي ۾ ڪيترو مفاصلو آهي؟ حقيقي مفاصلو ڇا آهي؟

## اختصار

- هن باب ۾ اسان هيٺيون ڳالهون سکيون آهن:
- گلوب (ڌرتيءَ جو گولو) زمين کي ظاهر ڪندو آهي.
  - گلوب تي اسين ست کنڊ ۽ پنج سمنڊ ڏسي سگهون ٿا.
  - اتر جو مطلب اتر قطب آهي ۽ ڏکڻ جو مطلب ڏکڻ قطب آهي.
  - مٿي جو مطلب زمين کان پري ۽ هيٺ جو مطلب زمين طرف.
  - نقشو ڪنهن زمين جو اهڙو خاڪو آهي، جو جڻ ته اسين سڌا ان جي مٿان بيٺا آهيون.
  - اسين نقشي جا عنصر: عنوان، ڪنجي يا ليجنڊ، قطب نما ۽ پٿمانو استعمال ڪري نقشي کي پڙهندا ۽ سمجهندا آهيون.



## مشق

(الف) هيٺين سوالن جا جواب ڏيو:

1. گلوب ۽ نقشي جي وصف بيان ڪريو.
  2. گلوب ۽ نقشي ۾ ڪي به ٽي فرق معلوم ڪريو.
- نقشن کي سمجهڻ واري مهارت مطابق سنڌ جو نقشو سمجهڻ**
- (الف) هن نقشي جي عنوان کي ڏسو، اهو اسان کي نقشي بابت ڇا ڏسيندو؟  
 (ب) ڪنجي يا سمجهائي ڇا ٿي ڏيکاري؟



3. نقشي ڏانهن نهاريو ۽ فرض ڪريو ته توهان ضلعي شهيد بينظير آباد ۾ آهيو.

(الف) معلوم ڪريو ته چئن مکيه طرفن (اتر، اوڀر، ڏکڻ ۽ اولهه) ۾ ڪهڙا ضلعا واقع آهن.

(ب) اهو پڻ معلوم ڪريو ته وچ وارن طرفن (اتر اوڀر، ڏکڻ اوڀر، ڏکڻ اولهه ۽ اتر اولهه) ۾ ڪهڙا ضلعا واقع آهن.

4. (الف) نقشي ۾ ڄامشوري ۽ سانگهڙ ضلعن جي وچ واري مفاصلي کي ماپيو ۽ ان کي لکو.

(ب) نقشي تي پئماني کي استعمال ڪريو ۽ ڄامشوري ۽ سانگهڙ ضلعن جي وچ ۾ حقيقي مفاصلو لکو.

5. پينسل جي پيٽي (باڪس) کڻو.

(الف) پنهنجي ڪاپيءَ تي ان جو خاڪو ڪيو.

(ب) هڪ ٻيو خاڪو ڪيو جنهن ۾ وڏائي ان کي ٻيڙي ماپ جو ڪريو.

(ج) پنهي خاڪن جي ڊيگهه ۽ ويڪر ماپيو.

6. پاڪستان جي خاڪي ۾ سنڌ جون حدون نروار ڪريو.

7. پنهنجي ڪلاس روم جو نقشو ٺاهيو. ان ۾ نقشي جا سڀ جزا: عنوان، ليجنڊ يا ڪنجي علامتن

سان گڏ لکو ۽ ٻڌايو ته اهي ڇا ٿا ظاهر ڪن.

8. دنيا جو نقشو ڪيو، ان ۾ ڪنڊن ۽ سمنڊن جا نالا لکو.



## سنڌ جي تاريخ

شاگردن جي سکڻ جا نتيجا

هن باب جي پڄاڻيءَ تي شاگرد ان لائق ٿيندا ته:

- صوبي جا اهم تاريخي واقعا بيان ڪري سگهن.
- مقامي ۽ صوبي جي اهم تاريخي واقعا جي وقت تي چارٽ جي وضاحت ڪري سگهن.
- مقامي ۽ صوبي جي اهم تاريخي واقعا جي وقت جو چارٽ ٺاهي سگهن.
- ماضيءَ جي واقعا مان سماجي مسئلن ۽ انهن جي حل جي باري ۾ معلوم ڪري سگهن.
- ماضيءَ ۾ مسئلن جي ڪڍيل حل جا مختصر دور ۽ دور رس اثر ٻڌائي سگهن.
- صوبي جي ماڻهن جي وقت سان گڏ ڪيل ترقيءَ جي نشاندهي ڪري سگهن.
- اهم تاريخي واقعا جي ان وقت ۽ موجوده دور ۾ اثرن جي نشاندهي ڪري سگهن.
- نقشن جي مدد سان اهم تاريخي واقعا جي جاگرافيائي بيھڪ بيان ڪري سگهن.
- اهم تاريخي واقعا جي باري ۾ پنهنجو نقطہ نظر ٻڌائي سگهن.
- ڪن به ٻن صوبن جي عام رواجي زندگيءَ ۾ فرق بيان ڪري سگهن.
- فوٽوگرافن، خطن ۽ پنهنجي خاندان جي ماڻهن سان انٽرويو جي ذريعي اهم ذاتي تاريخي (پنهنجي صوبي، خاندان ۽ اسڪول جي) ڪهاڻي تيار ڪري سگهن.

## سنڌ جي تاريخ

سنڌ جي قديم تاريخ آهي، جيڪا 5000 هزار سالن تي ٻڌل آهي. هتي مختلف دؤرن ۾ مختلف ماڻهو رهندا آيا آهن. ايندڙ ڪجهه صفحن ۾ اسين سنڌ جي قديم تاريخ بابت پڙهنداسين.

### پٿر وارو دؤر:

هزارين سال اڳ هتي ماڻهو جنهن زمين تي آباد ٿيا، اها سنڌ آهي. اهي کاڌي ۽ اجهي جي تلاش ۾ هڪ هنڌ کان ٻئي هنڌ ڏانهن هلندا رهيا. انهن شڪار ڪرڻ ۽ ڪائين وڍڻ لاءِ پٿر جا سادا هٿيار ٺاهي ڪتب آندا. اهوئي سبب آهي جو ان دؤر کي پٿر وارو دؤر سڏجي ٿو.



شڪل 2.2 پٿر جي نئين زماني ۾ ماڻهن جي رهڻي ڪهڻي



شڪل 2.1 پٿر جي زماني ۾ ماڻهن جي رهڻي ڪهڻي

### پٿر جو نئون دؤر:

گهڻي وقت پڄاڻان ماڻهن وڌيڪ ڪارائتا اوزار ٺاهڻ شروع ڪيا. هنن کاڌ خوراڪ لاءِ پوکون پوکيون ۽ مال ڌاريو. هنن ڪاڻ ۽ ڪچين سرن مان گهرن اڏڻ جو هنر سکي ورتو. هو هنڌ هنڌ پتڪڻ بجاءِ هڪ ماڳ تي ويهي رهيا. اهي سنڌ جا اوائل ڳوٺ ۽ شهر هئا. هن دؤر کي پٿر جو نئون دؤر سڏجي ٿو.

## سنڌو ماٿريءَ واري تهذيب:

سنڌ جي پهرين تهذيب جنهن بابت ڄاڻ ملي ٿي، اها سنڌو ماٿريءَ واري تهذيب آهي. جيئن نالي مان ظاهر آهي ته اها تهذيب سنڌو نديءَ جي ڪناري تي آباد ٿي. 1922ع ۾ لاڙڪاڻي ويجهو سنڌوءَ جي الهندي ڪناري وارن رهاڪن کي پراڻا سڪا ۽ سرون لڌيون. اهي شيون قديم آثارن جي ماهرن کي ڏيکاريون ويون، جن سمجهيو ته هي قديم تهذيب جا آثار ئي هوندا آهن. انهن زمين جي کوٽائي شروع ڪئي. کوٽائيءَ مان اها خبر پئي ته 5000 سال اڳ سنڌو نديءَ جي ڪناري تي ماڻهن رهڻ شروع ڪيو. انهن ماڻهن سنڌ ماٿريءَ جي تهذيب جا سڀ کان اوائل شهر ٺاهڻ شروع ڪيا. موئن جو دڙو انهن شهرن مان هڪ آهي.



شڪل 2.4 موئن جي دڙي ۾ پڪين سرن سان ٺهيل گهر ۽ گندي پاڻيءَ جي نيڪال جو بندوبست



شڪل 2.3 موئن جي دڙي ۾ پاڻيءَ جو کوھ

شهر انتهائي وڏي رتائيندي سان ٺهيل هو جنهن ۾ ويڪرا رستا، عمارتون ۽ گهر موجود هئا. عمارتون ۽ گهر پڪين سرن جا ٺهيل هئا. پيٽڻ جي پاڻيءَ لاءِ کوھ ۽ پاڻيءَ جي نيڪال لاءِ سٺو بندوبست هو.




گهرن اندران زيور، گلدان، رڌ پڇاءُ جو سامان، مٽيءَ جا رانديڪا، پٿر ۽ گنجھي يا ڪٽ جو سامان لڌو ويو. هتان نڪر جا ٺهيل ٻارن جا رانديڪا پڻ مليا آهن.



پٿر جي مُهرن جو هڪ وڏو تعداد پڻ هٿ آيو آهي. جن تي تصويرون ۽ لکتون آهن. تاريخي ماهر سمجھي نه سگھيا آهن ته انهن جو مطلب ڪهڙو آهي.



موئن جي دڙي جا ماڻهو اڪثر هاري هئا. اهي چانور، ڪڙڪ ۽ جوئر جو فصل پوکيندا هئا. اهي ماڻهو هنرمند ۽ واپاري هئا. اهي واپاري ايران، عراق ۽ انڊيا جي ماڻهن سان واپار ڪندا هئا.



شروع ٿيڻ کان 800 سال پوءِ، سنڌو ماڻھيءَ جي تهذيب ختم ٿي. اڄ تائين اسان کي اها خبر نه پئجي سگھي آهي ته اها تهذيب ڪيئن ختم ٿي.

ڪجهه تاريخدانن جو خيال آهي ته آرين سان جنگين جي نتيجي ۾ سنڌو ماڻھيءَ جي تهذيب جو

شڪل 2.5 موئن جي دڙي مان مليل زيور ۽ تصويري علامتن واريون سرون ۽ رانديڪا

### ڇا توهان کي خبر آهي؟

ماڻهن جي ڪنهن خاص هنڌ ۽ وقت تي رهڻي ڪهڻي کي تهذيب سڏجي ٿو.

### سرگرمي

پٿر واري زماني جي ماڻهن ۽ سنڌو ماڻھيءَ واري ماڻهن جي زندگي گذارڻ جي طريقي جي پيٽ ڪريو. ٻڌايو ته ان ۾ ڪهڙي هڪجهڙائي ۽ فرق هو.

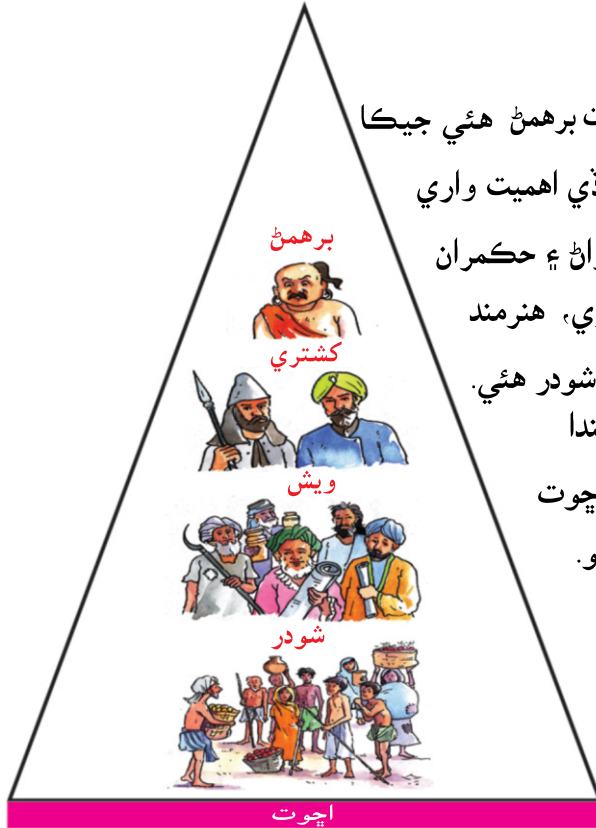
**استاد لاءِ هدايت:** ايشيا جي نقشي تي ايران ۽ عراق ڳولڻ ۾ ٻارن جي مدد ڪئي وڃي، انهن کي ٻڌايو وڃي ته پهرئين باب ۾ ڏنل نقشن بابت سمجھائيءَ واريون مهارتون ڪم آڻين.



خاتمو ٿيو. ڪجهه ماهرن جو خيال آهي ته سنڌو نديءَ پنهنجو رستو تبديل ڪيو هوندو ۽ ان علائقي کي ٻوڙي ڇڏيو هوندو يا ڪا مومتمار بيماري ان تهذيب جي خاتمي جو سبب بڻي. آريا:

سنڌ ۾ آريا تهذيب ٻئي دؤر ۾ آئي. آريا وچ ايشيا ۽ اوڀر يورپ کان آيا ۽ سنڌ فتح ڪيائون. سنڌ جي ماڻهن وانگر ڳوٺن ۾ رهيا ۽ پوکي راهي ڪيائون جيئن ڪڻڪ ۽ جو و غيره. ڳوٺ وقت سان گڏ شهرن ۾ ۽ شهر رياستن ۾ تبديل ٿيڻ لڳا. هر هڪ رياست مٿان هڪ راجا راج ڪندو هو. رياست ۾ رهندڙ ماڻهو مختلف ڌنڌن ۾ ورهايل هوندا هئا. (ڪم ڪار موجب) جيڪو اڳتي هلي ذات پات وارو سلسلو بڻجي پيو. (شڪل 2.6 ڏانهن نهاريو).

### ذات پات وارو نظام



آريا سماج چئن ذاتين ۾ ورهايل هو. سڀ کان اوچي ذات برهمن هئي جيڪا پوڄارين، ڏاهن ۽ فلسفن جي هئي. ان کان پوءِ ٻي وڏي اهميت واري ذات ڪشٽري هئي جنهن ۾ وڏا ويڙهاڪ (جرنيل) اڳواڻ ۽ حڪمران شمار ٿيندا هئا. ٽي ذات وېش هئي. ان ذات ۾ واپاري، هنرمند ماڻهو ۽ هاري شامل هئا. آريا سماج ۾ چوٿين ذات شودر هئي. شودر مزدوري ۽ ٻين ذاتين لاءِ نوڪر جو ڪم ڪندا هئا. ان کانسواءِ هڪ طبقو اهڙو به هو جنهن کي اچوت سڏبو هو جن کي هٿ لائڻ گناه سمجهيو ويندو هو. حقيقت ۾ انهن کي ڪابه ذات پات نه هئي ۽ اهي ذات جي دائري مان خارج ڪيل سمجهيا ويندا هئا. انهن کان نيچ ڪم ورتا ويندا هئا جيئن رستن ۽ توائليٽ جي صفائي، جوتا ڳنڍڻ ۽ مئل جانورن سان منهن ڏيڻ.



شڪل 2.6 ذات پات وارو نظام

ڌار ڌار طبقن جي ماڻهن کي هڪ ٻئي سان ملڻ، گڏجي ڪم ڪرڻ ۽ شادي ڪرڻ جي اجازت نه هئي.

### سرگرمي:

ڊرامي وسيلي هڪ سماج جيڪو ذات پات موجب زندگي گذاريندو هجي ڏيکاريو وڃي ۽ ڊرامي ۾ چئن ئي ذاتين ۽ اچوتن مان هر هڪ جي زندگي ۽ ڪم ڪار کي ڏيکاريو وڃي. ڊرامي ۾ توهان مان فقط هڪ يا ٻه برهمن، ڪجهه ڪشٽري ۽ اڪثر شودر ۽ اچوت جو ڪردار ادا ڪن. ڊرامي ڪرڻ کان پوءِ پاڻ ۾ خيالن جي ڏي وٺ ڪيو ته توهان ذات پات واري نظام جي باري ۾ ڇا ٿا سوچيو. اهو ڪيترو صحيح هو؟ ڇا اهڙو نظام هن وقت سنڌ ۾ رائج آهي؟

## مسلمانن جو اچڻ:



712ع ۾ مسلمانن سنڌ فتح ڪئي. اسلامي لشڪر جي سپهه سالار محمد بن قاسم جي اڳواڻي هيٺ سنڌ کي فتح ڪيو ويو. اهو سڀ ڪيئن ٿيو؟

پيڙين جو هڪ جتو جنهن تي عرب واپاري، سندن مال ۽ عراق جي حڪمران (گورنر) حجاج بن يوسف لاءِ سريلنڪا جي حڪمران طرفان قيمتي تحفا هئا، انهن تي سنڌ جي بندرگاهه ديبل وٽ سامونڊي ڌاڙيلن حملو ڪيو.

شڪل 2.7 محمد بن قاسم

مسافرن کي قيد ڪيو ويو ۽ سندن سامان جي ڦرلٽ ڪئي وئي. حجاج بن يوسف سنڌ جي راجا ڏاهر کي چورائي موڪليو ته سامونڊي ڦورن کي سزا ڏني وڃي، قيدين کي آزاد ڪرايو وڃي ۽ تمام سامان (ڦر ٿيل) جي واپسي کي ممڪن بنايو وڃي، پر راجا ڏاهر انڪار ڪري ڇڏيو. انهي ڪري حجاج بن يوسف، محمد بن قاسم کي راجا ڏاهر جي سلطنت تي حملي ڪرڻ لاءِ موڪليو.

محمد بن قاسم لشڪر ۽ هٿيارن سميت ديبل پهتو. انهن ديبل تي منجنيق ذريعي گولاهن ۽ شهر فتح ڪري ورتو. عرب واپاري (قيدي) توڙي سندن ڪٽنب آزاد ڪرايا ويا. محمد بن قاسم ۽ سندس لشڪر سگهو ئي پوءِ رهيل سنڌ به فتح ڪري ورتي. فتح جو اهو سلسلو ڏکڻ پنجاب ۾ ملتان تائين جاري رهيو ۽ فتح ڪيل سمورو علائقو هڪ نئين صوبي جي حيثيت سان خلافت ۾ شامل ٿي ويو.



شڪل 2.8 منجنيق

نون حڪمرانن سنڌ جي ماڻهن سان سنو ورتاءُ ڪيو، اهو ڏسي ڪيترائي ماڻهو مسلمان ٿيا. هن دور ۾ ننڍي کنڊ ۽ عرب ملڪن جي وچ ۾ واپار وڌيو. خيالن جي مٽا سٽا ٿي ۽ ماڻهن هڪ ٻئي کان گهڻو ئي سکيو.

**استاد لاءِ هدايت:** آريا سماج جي ذات پات واري نظام ۾ برهمڻ اوچي ۾ اوچي ذات سمجهيا ويندا هئا. ان کان پوءِ ڪشتري اهميت واري ذات هئي. داسا جنهن جي معنيٰ آهي غلام سماج ۾ نيچ سمجهيا ويندا هئا. ڌار ڌار طبقن جي ماڻهن کي هڪ ٻئي سان گڏجڻ جي اجازت نه هئي. هو ڌنڌي، مرتبي ۽ شادين لاءِ ڌار ڌار گروهن ۾ ورڇيل هئا. اهڙيءَ طرح ذات پات واري نظام جي شروعات ٿي.

محمد بن قاسم کان پوءِ ڪيترن ئي مسلمان حاڪمن سنڌ تي حڪومت ڪئي. شڪل 2.9 ۾ وقت جي پٽيءَ ۾ ڪجهه حڪمران خاندانن جو حڪومتي دؤر ڏجي ٿو.

<p>مختلف حڪمرانن جو دؤر (1520ع کان 1591ع)</p>  <p>عيسيٰ ترخان جو مقبرو مڪلي (نتو) بين ڪيترن ئي حڪمرانن جهڙوڪ شاھ بيگ ارغون، شاھ حسن ارغون ۽ مرزا عيسيٰ ترخان وغيره حڪومتون ڪيون.</p>	<p>سمن دؤر (1351ع کان 1520ع)</p>  <p>جام نظام الدين سمي جو مقبرو سمن، سومرن کان سنڌ فتح ڪري 175 سالن تائين حڪومت ڪئي.</p>	<p>سومرا دؤر (1050ع کان 1351ع)</p>  <p>سلطان دودي سومري جو مقبرو سومرن سنڌ تي 300 سالن کان وڌيڪ حڪومت ڪئي.</p>	<p>غزنوي دؤر (1026ع کان 1050ع)</p>  <p>محمود غزنويءَ سنڌ فتح ڪئي ۽ ان کي پنهنجي سلطنت سان ملائي ڇڏيائين.</p>
<p>تالپر دؤر (1783ع کان 1843ع)</p>  <p>تالپرن 1783ع ۾ ڪلهوڙن کان اقتدار حاصل ڪري ورتو.</p>	<p>ڪلهوڙا دؤر (1701ع کان 1783ع)</p>  <p>1701ع ۾ سنڌ تي ڪلهوڙن جي حڪومت شروع ٿي. ڪلهوڙن حيدرآباد کي سنڌ جي گاديءَ جو هنڌ بڻايو ۽ هڪ قلعو تعمير ڪرايو، جيڪو اڄ به پڪي قلعي جي نالي سان مشهور آهي.</p>	<p>مغل دؤر (1591ع کان 1701ع)</p>  <p>مغل بادشاهه اڪبر 1591ع ۾ سنڌ فتح ڪئي ۽ ان کي پنهنجي شهنشاهيت جو حصو بڻائي ڇڏيائين.</p>	

شڪل 2.9 سنڌ تي مختلف مسلمانن جي حڪومت جي دؤر جي وقت جي پٽيءَ



مسلمان حڪمرانن جي دؤر ۾ سنڌ ۾ ڪيترائي ترقياتي ڪم ٿيا جهڙوڪ ٽپال جو نظام رائج ٿيو، تعليم ۽ آرٽ ۾ واڌارو آيو، مسجدون ۽ قلعا ٺاهيا ويا، واهه ڪوتايا ويا ۽ اسڪول ڪوليا ويا.



شڪل 2.10 شاهجهان مسجد ٺٽو، عمرڪوٽ جو قلعو عمرڪوٽ

## سنڌ ۾ انگريزن جو اچڻ:

مغلن جي دؤر ۾ انگريز واپاري ٿي سنڌ ۾ آيا. هنن کي هتي واپار جي اجازت ڏني وئي. سگهوئي سنڌ جي ماڻهن جو هنن تان اعتبار ڪجي ويو ۽ انهن کي واپار ڪرڻ کان روڪيو ويو. انگريز ان تي ناراض ٿي پيا.

1839ع ۾ انگريزن ڪراچيءَ تي زوريءَ قبضو ڪري ورتو. هنن اهو قبضو ٽالپرن کان ورتو. 1843ع ۾ انگريزن ۽ ٽالپرن جي وچ ۾ سنڌ ۾ حيدرآباد ويجهو مياڻيءَ نالي هنڌ تي جنگ لڳي. انگريزن جي فتح ٿي ۽ سڄي سنڌ انگريزن جي راڄ جو حصو بڻجي وئي.

حڪومت هلائڻ ۾ آساني پيدا ڪرڻ خاطر انگريزن هندستان کي ننڍن ننڍن انتظامي ڀاڱن ۾ ورهائي ڇڏيو. سنڌ جو انتظام بمبئي پريزيڊنسيءَ (بمبئي پرڳڻي) جي هٿ هيٺ اچي ويو. انهي ڪري وڏو ڦيرو اچي ويو. گورنر جي آفيس حيدرآباد بدران بمبئي ۾ رکي وئي. ڪامورا گهڻو ڪري ٻاهريان هوندا هئا. هو هتان وارن ماڻهن جي ڪم ڪار هلائڻ وارن طريقن کي سمجهي نه سگهيا. هتان جي ماڻهن اها ڳالهه ناپسند ڪئي.

پنهنجي حڪومت جي دؤر ۾ انگريزن جديد مواصلاتي نظام، روڊ ۽ ريلوي لائينون وڇايون. تار جو سرشتو شروع ڪيو ويو. واه ڪوتايا ويا جيئن سنڌو نديءَ جو پاڻي زراعت لاءِ ڪتب آڻي سگهجي. هنن سنڌي زبان جي ترقيءَ ۽ واڌاري لاءِ هڪ پاليسي ٺاهي، جنهن هيٺ تعليم لاءِ مادري زبان کي اهميت ڏني وئي. 1853ع ۾ سنڌي رسم الخط منظور ڪيو ويو، جيڪو اڄ به رائج آهي. ان کان سواءِ ڪيترائي اسڪول ۽ ڪاليج به کوليا ويا ته جيئن ماڻهو تعليم حاصل ڪري سگهن. ڪورٽون ۽ ٿاڻا قائم ڪيا ويا، جيئن ماڻهن کي تحفظ ملي ۽ انصاف پلئي پوي.



ڪوٽڙي پل



سکر بئراج



ڪي اير سي ڪراچي



سيشن ڪورٽ، حيدرآباد



ايمپريس مارڪيٽ ڪراچي



فريئر هال ڪراچي

شڪل 2.11 سنڌ ۾ انگريزن جي دؤر جا ڪجهه ترقياتي ڪم

## آزاديءَ ۽ پاڪستان جو نهڻ:

جيتوڻيڪ انگريزن جي دور ۾ گهڻي ترقي ٿي، پر سنڌ جا ماڻهو خوش نه هئا. هنن کي آزادي گهربل هئي. هتي وارن ماڻهن هڪ تنظيم سنڌ محمدن ايسوسيئيشن نالي جوڙي پنهنجي حقن لاءِ جاکوڙ شروع ڪري ڏني. 1936ع ۾ سندن جدوجهد ڪاميابي ماڻي ورتي. سنڌ کي ڌار صوبي جو درجو ڏنو ويو. 1938ع ۾ سنڌ مسلم ليگ هڪ الڳ وطن جي ڳالهه ڪئي، جنهن ۾ حڪومت ڪرڻ وارا مسلمان هجن. 23 مارچ 1940ع تي لاهور ۾ آل انڊيا مسلم ليگ جي اجلاس ۾ مسلمانن جي اڪثريت وارن علائقن لاءِ الڳ وطن جو ٺهراءُ منظور ڪيو ويو. اسان انهي ٺهراءُ کي پاڪستان جو ٺهراءُ سڏيندا آهيون ۽ هر سال اهو ڏينهن ”پاڪستان جو ڏينهن“ ڪري ملهائيندا آهيون. 1943ع ۾ سنڌ جي قانون ساز اسيمبليءَ هڪ ٺهراءُ بحال ڪيو، جنهن ۾ پاڪستان ٺاهڻ جي گهر ڪئي وئي. 14 آگسٽ 1947ع تي پاڪستان وجود ۾ اچي ويو.




مولانا دين محمد وفائي 1920ع ۾ ليڊي نصرت هارون سنڌ جي مسلمان عورتن ۾ سياسي سجاڳي پيدا ڪندڙ



الوحيد اخبار ڇاپي وطن جي آزاديءَ لاءِ ڪوشش ڪئي.



سر عبداللہ هارون خلافت تحريڪ ۽ سنڌ مسلم ليگ جو اڳواڻ




قائد اعظم محمد علي جناح پاڪستان جو باني ۽ پهريون گورنر جنرل



بيگم رقيه شمس الدين پاڪستان جي قيام جي جدوجهد لاءِ انتهائي اهم ڪردار ادا ڪيو



غلام محمد پرگڙي 1918ع ۾ سنڌ مسلم ليگ جو پهريون صدر



جي امير سيد پاڪستان جي قيام لاءِ جدوجهد ڪئي. سندس ئي ڪوششن جي نتيجي ۾ سنڌ اسيمبليءَ 1943ع ۾ پاڪستان جي حق ۾ ٺهراءُ منظور ڪيو.

شڪل 2.12 سنڌ جون ڪجهه شخصيتون جن پاڪستان نهڻ ۾ مکيه ڪردار ادا ڪيو.



## سند آزادي کان پوءِ:

پاڪستان جي نهڻ کان پوءِ سند ۾ ڪافي تبديليون آيون. سند جي گاديءَ واري شهر ڪراچيءَ کي پاڪستان جي گادي بنايو ويو. هتان جي آبادي وڌڻ لڳي، چاڪاڻ ته روزگار جي ڏس ۾ ماڻهو هتي آيا. آبپاشيءَ جي سرشتي ۾ بهتري آئي ۽ زرعي پيداوار ۾ واڌارو آيو. نين صنعتن جو ڄار وڇايو ويو. خاص ڪري سند جي شهري علائقن ۾ اڳ کان وڌيڪ ٻار اسڪولن ۾ وڃڻ لڳا.



ڪوٽڙي بئراج ڄامشورو



جناح بين الاقوامي هوائي اڏو، ڪراچي



ايگريڪلچر يونيورسٽي ٽنڊو ڄام



فوجي فرٽيلائيزر فيڪٽري ميرپور ماٿيلو

شڪل 2.13 قيام پاڪستان کان پوءِ سند ۾ تبديليءَ جا چند منظر

## اختصار

- هن باب ۾ اسان هينئون ڳالهيون سڳيون آهن.
- قديم زماني (پٿر جي دؤر) کان سند جي تاريخ ۽ تاريخ هر دؤر جي حڪمرانن، ماڻهن جي رهڻي ڪهڻي ۽ هر دور ۾ ٿيل اهم ترقي جي نشاندهي.
- آزاديءَ ۽ پاڪستان جي نهڻ ۾ سند جو ڪردار.

## مشق

### (الف) خال ڀريو:

1. صفحي 23 تي ڏنل مختلف خاندانن جي حڪومتي دورن کي پڙهو ۽ هيٺيان خال ڀريو.
  - (i) محمود غزنوي سن \_\_\_\_\_ ۾ سنڌ فتح ڪئي.
  - (ii) سن \_\_\_\_\_ کان \_\_\_\_\_ تائين سنڌ تي سومرن حڪومت ڪئي.
  - (iii) سن \_\_\_\_\_ کان \_\_\_\_\_ تائين سنڌ تي ڪلهوڙن حڪومت ڪئي.
  - (iv) 1591ع ۾ \_\_\_\_\_ سنڌ فتح ڪئي.
  - (v) تالپرن سنڌ جو اقتدار \_\_\_\_\_ کان حاصل ڪيو.
  - (vi) سن \_\_\_\_\_ کان \_\_\_\_\_ تائين سنڌ تي سمن حڪومت ڪئي.

### (ب) هيٺين سوالن جا جواب ڏيو:

اثر بيان ڪريو:

- (i) محمد بن قاسم جو 711ع ۾ سنڌ اچڻ ۽ ان جو اچ جي سنڌ تي اثر.
  - (ii) انگريزن جو 1843ع ۾ سنڌ فتح ڪرڻ ۽ ان جا موجوده سنڌ تي اثر.
2. سنڌو تهذيب جي ماڻهن جي رهڻي ڪهڻيءَ ۽ اچ جي سنڌ جي ڳوٺن جي ماڻهن جي زندگيءَ جي پيٽ (هڪ جهڙايون ۽ فرق) بيان ڪريو.
  3. سنڌ ۽ پنجاب جي ماڻهن جي رهڻي ڪهڻيءَ جي پيٽ ڪريو، هڪجهڙايون ۽ فرق لکو.
    - (الف) کاڌو جيڪو اهي کائين ٿا.
    - (ب) ڪپڙا جيڪي اهي پهريين ٿا.
    - (ج) ڏڻ جيڪي اهي ملهائين ٿا.
    - (د) رانديون جيڪي اهي ڪن ٿا.
    - (ه) زبانون جيڪي اهي ڳالهائين ٿا.
- توهان پنهنجا جواب هيٺ ڏنل جهڙي ٽيبل ۾ ڏئي سگهو ٿا.

فقط سنڌ ۾	سنڌ ۽ پنجاب ٻنهي ۾ ساڳيو	فقط پنجاب ۾	
			کاڌو پيتو
			ڪپڙا

4. انگريز پهريائين سنڌ ۾ ڪهڙي مقصد سان آيا؟

5. 1947ع ۾ آزاديءَ کان پوءِ سنڌ جي ماڻهن کيئن ۽ ڪهڙي طريقي سان ترقي ڪئي آهي؟

(ج) هيٺ ڏنل ٽيبل جهڙي هڪ ٽيبل ٺاهيو. ان ۾ ڏسيو ته سنڌ جي ماڻهن هر تاريخي دور ۾ ڪهڙن سماجي مسئلن کي منهن ڏنو ۽ انهن مسئلن جو ڪهڙو حل ڳولي ڪڍيائون. گڏوگڏ اهو به لکو ته انهن پيڻين جا ڪهڙا اثر پيا. پهريون توهان جي رهنمائي لاءِ حل ڪيل آهي.

تاريخي دور	سماجي مسئلا	حل	انهن جا اثر
پٿر وارو دور	کاڌي ۽ اجهي جي ان هوند	سنا اوزار ۽ هٿيار ٺاهيائون. پوکي راهي سکيا ۽ کاڌي لاءِ چوپايو مال ڌارڻ شروع ڪيائون. ڪاٺ ۽ ڪچين سرن مان گهر ٺاهڻ شروع ڪيائون.	اوزارن ۽ هٿيارن جو استعمال جاري رکيائون. پر انهن کي وڌيڪ مؤثر بنايائون. زراعت جي ذريعي هر هڪ کي کاڌو ميسر ٿيو. اڄڪلهه اڪثر ماڻهو ڳوٺن ۽ شهرن ۾ رهن ٿا.
سنڌو ماڻھو جي تهذيب			

### (د) عملي ڪم

1. فرض ڪريو ته توهان سنڌو ماڻھو جي تهذيب واري دور ۾ موهن جي دڙي جا رهواسي آهيو. جديد دور جي سنڌ جي چوٿين ڪلاس جي شاگردن ڏانهن هڪ خط لکو ۽ انهن کي پنهنجي زندگيءَ جي باري ۾ ٻڌايو.
2. هن ريت هڪ ٽائيم لائين (وقت جو چارٽ) تيار ڪريو.

1900ع	1800ع	1700ع	1600ع	1500ع	1400ع	1300ع	1200ع	1100ع	1000ع	900ع	800ع	700ع
-------	-------	-------	-------	-------	-------	-------	-------	-------	-------	------	------	------

مختلف رنگن وارين پينسلن کي ڪتب آڻيو ۽ ڏيکاريو:

- (i) سن جنهن ۾ محمد بن قاسم سنڌ ۾ آيو.
- (ii) سن جنهن ۾ محمود غزنويءَ سنڌ فتح ڪئي.
- (iii) سن جنهن ۾ سنڌ تي سومرن جي حڪومت رهي.
- (iv) سن جنهن ۾ سمن سنڌ تي حڪومت ڪئي.
- (v) سن جڏهن ڪلهوڙن جي سنڌ تي حڪومت رهي.

(vi) سن جيڪو سنڌ ۾ تالپرن جو راڄ ڏيکاري.  
 (vii) سن جڏهن سنڌ برطانوي شهنشاهيت جو حصو بڻجي وئي.  
 (viii) سن جڏهن کان انگريز سنڌ جا حڪمران بڻيا.  
 (ix) سن جڏهن پاڪستان وجود ۾ آيو.  
 3. هڪ تائيم لائين (وقت جو چارٽ) ٺاهي ان ۾ جنهن ضلعي ۾ توهان رهو ٿا، ان جا اهم واقعا لکو.

4. (الف) سنڌ جو نقشو ٺاهيو. نقشي ۾ هيٺيون جڳهون ڳوليو.

(i) موئن جو دڙو

(ii) ديبل

(iii) حيدرآباد

(iv) مياڻي

(v) ڪراچي

4. (ب) باب کي پڙهي ٻڌايو ته اهي جڳهون سنڌ جي تاريخ ۾ ڇو اهميت واريون آهن.

#### (ه) تحقيقات

1. ڪجهه سوالن جي مدد سان پنهنجي خاندان جي باري ۾ معلومات حاصل ڪريو (جيئن توهان ڪڏهن ۽ ڪٿان شادي ڪئي) پنهنجي والدين کان پڇو، انهن کان خاندان جي تصويرن جو البم وٺو ۽ ان تي غور ڪيو ته توهان ان مان پنهنجي خاندان جي باري ۾ ڇا سگهي سگهو ٿا. حاصل ڪيل معلومات جي ذريعي پنهنجي خاندان جي ڪهاڻي لکو.

2. (الف) پنهنجي رهاڻشي علائقي جي تاريخ لکو. هن سلسلي ۾ پنهنجي والدين يا وڏي ڄمار وارا ماڻهو جيڪي آڳاٽي وقت کان رهن ٿا، انهن جا انٽرويو ڪريو ۽ پنهنجي علائقي جي تاريخ ترتيب ڏيو.

(ب) پنهنجي علائقي جو نقشو ڪڍي ان ۾ هن وقت جون اهم جايون ڏيکاريو.

#### (و) اضافي سرگرمي:

سنڌ صوبي بابت معلومات گڏ ڪري فائيل ۾ رکو ۽ سڄو سال اهو مواد گڏ ڪندا رهو. سال جي پڄاڻي تي پنهنجي ڪلاسين سان گڏجي گڏ ڪيل معلومات کي جدا جدا قسمن ۾ ورهايو. پنهنجي اسڪول ۾ نمائش جو انتظام ڪري ٻين ڪلاسن وارن کي نمائش ڏسڻ جي دعوت ڏيو. نمائش ۾ موجود شين جي سمجهاڻي يا وضاحت ڪندا هلو.



## سنڌ جي ماڻهن ۽ زمين جو هڪٻئي سان لاڳاپو

شاگردن جي سکڻ جا نتيجا

هن باب جي پڄاڻي تي شاگرد ان لائق ٿيندا ته:

- صوبي جي مختلف طبعي بيهڪ (ميداني علائقن ۽ جبلن) جا نالا بيان ڪري سگهن.
- سنڌ جي نقشي تي صوبي جي طبعي ڀاڱن جي بيهڪ بيان ڪري سگهن.
- جدول جي صورت ۾ طبعي ڀاڱن جي بيهڪ ۽ اتان جي مقامي ماڻهن لاءِ انهن ڀاڱن جي اهميت بيان ڪري سگهن.
- آبادي، آدمشماري ۽ لڏپلاڻ جهڙن اصطلاحن کي سمجهي سگهن.
- آدمشماريءَ جي اهميت کي بيان ڪري سگهن.
- صوبي جي گهاتي ۽ چڊي آباديءَ وارن علائقن جي نشاندهي ڪري سگهن.
- مختلف صوبن ۾ آباديءَ جي واڌ جي نتيجي ۾ پيدا ٿيل مسئلن کي بيان ڪري سگهن.
- اهو سمجهي سگهن ته ماڻهن جي مختلف ڪمن (پيلن جي ڪٽائي، عمارتون ۽ ڊيم ٺاهڻ) جي نتيجي ۾ ڪيئن قدرتي ماحول متاثر ٿئي ٿو.
- قدرتي عملن جي نتيجن ۾ زمين تي ايندڙ تبديلين کي سمجهي سگهن.
- زمين تي آيل تبديليون ڪهڙيءَ ريت زمين تي رهندڙ ماڻهن تي اثر انداز ٿين ٿيون.
- سماجي ايراضيءَ وارن ڪن به ٻن نقشن جي پيٽ ڪري، انهن تي موجود معلومات کي گڏ ڪري ۽ ان معلومات مان نتيجا اخذ ڪري سگهن (معدنيات جي تلاش، ڪارخانا، شهر، آبادي جي گهٽائي).
- صوبي جي جاگرافيائي مسئلن (سر ۽ ڪلر، پيلن جي واڌيءَ) جي باري ۾ تحقيقات ڪري سگهن ۽ حاصل ڪيل معلومات کي ڪلاس جي اڳيان پيش ڪري سگهن.

## سنڌ جي ماڻهن ۽ زمين جو هڪٻئي سان لاڳاپو

### سنڌ جا ماڻهو:

اسان کي خبر آهي ته سنڌ ۾ ڪيترائي ماڻهو رهن ٿا. اهو ڄاڻڻ لاءِ ته سنڌ ۾ ڪيترا ماڻهو رهن ٿا يا سنڌ جي آدمشماري ڪيتري آهي، اسان کي هتي هر ماڻهوءَ جي ڳڻپ ڪرڻي پوندي. اهو طريقو جيڪو ماڻهن جي ڳڻپ ڪرڻ لاءِ ڪتب آندو وڃي ٿو، ان کي آدمشماري چئبو آهي. ايندڙ ڪجهه سالن ۾ اسين سڪنداسين ته آدمشماري يا ماڻهن جي ڳڻپ ڪهڙيءَ ريت ڪئي ويندي آهي ۽ ان ڳڻپ جي اهميت ڪهڙي آهي.

### آدمشماري ۽ ان جي اهميت:

ڪنهن ملڪ جي ماڻهن جي ڪل آبادي ڄاڻڻ لاءِ اتان جي حڪومت آدمشماري ڪرائي ٿي. ڪارڪنن جي خاص جماعت، جيڪا گهر گهر وڃي ماڻهن جي ڳڻپ ڪري، انهن کي ”ڳڻپ ڪندڙ“ يا ”انيوميٽرز“ چيو ويندو آهي. اهي گهر گهر وڃي اتي رهندڙن جو تعداد لکندا آهن. انيوميٽرز آدمشماريءَ دوران نه فقط ماڻهن جي ڳڻپ ڪندا آهن، پر ڪارائتي ڄاڻ جيئن عمر، جنس، شاديءَ واري حيثيت (پرٿيل/اڻ پرٿيل)، مذهب، ٻولي، تعليمي معيار، ملازمت ڪندڙن جو تعداد ۽ سندن ڪم جي نوعيت پڻ گڏ ڪندا آهن.

حڪومت آدمشماريءَ وسيلي گڏ ڪيل انگن اکرن جي آڌار تي ايندڙ وقت لاءِ رٿائون تيار ڪندي آهي. مثال طور: اسڪول ويندڙ ٻارن جي عمر جو انگ سرڪار کي اهو ٻڌائيندو ته ايندڙ سالن ۾ ڪيترن اسڪولن جي ضرورت پوندي ۽ استادن جو ڪيترو تعداد ان لاءِ تيار ڪيو وڃي.


1998ع ۾ ٿيل آدمشماريءَ مطابق سنڌ جي آبادي ٽيهه ملين آهي. اندازي موجب هن وقت سنڌ جي آبادي تقريباً 45 ملين آهي.

## سرگرمي:

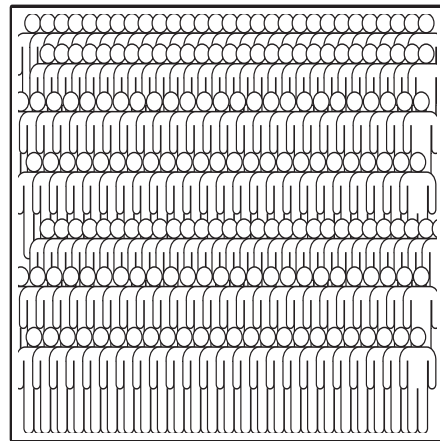
پنهنجي اسڪول ۾ ٻارن جو تعداد معلوم ڪريو. هر ڪلاس ۾ شاگردن جو تعداد، انهن جي پسندیده سبجيڪٽن ۽ پسندیده ٽي وي پروگرام معلوم ڪرڻ لاءِ هڪ سوال نامو تيار ڪريو. ٻارن کي چئن يا ڇهن چئن جي گروپن ۾ ورهايو ته جيئن هو اسڪول جي ڪجهه ڪلاسن مان لاڳاپيل معلومات حاصل ڪن. حاصل ڪيل معلومات گراف جي شڪل ۾ پوري ڪلاس جي آڏو پيش ڪيو. ٻڌايو ته اها معلومات ڪهڙي ريت اسڪول جي لاءِ فائديمند ثابت ٿي سگهي ٿي.

## آبادي جي ورڇ:

جيڪڏهن هڪ چورس ڪلو ميٽر جي ايراضيءَ ۾ ماڻهن جو وڏو تعداد رهندو هجي ته انهيءَ کي ڳتيل آباديءَ وارو علائقو سڏبو. پر جيڪڏهن هڪ چورس ڪلو ميٽر جي ايراضيءَ ۾ ماڻهن جو گهٽ تعداد رهندو هجي ته ان کي چڊي آباديءَ وارو علائقو چئبو آهي. جيئن ٿر جي ريگستاني ايراضي واري علائقي کان ڪراچيءَ ۾ في چورس ڪلو ميٽر گهڻا وڌيڪ ماڻهو رهن ٿا. ڪنهن جڳهه تي آبادي جو مقدار ڪيترن ئي جزن تي انحصار رکي ٿو. ڇا توهان ٻڌائي سگهو ٿا ته ڪراچيءَ ۾ ڳتيل آبادي ڇو آهي؟ ۽ ٿر ۾ چڊي آبادي ڇو آهي؟



چڊي آبادي



ڳتيل آبادي

### شڪل 3.1 آباديءَ جي ورڇ

**استاد لاءِ هدايتون:** ڪلاس ۾ شاگردن کان معلوم ڪريو ته اها معلومات اسڪول لاءِ ڪيتري اهم آهي. اهو يقين ڪيو وڃي ته شاگردن کي گراف ٺاهڻ اچي ٿو. جيڪڏهن انهن کي گراف ٺاهڻ نٿو اچي ته حسابن واري استاد کي چئو ته شاگردن کي گراف سڀڪاري.

سند جي آبادي انتهائي تيزيءَ سان وڌي رهي آهي. آباديءَ ۾ واڌ جا ڪيترائي سبب آهن جيئن خواندگيءَ جي گهٽ شرح، اوائل ۾ ننڍي عمر ۾ شاديون، پٽن کي اوليت ۽ وڏيءَ عمر ۾ سماجي تحفظ جي اڻ هوند وغيره.



گهٽ خواندگيءَ جي شرح



ننڍي عمر ۾ شادي




پٽن کي اوليت




وڏي عمر وارن لاءِ سماجي تحفظ

### شڪل 3.2 آباديءَ ۾ تڪڙي واڌ جا سبب

آباديءَ ۾ واڌ سان ڪيترائي مسئلا پيدا ٿيندا آهن. ڇا توهان کي ڪجهه مسئلن جي خبر آهي؟ ها، رهڻ جي جاءِ جي کوٽ، تعليم جي گهٽتائي، صحت جي سهولتن جي اڻ هوند، بي روزگاري، پاڻي، کاڌي ۽ بجلي جي کوٽ ۽ ٻيا ڪيترائي مسئلا ۽ جهڳڙا.



رهڻ جي جڳهه جي کوٽ



صحت جي سهولتن جي گهٽتائي



بي روزگاري



پاڻي جي کوٽ

### شڪل 3.3 گهڻي آباديءَ جي سبب مسئلا

آباديءَ ۾ واڌ جي مسئلي کي منهن ڏيڻ لاءِ ضروري آهي ته ماڻهن کي ان ڏس ۾ تعليم ڏني وڃي ۽ منجهن شعور پيدا ڪيو وڃي، ته هوانهن مسئلن بابت سوچين، کين همٿايو وڃي ته پنهنجي ڪٽنب کي ننڍو رکن، جنهن ۾ سندن ۽ ملڪ جو پلو آهي.



## ڳوٺن کان شهرن ڏانهن لڏ پلاڻ:

شڪل 3.4 ۾ سنڌ جي نقشي کي ڏسو، جنهن ۾ سنڌ جي شهري ۽ ٻهراڙي جي آبادي وارا علائقا ڏيکاريا ويا آهن. 1998ع جي آدمشماريءَ مطابق سنڌ جي ڪل آباديءَ مان اٽڪل 48.5 في سيڪڙو ماڻهو شهرن ۾ رهن ٿا. جڏهن ته 51.5 في سيڪڙو ماڻهو ڳوٺن ۾ رهن ٿا. هر سال ڪيترائي ماڻهو سنڌ جي ٻهراڙي کان شهرن ڏانهن اچن ٿا.



شڪل 3.4 سنڌ ۾ ٻهراڙي ۽ شهري آباديءَ جو نقشو ۽ ضلعي وار آباديءَ جا انگ اکر

سنڌ صوبي جي 1998ع جي آدمشماريءَ مطابق ڏنل انگ اکر

## ماڻهن جي لڏ پلاڻ جا سبب ۽ اثر:

اهي سبب جيڪي ماڻهن جي لڏ پلاڻ جو اصل ڪارڻ بڻجن ٿا، انهن کي ٻن درجن ۾ ورهائي سگهجي ٿو. هڪڙا ”ڏکيندڙ عنصر“ ۽ ٻيا ”چڪيندڙ عنصر“ جن جو ذڪر هيٺ ڪجي ٿو.

### ڏکيندڙ عنصر:

اهي عنصر جيڪي ماڻهن کي هڪڙي علائقي مان لڏي ڪنهن ٻي ڀاءِ ايراضيءَ ۾ وڃي رهڻ لاءِ مجبور ڪن ٿا، تن کي ڏکيندڙ عنصر چئجي ٿو. شڪل 3.5 ۾ سنڌ جي بهراڙيءَ مان شهرن ڏانهن ڪجهه ڏکيندڙ عنصر ڏيکاريا ويا آهن.



ٻوڏ



خشڪ سالي

شڪل 3.5 لڏ پلاڻ کي ڏکيندڙ عنصر

### چڪيندڙ عنصر:

ڪڏهن ڪڏهن ماڻهو جتي رهي ٿو، اهو هنڌ ڇڏڻ نه چاهيندو آهي، پر ڪيتريون ئي حالتون هن کي چڪي ڪنهن ٻئي علائقي ۾ آڻين ٿيون ڇاڪاڻ ته هو سمجهي ٿو ته کيس اتي زندگيءَ جون بهتر سهولتون ملنديون. شڪل 3.6 ۾ سنڌ جي شهري علائقن ڏانهن چڪيندڙ ڪجهه عنصر ٻڌايا ويا آهن.



تعليم جا موقعا



روزگار جا موقعا



صحت جا موقعا

شڪل 3.6 لڏ پلاڻ کي چڪيندڙ عنصر



لڏ پلاڻ جا شهري ۽ ڳوٺاڻن علائقن جي زندگيءَ تي اثر:

### شهري علائقن تي اثر:



شڪل 3.7 بس تي مسافرن جي رش

- لڏ پلاڻ جي ڪري سهولتن جيئن پاڻي، بجلي ۽ رهائش تي بوجھ پوي ٿو.
- لڏ پلاڻ جي ڪري شهرن جي تعليمي ادارن ۽ صحت مرڪزن تي پڻ بوجھ پوي ٿو.
- بيروزگاري وڌي ٿي.
- اچ وڃ لاءِ گاڏين ۽ بسن تي رش وڌي وڃي ٿي.

### پهراڙيءَ وارن علائقن تي اثر:



شڪل 3.8 هاري بنيءَ ۾ لاٻارو ڪري رهيا آهن

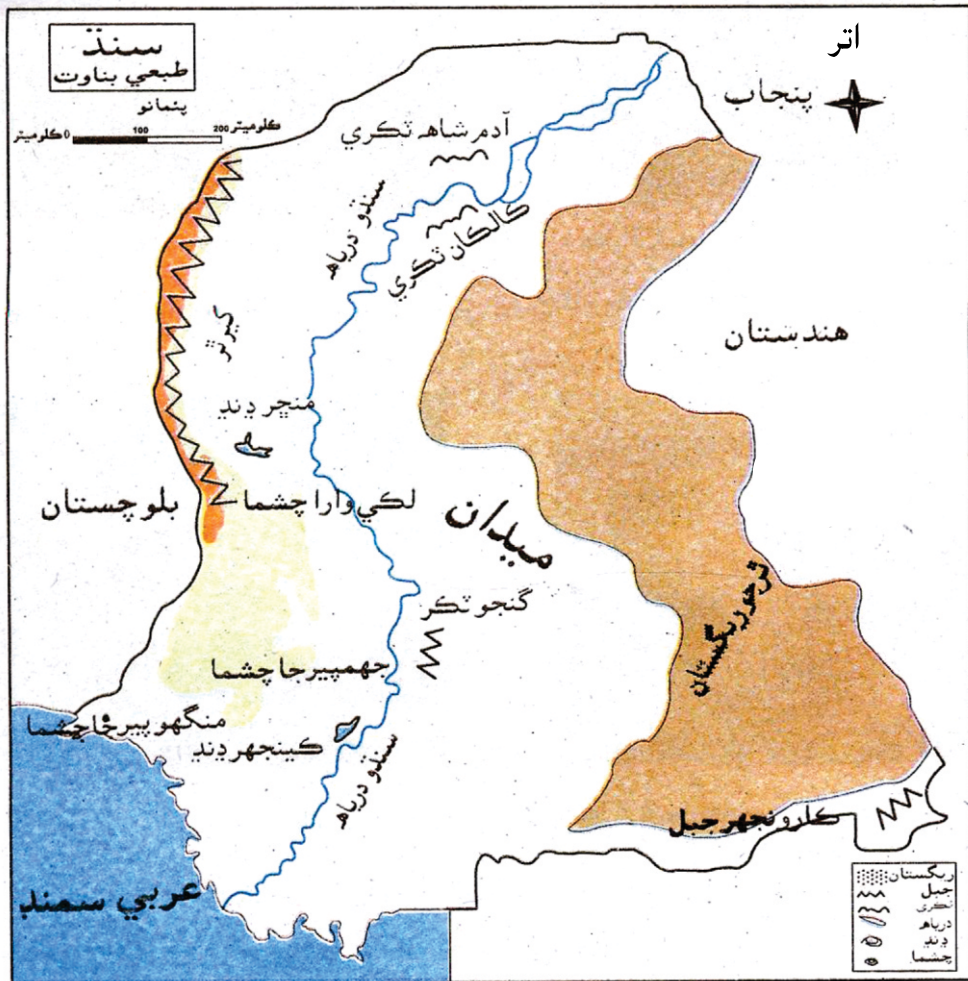
- خانداني زندگي متاثر ٿيندي آهي ڇو جو مردن کي اڪثر گهر ڇڏڻو پوندو آهي.
- مرد گهٽجڻ جي ڪري ڪم ڪار به رليو وڃن.
- پهراڙين کان شهرن ڏانهن لڏ پلاڻ روڪڻ لاءِ، پهراڙين ۾ اهڙيون سهولتون ڏنيون وڃن:
- بهتر شهري سهولتون، جيئن تعليم ۽ صحت ۽
- وڌيڪ روزگار جو سهولتون.

### سنڌ جي زمين:

توهان ٽئين ڪلاس ۾ پڙهي آيا آهيو ته زمين جو مٿاڇرو هر هنڌ هڪجهڙو نه آهي. سنڌ جي زمين جو به ساڳيو حال آهي. شڪل 3.9 ۾ سنڌ جي طبعي نقشي ڏانهن نهاريو. اسان ڪيترائي طبعي ڀاڱا ڏسي سگهون ٿا. اولهه ۾ ڪيرٿر جبل آهي، اوڀر ۾ ٿر جو ريگستان، وچ



سڌو سنئون (ميدان) آهي. جتان سنڌو ندي وهي ٿي، ڏاکڻيان ڀاڱا عربي سمنڊ سان لڳن ٿا، جيڪو سامونڊي ڪنارو سڏجي ٿو.



شڪل 3.9 سنڌ جو طبعي نقشو

## ميدان:

ميدان اهڙيءَ زمين کي چئبو آهي، جيڪا سڌيءَ ۽ لهواري هوندي آهي. شڪل 3.9 ۾ ڏنل سنڌ جي طبعي نقشي ڏانهن ڏسو. توهان کي نظر ايندو ته سنڌ جو اهو علائقو جيڪو کير ٿر جبل ۽ ٿر واري ريگستان جي وچ ۾ اچي ٿو، اهو ميدان آهي. ان کي سنڌ جو هيٺانهون ميداني علائقو سڏجي ٿو. سنڌو ندي اتر کان ڏکڻ طرف ميداني علائقي مان وهي ٿي، انهيءَ ڪري جو سنڌوءَ واري ميدان جو ٿورو لهه سمنڊ طرف آهي. سنڌو نديءَ جو چوڙ عربي سمنڊ ۾ جنهن هنڌ ٿئي ٿو، ان کي سنڌو نديءَ جو چوڙ ”انڊس ڊيلٽا“ سڏجي ٿو.

سنڌ جي زمين آباد ڪرڻ لاءِ واھن ۽ شاخن جو چار وڇايل آھي، جيڪو سنڌو نديءَ مان پاڻي کڻي ٿو، جنھن زمين کي زرخيز بڻائي ڇڏيو آھي. سنڌ جي ماڻھن جو وڏو حصو ان ميدان تي رھي ٿو.



شھر



ڳوٺ

### شڪل 3.10 زمين تي رھندڙ ماڻھو

اھي زمين آباد ڪن ٿا. مکيه فصل چانور، ڪمند، ڪڻڪ ۽ ڪپھ آھن. ٻيا ماڻھو وڏن صنعتي ۽ واپاري مرڪزن مثال طور ڪراچي، حيدرآباد ۽ ڪوٽڙيءَ وغيره ۾ رھن ٿا، جيڪي پڻ سنڌ جا شھر آھن.



ڪمند جو فصل



عورتون ڦٽيون چونڊيندي

### شڪل 3.11 ماڻھن پاران زمين تي پوکيل فصل

ٻيا ماڻھو آفيسن ۾ نوڪري ڪندا آھن، ڪي بازارن ۾ شيون وڪرو ڪندا آھن ته ٻيا وري ڪارخانن ۾ ڪم ڪندا آھن.



بازار ۾ واپار جو ھڪ منظر



ڪنڊ جي ڪارخاني ۾ ڪم ڪندڙ مزدور

### شڪل 3.12 زمين تي ماڻھو ڪاروبار ڪندي



## درياء ۽ نديون:

لڳاتار وهندڙ پاڻي جو قدرتي وهڪرو، جيڪو جبلن تان وهي اچي سمنڊ ۾ پوي، تنهن کي درياءُ يا ندي سڏجي ٿو. جڏهن ته ننڍي ۽ سوڙهي ندي جيڪا مينهن جي موسم ۾ وهي، ان کي نئين سڏجي ٿو.

## سنڌو ندي:

سنڌو ندي پاڪستان جي وڏي ۾ وڏي ندي آهي. هيءَ ندي تبت کان نڪري ڊگهو رستو طئي ڪندي، گلگت وٽان اچي پاڪستان ۾ داخل ٿئي ٿي. عربي سمنڊ ۾ چوڙ ڪرڻ کان اڳ سنڌ



شڪل 3.13 سنڌو ندي

جي ميداني علائقن مان وهندي اچي ٿي. اها 2700 ڪلو ميٽر ڊگهي آهي. سنڌو ندي اسان کي تازو ۽ منو پاڻي فراهم ڪري ٿي. ان کانسواءِ سنڌو نديءَ جو پاڻي گهريلو مقصدن، زراعت ۽ صنعت لاءِ پڻ استعمال ٿيندو آهي. گڏوگڏ سنڌو ندي مني پاڻيءَ جي مچيءَ جو ۽ مواصلات جو اهم ذريعو پڻ آهي.

## نئينون:



شڪل 3.14 نئين گاج

سدا وهندڙ سنڌو نديءَ کانسواءِ ڪيتريون ئي نئينون پڻ آهن، جيڪي فقط مينهوڳيءَ ۾ وهي اينديون آهن. سنڌيءَ ۾ لفظ ”نئين“ فقط ان واھڙ کي چوندا آهن، جيڪو تمام تيزيءَ سان مينهوڳيءَ ۾ جبلن تان وهي اچي سنڌو نديءَ ۾ پوي.

سنڌ ۾ اهڙيون گهڻيون ئي نئون آهن. نئين بارڻ يا باران آهي، جيڪا ڪيرٿر جبل کان وهي ڪوٽڙيءَ جي ڀرسان سنڌو نديءَ ۾ ڪرندي آهي. نئين گاج، نئين ڪانجي ۽ سيتا نئين ڪيرٿر جبل تان وهي ڄامشوري ضلعي جي شهر بوبڪ جي ڀرسان منچر ڍنڍ ۾ اچي پونديون آهن. اهي نئون وڏي اهميت واريون آهن، ڇاڪاڻ ته انهن مان پوک لاءِ پاڻي ملي ٿو.

### سرگرمي:

پاڪستان جي سڀني دريائن ۽ دنيا جي ٽن وڏن دريائن جا نالا لکيو.

### جبل ۽ ٽڪريون:

زمين جو اهو اوجو ۽ وڏو پٿرائون ڀاڱو جيڪو مٿان کان هيٺ لهوارو هجي، تنهن کي جبل سڏجي ٿو. ٽڪريون به جبل وانگر هونديون آهن، پر انهن جي اوچائي ايتري نه هوندي آهي.

### ڪيرٿر جبل:

جبلن جا سڀ سلسلا سنڌ جي الهندي حصي ۾ ”ڪيرٿر“ جبل جي نالي سان سڏجن ٿا. جبلن جي انهن قطارن مان لڪي جبل وارو سلسلو دادو ضلعي مان ٿيندو، ڄامشورو ضلعي ۾ اچي سيوهڻ وٽ پورو ٿئي ٿو. انهن جبلن جي پاڙ وارين ٽڪرين وٽ گرم پاڻي جا چشما آهن، جنهن ڪري ڪيترائي ننڍا قبيلا هتي آباد آهن. هتي جڏهن به وسڪارو ٿيندو آهي ته ان تي پوکون ٿينديون آهن.



شڪل 3.15 ڪيرٿر جبل

انهن جبلن کان سواءِ ٻيون به ڪي تڙيل پڪڙيل ٽڪريون آهن، جن مان ڪي هي آهن:  
(ٽيبل 3.1 ڏانهن نهاريو).

نالو	هند	اهميت	ڪيئن استعمال ڪيو وڃي ٿو
گنجو ٽڪر	حيدرآباد	چن جو پٿر ۽ نارنگي رنگ جي مٽي حاصل ٿئي ٿي.	سيمنٽ جي تياري ۽ عمارتن جي ٺاهڻ ۾ استعمال ٿئي ٿو.
آدم شاهه ٽڪري	سکر	هن ٽڪريءَ جي چوٽيءَ تي ميان آدم شاهه ڪلهوڙي جو مقبرو آهي	
مڪليءَ جون ٽڪريون	نٿو	هن ٽڪرين تي بادشاهن، راڻين، عالمن، صوفين جا مقبرا ۽ مزارون آهن.	
ڪارونجهر جبل	ننگر پارڪر	گرينائيٽ پٿر ملي ٿو.	عمارتن جي خوبصورتيءَ ۾ استعمال ٿيندو آهي.
ڪالڪان جبل	روهڙي (سکر)	چن جو پٿر ملي ٿو.	سيمنٽ جي تياري ۾ استعمال ٿيندو آهي.

ٽيبل 3.1 سنڌ جا اهم جبل ۽ ٽڪريون

## ريگستان يا رڻ پٽ:

وڏي ايراضيءَ تي پڪڙيل واري، جتي گرمي ۽ خشڪي هجي، اتي ساوڪ نالي ماتي ٿئي.

## ٿر جو ريگستان:

سنڌ جي اڀرندي پاسي وارو ڳيل حصو وارياسو آهي. هن ريگستان ۾ واريءَ کانسواءِ ڀٽون ۽ ڀورو پٿر آهي. اتان جون ڀٽون عام طرح 6 کان 30 ميٽر اوچيون آهن. اتي نالي ماتي نباتات



عورتون پاڻيءَ ڀرڻ لاءِ ايندي



انڻ جو قافلو

شڪل 3.16 ٿر جو ريگستان



آهي. ان ۾ پير جا وڻ، ڪرڙ، ٿوهر ۽ ٻيا غير اهم ٻوٽا ۽ گاهه ٿين ٿا. هتان جي زمين جو ڪجهه حصو واهن ۽ شاخن جي وسيلي پوک جي قابل بڻايو ويو آهي. چوپائي مال ۾ ڍڳيون، رڍون، ٻڪريون ۽ اٺ عام جام آهن.

### سرگرمي:

اهو معلوم ڪريو ته پاڪستان ۽ دنيا جي ٻين ڪهڙن ڪهڙن هنڌن تي ريگستان آهن.

### قدرتي چشمو:



زمين اندران نڪرندڙ لاڳيتي وهڪري کي چشمو يا جهڙو چئبو آهي. چشمن جو پاڻي گرم يا ٿڌو ٿي سگهي ٿو. سنڌ ۾ ٿڌي ۽ گرم پاڻي ٻنهي قسمن جا چشمو ملن ٿا. (ٽيبل 3.2 ڏانهن نهاريو).

نالو	هنڌ	اهميت	استعمال
لڪيءَ وارا چشمو	هي چشمو ڄام شوري ضلعي ۾ لڪي شاھ صدر ريلوي اسٽيشن جي ويجھو آهن.	هي گرم پاڻي جا چشمو آهن. گرم پاڻيءَ ۾ گندرف شامل آهي.	ماڻهو هنن چشمن ۾ وهنجندا آهن ڇو جو چمڙيءَ جي بيمارين ۾ ورتل مريضن کي اهو پاڻي شفا ڏئي ٿو.
جهمپير وارا چشمو	هي چشمو ضلعي نٽي ۾ جهمپير اسٽيشن جي ويجھو آهن.	هي چشمو گرم پاڻيءَ جا آهن.	ماڻهو ٿڌي پاڻي جي چشمن تي تفريح لاءِ ايندا آهن.
منگهو پير جا چشمو	هي چشمو ڪراچي جي ويجھو منگهو پير وٽ آهن.	هي چشمو گرم ۽ ٿڌي پاڻيءَ جا آهن.	ماڻهو گرم پاڻي جي چشمن تي وهنجڻ ايندا آهن، ڇو جو چمڙيءَ جي بيمارين ۾ اهو پاڻي شفا ڏئي ٿو.

ٽيبل 3.2 سنڌ ۾ موجود گرم ۽ ٿڌي پاڻيءَ جا چشمو

## ڍنڍون:


پاڻي جي اها ايراضي جنهن جي چوڌاري خشڪ زمين هجي، تنهن کي ڍنڍ چئبو آهي. سنڌ ۾ ڪيتريون ئي ڍنڍون آهن، جن مان ڪي مشهور ڍنڍون هي آهن:

### ڪينجهر ڍنڍ:

ڪينجهر ڍنڍ نئي ۽ جهرڪ شهرن جي وچ تي آهي. ڪينجهر کي سنڌو نديءَ مان پاڻي ملندو آهي. هن ڍنڍ ۾ ڪيترن ئي قسمن جي مڇي ٿئي ٿي. اتي پاڻيءَ جي پڪين جا ولر پڻ ايندا آهن. هي بهترين تفريح وارو هنڌ آهي. ماڻهو هتي آرام واسطي يا بيٺين تي سير ڪرڻ ايندا آهن. سير لاءِ آيل ماڻهو مڇيءَ جو شڪار پڻ ڪندا آهن. سنڌ جي مشهور لوڪ ڪهاڻي ”نوري ڄام تماچيءَ“ جو تعلق پڻ هن ڍنڍ سان آهي.



ڪينجهر ڍنڍ تي ماڻهو گهمندي ڦرندي



ڪينجهر ڍنڍ تي پاڻيءَ جا پڪي

### شڪل 3.17 ڪينجهر ڍنڍ جا ٻه مختلف منظر

## منڇر ڍنڍ:



شڪل 3.18 منڇر ڍنڍ ۾ مهاتا مڇي ماريندي

منڇر ڍنڍ ڄام شوري ضلعي جي شهر بوبڪ ڀرسان آهي. هيءُ ڍنڍ اٽڪل 3 ميٽر اونهي ۽ خشڪ موسم ۾ اٽڪل 30 چورس ڪلو ميٽرن تي پکڙيل هوندي آهي. برسات جي مُند ۾ جڏهن سنڌو نديءَ ۾ گهڻو پاڻي اچي ويندو آهي تڏهن پاڻي اُٿلي وڃي منڇر ۾ پوندو آهي، تڏهن ڍنڍ جي پڪيٽ 500 چورس

ڪلوميٽر ٿي ويندي آهي. هتي مڇي ۽ پڪي تمام گهڻا ملن ٿا.

## زمين ڪيئن تبديل ٿئي ٿي:

قدرتي طور زمين ۾ ڪيتريون ئي تبديليون اينديون رهنديون آهن. انهن مان ڪجهه هيٺ ڏجن ٿيون.

### (1) زميني گدلاڻ:

ماڻهو پنهنجي گهرن مان هر روز ڪيترو ئي گند ڪچرو ٻاهر اڇلائيندا آهن. ساڳيو حال ڪارخانن جو آهي، جيڪي وڏي مقدار ۾ گند ڪچرو ٻاهر ڇڏيندا آهن. اسان جي گهرن واري ڪچري ۾ ڪجهه، جڏهن ته ڪارخانن مان نڪرندڙ گند ڪچري ۾ اڪثر ڪري زهريلو مواد موجود هوندو آهي، جيڪو زمين کي تباهه ڪندو آهي.



گهرن مان نڪال ٿيندڙ گند ڪچرو



ڪارخانن مان نڪرندڙ گدلاڻ

شڪل 3.19 زميني گدلاڻ جا سبب

### (2) آبي گدلاڻ:

گهرن مان نڪرندڙ نالين ۽ نالن جو گندو پاڻي ۽ ڪارخانن مان نڪرندڙ زهريلو مواد پاڻيءَ کي گدلو ڪري ٿو. ان سان گڏ زرعي مقصدن لاءِ استعمال ٿيندڙ جيت مار دوائون ۽ هٿرادو پاڻ به پاڻيءَ کي گدلو ڪندو آهي. پاڻيءَ جي گدلي ٿيڻ جي ڪري مڇيءَ جي تعداد ۾ واضح گهٽتائي ايندي آهي. گڏوگڏ گدلو پاڻي ماڻهن (خاص طور ٻارن) جي موت جو سبب به بڻجي سگهي ٿو.



آبي گدلاڻ



گتر

شڪل 3.20 آبي گدلاڻ




### (3) بيلن جو ويڃڻ:

قدرتي بيلن جي ويڃڻ کي Deforestation سڏيو وڃي ٿو. آباديءَ ۾ واڌ جي ڪري ماڻهو زرعي مقصدن ۽ رهائش جي جاءِ هٿ ڪرڻ لاءِ بيلن کي وڍين ٿا. بيلن جي واڌيءَ جو ترٽ نقصان اهو ٿئي ٿو ته جهنگلي جيوت کان پنهنجا واهيرا (گهر) ڪسجي وڃن ٿا. پر وڏي وقت کان پوءِ اها زمين ريگستان ۾ تبديل ٿي وڃي ٿي. جڏهن وري جابلو بيلن جي واڌي ٿيندي آهي ته ان سان ڇپون ڪرڻ جو خطرو وڌي ويندو آهي.



وڻن جي واڌيءَ جي ڪري جهنگلي جيوت پنهنجي واهيرن کان محروم ٿي ٿي



برف يا پٿر جي ڇپ جو ڪرڻ

شڪل 3.21 وڻن جي ويڃڻ جا نقصان

### (4) سمر ۽ ڪلر:

اسان جي زرعي زمين سنڌو نديءَ مان نڪتل واهن تي آباد ٿئي ٿي. انهن واهن مان پاڻي سمنڊو رهي ٿو، جيڪو زير زمين پاڻيءَ جي سطح ۾ واڌارو آڻي ٿو. زمين اندر موجود لوڻياني معدنيات پاڻي ۾ ڳري ملي وڃي ٿي. ڪڏهن ڪڏهن زير زمين پاڻي مٿي چڙهي اچي ٿو ۽ زمين تي بيهي رهي ٿو. هن عمل کي 'سمر' چئجي ٿو. سج جي ساڙيندڙ آس ۾ پاڻي بخار بنجي اڏامي ويندو آهي ۽ زمين مٿان 'لوڻ جو تھ' ڇڏي ويندو آهي. ان کي ڪلر چئبو آهي. سمر ۽ ڪلر واريءَ زمين تي فصل نه ٿيندو آهي.



سمر جي هيٺ آيل زمين



ڪلرائي زمين

شڪل 3.22 سمر ۽ ڪلر جي ڪري نقصان هيٺ آيل زمين

## (5) زميني کاڌ:

زمين جي مٿاڇري واري تهه کي ”مٽي“ سڏجي ٿو. مٽي معدنيات، چين جي ڌڙڻ ۽ زميني جيتن ۽ سانڀن جهڙن ساهوارن مان ٺهيل آهي. ڀلي مٽيءَ جي مٿاڇري جا ڪجهه سينتي ميٽر، جنهن تي زراعت جو دارومدار آهي، تنهن کي ٺهڻ ۾ سوين سال لڳن ٿا. پر اها ٻوڏن، برساتن ۽ تيز هوائن سبب برباد ٿي سگهي ٿي، ڇو جو اهي سڀ يا انهن مان ڪو هڪ جزو مٽيءَ جي ننڍن ڌڙڻن کي پري تائين کڻي وڃي سگهي ٿو.

### اختصار

هن باب ۾ اسان هيٺيون ڳالهون سڳيون آهن:

- سنڌ جي آبادي: سنڌ جي آباديءَ جي ورڇ ڪيئن ٿيل آهي ۽ ڪجهه علائقا گهاتي جڏهن ته ڪجهه علائقا ڇڏي آباديءَ وارا آهن. آباديءَ ۾ واڌ جا ڪهڙا سبب آهن ۽ آباديءَ جي واڌ کي ڪيئن روڪي سگهجي ٿو. ان کان سواءِ ٻهراڙيءَ کان شهري علائقن ڏانهن لڏپلاڻ جا ڪهڙا سبب آهن ۽ انهن جو ٻهراڙيءَ ۽ شهري علائقن تي ڪهڙو اثر پوي ٿو.
- سنڌ جي زمين هر هنڌ ساڳي نه آهي. ان جو اڪثر حصو ميداني علائقن تي مشتمل آهي، جنهن مان سنڌو ندي وهي ٿي. سنڌ جي طبعي مٿاڇري جي اولهه ۾ کيرٿر جبل، اوڀر ۾ ٿر جو ريگستان ۽ ڏکڻ ۾ عربي سمنڊ واقع آهي.
- هر طبعي ڀاڱي جا ماڻهو اتان جي زمين ۽ پاڻيءَ کي ڪيترن ئي مقصدن لاءِ استعمال ڪن ٿا جيئن: پوکي راهي، مڇي مارڻ، ڪاڻيون کوٽڻ ۽ گهر، آفيسون، ڪارخانا ۽ بازارون ٺاهڻ لاءِ ۽ ان کان سواءِ ڪيتريون ئي شيون ٺاهڻ لاءِ جيڪي بازار ۾ وڪرو ٿين ٿيون.
- ڪڏهن ڪڏهن زمين ۽ پاڻيءَ جو اسان جو ڪيل استعمال ڪيترائي مسئلا جيئن زميني ۽ آبي گدلاڻ، سرم، ڪلر ۽ ٻيلن جي واڌي پيدا ڪري ٿو. اهو ضروري آهي ته اسان اهو سکون ته انهن ذريعن جو استعمال ڪيئن ڪجي.



## مشق

### (الف) هيٺيان خال ڀريو:

1. سنڌ جون ٻه مشهور ڍنڍون \_\_\_\_\_ ۽ \_\_\_\_\_ آهن.
2. حيدرآباد ڀرسان \_\_\_\_\_ نالي ٽڪر آهي.
3. کير ٿر جبل سنڌ جي \_\_\_\_\_ طرف پکڙيل آهي.
4. سنڌو نديءَ جي ميداني علائقن کي \_\_\_\_\_ جي چار وسيلي آباد ڪيو وڃي ٿو.
5. سنڌ جي اوڀر ۾ \_\_\_\_\_ ريگستان آهي.

### (ب) هيٺين سوالن جا جواب ڏيو:

1. سنڌ جا طبعي ڀاڱا بيان ڪريو.
2. سنڌ صوبي جي ايراضي 914، 40، 1 چورس ڪلو ميٽر آهي ۽ آبادي تقريباً 45 ملين آهي. جڏهن ته بلوچستان صوبي جي ايراضي 190، 47، 3 چورس ڪلو ميٽر آهي ۽ آبادي اٽڪل 0.82 ملين آهي. ٻنهي صوبن جي آباديءَ ۾ فرق ڇا ڪي به به سبب بيان ڪريو.
3. هيٺين اصطلاحن کي پنهنجن لفظن ۾ بيان ڪريو.  
(الف) آبادي (ب) آدمشماري (ج) لڏ پلاڻ
4. آدم شماري ڇو ڪرائي ويندي آهي؟
5. پنهنجي لفظن ۾ چڪيندڙ ۽ ڏڪيندڙ عنصرن جي معنيٰ ٻڌايو. ڇا ماڻهو توهان جي علائقي ۾ چڪجي اچي رهيا آهن يا اتان ڏڪجي وڃي رهيا آهن؟ پنهنجي جواب جي وضاحت لاءِ ٽي مثال ڏيو.

(ج) هيٺين ٽيبل ڀريو ۽ ان وسيلي ڏيکاريو ته سنڌ جي هر طبعي ڀاڱي جي بيهڪ ۽ اهميت اتان جي ماڻهن لاءِ ڪيئن ڪارائتي آهي.

طبعي ڀاڱو	بيهڪ	اهميت	ماڻهن لاءِ ڪيئن ڪارائتي آهي

## (د) عملي ڪم:

1. ننڍن گروپن ۾ پني تي سنڌ جو نقشو تيار ڪريو. ان کي هارڊ بورڊ تي چنبڙايو. ان تي مٽيءَ، پٿرين ۽ واريءَ سان سنڌ جا طبعي ڀاڱا ٺاهي ڪلاس وارن کي ڏيکاريو.
2. پوسٽر تيار ڪري ماڻهن کي تفريحي هنڌ صاف رکڻ لاءِ آگاهي ڏيو.
3. سنڌ جو نقشو ٺاهيو جنهن ۾ سنڌ جا طبعي ڀاڱا ڏيکاريل هجن (صفحي 38 تي ڏنل نقشي کان مدد وٺو).
4. صفحي 38 تي ڏنل سنڌ جي طبعي نقشي ۽ صفحي 35 تي موجود سنڌ جي آباديءَ جي ورڇ واري نقشي ڏانهن ٺهاريو. ٻنهي جي پيٽ ڪريو ۽ هيٺين سوالن جا جواب ڏيو:

ڪراچيءَ جي آبادي گهاتي ڇو آهي؟

ٿر جي آبادي ڇڏي ڇو آهي؟

5. سنڌ جو نقشو ٺاهيو. ڪجهه ننڍن پنن تي هر شهر جي آبادي لکو ۽ انهن پنن کي نقشي ۾ موجود لاڳاپيل شهر جي ڀرسان چنبڙايو.

## (ه) تحقيقات:

1. پنهنجي علائقي ۾ سمن، ڪلر ۽ بيلن جي واڌيءَ جي باري ۾ تحقيقات ڪريو. پنهنجي ڪلاس ۾ حاصل ڪيل معلومات ٻڌايو.
2. پاڙي جي ڪن به پنجن گهرن ۾ رهندڙ ماڻهن جي ڳڻپ ڪريو. هر گهر ۾ ڀاتين جو انگ، سندن عمر، تعليم، ڌنڌو ۽ پاڻي، بجلي ۽ گئس جهڙين سهولتن بابت ڄاڻ وٺو. ان ڄاڻ کي گراف، جدول يا خاڪي ۾ آڻيو. گڏ ڪيل انگ اکر ڪلاس جي آڏو رکيو. وضاحت ڪريو ته اها معلومات توهان جي پاڙي لاءِ ڪيئن ڪارائتي ٿيندي.

## (و) اضافي سرگرمي:

1. نوري ڄام تماچيءَ جي ڪهاڻي هٿ ڪريو. ان کي لکو. ڪهاڻيءَ مطابق هڪ خاڪو ٺاهيو. هڪ ڪهاڻين جو ڪتاب ٺاهڻ لاءِ انهيءَ کي گڏ ڪري رکيو ۽ ڪلاس جي لائبريري ۾ رکيو جيئن ٻيا به ان ڪهاڻيءَ کي پڙهي سگهن.

## موسم

شاگردن جي سڪڻ جا نتيجا

هن باب جي پڄاڻيءَ تي شاگرد ان لائق ٿيندا ته

- لفظ موسم جي وصف بيان ڪري سگهن.
- موسم تي اثر انداز ٿيندڙ شين کي بيان ڪري سگهن.
- جدول ٺاهي سگهن، جنهن ۾ موسم کي ماپڻ جا اوزار ۽ ان جي ماپڻ (گرمي پد، داب، هوا، رفتار، طرف، گهم، مينهن ۽ برف يا ڳڙا پوڻ) جا ايڪا ڏيکاريل هجن.
- گهٽ قيمت يا مفت جي سامان مان موسم جي ماپڻ جا اوزار ٺاهي سگهن.
- ڪن به ٻن صوبن جي اونهاري ۽ سياري ۾ گرمي پدن ۽ مينهن وسڻ جي مقدار جي پيٽ ڪري سگهن.
- موسم جي اڳڪٿي، ماپ ۽ اثرن جي اهميت کي سمجهي سگهن.
- نشاندهي ڪري سگهن ته ڪيئن موسمي حالتون انساني جسم تي اثر انداز ٿين ٿيون. (کاڌو پيئو جيڪو اسين کائون ٿا، ڪپڙا جيڪي پايون ٿا ۽ اسان جون تفريحي سرگرميون).
- قدرتي آفتن کان بچڻ لاءِ ڪهڙا حفاظتي انتظام ڪري سگهجن ٿا.

موسم

موسم ڇا آهي؟



ڌرتي گئسن جي تهه ۾ گهيرييل آهي، جنهن کي فضا يا وايو منڊل چئجي ٿو. ڪنهن خاص وقت تي فضا ۾ جيڪا به تبديلي اچي ٿي، سا موسم آهي. موسم گهڻو وقت ساڳي نه ٿي رهي. اها تبديل ٿيندي رهي ٿي. ڪالهه ڪهڙي موسم هئي؟ اڄ ڪهڙي آهي؟

شڪل 4.1 فضا سان گهيرييل ڌرتي

موسم تي اثر وجهندڙ عنصر:

ڪنهن به جڳهه جي موسم بيان ڪرڻ لاءِ ضروري آهي ته اتان جي گرمي پد، هوا جو داب، هوائن جي رفتار، گهم، وايو منڊل (مينهن، برف) وغيره جي باري ۾ ڄاڻ ڏني وڃي.



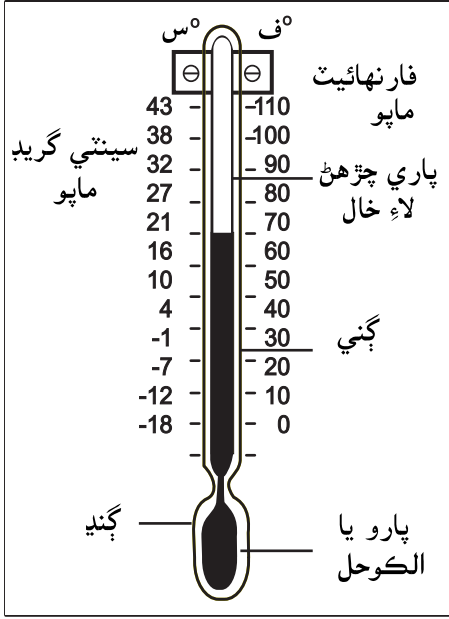
شڪل 4.2 موسم جا ڪارڻ انسانن تي ڪهڙي طرح سان اثر انداز ٿين ٿا

## گرمي پد:



ڪنهن مادي يا جسم جي ڪوساڻ يا تڌاڻ کي گرمي پد سڏبو آهي. ماهر موسميات

هوا جي ڪوساڻ يا تڌاڻ جو اڀياس ڪري ٿو. گرمي پد ماپڻ لاءِ ٿرما ميٽر يا گرمي ماپڻ وارو اوزار استعمال ڪيو ويندو آهي. گرمي پد جو يا گرميءَ جو درجو فارنهيٽ ( $^{\circ}\text{F}$ ) يا سينٽي گريڊ ( $^{\circ}\text{C}$ ) ۾ ماپيو ويندو آهي. اڇڪلهه گهڻو ڪري گرمي پد سينٽي گريڊ ۾ ماپيو ويندو آهي. شڪل 4.3 ۾ هڪ ٿرماميٽر جو خاڪو ڏيکاريو ويو آهي.



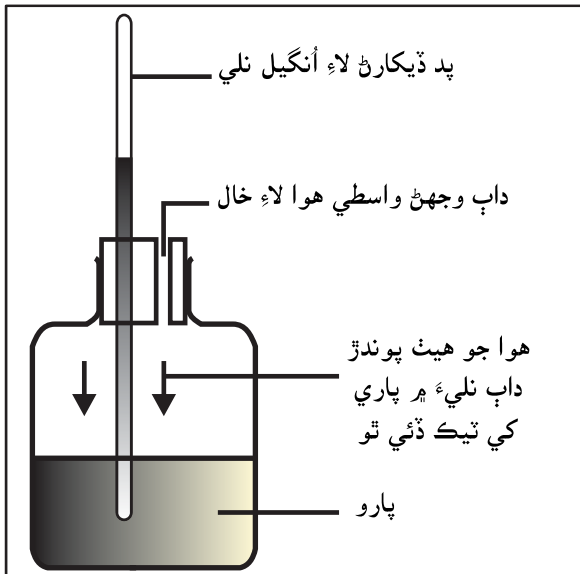
شڪل 4.3 سادو ٿرما ميٽر، ٿرما ميٽر تي گرمي پد  $21^{\circ}\text{C}$  يا  $70^{\circ}\text{F}$  ڏيکاريل آهي

## سرگرمي:

هڪ سادي ٿرما ميٽر جي شڪل ڪيو، ٿرما ميٽر ڪيئن ٿو ڪم ڪري ۽ اهو ڪيئن پڙهيو. ٿرما ميٽر جو استعمال ٿيندا آهن؟

## هوا جو داب (وايومنڊل جو داب):

ڌرتيءَ جي مٿاڇري تي پوندڙ هوا جي داب کي وايومنڊل جو داب به چيو وڃي ٿو. هوا جي داب کي بيروميٽر نالي اوزار سان ملي بار (mb) ۾ ماپيو ويندو آهي. شڪل 4.4 بيروميٽر ڏيکاري ٿي.



شڪل 4.4 عام قسم جو بيروميٽر ڪهڙيءَ طرح ڪم ڪري ٿو

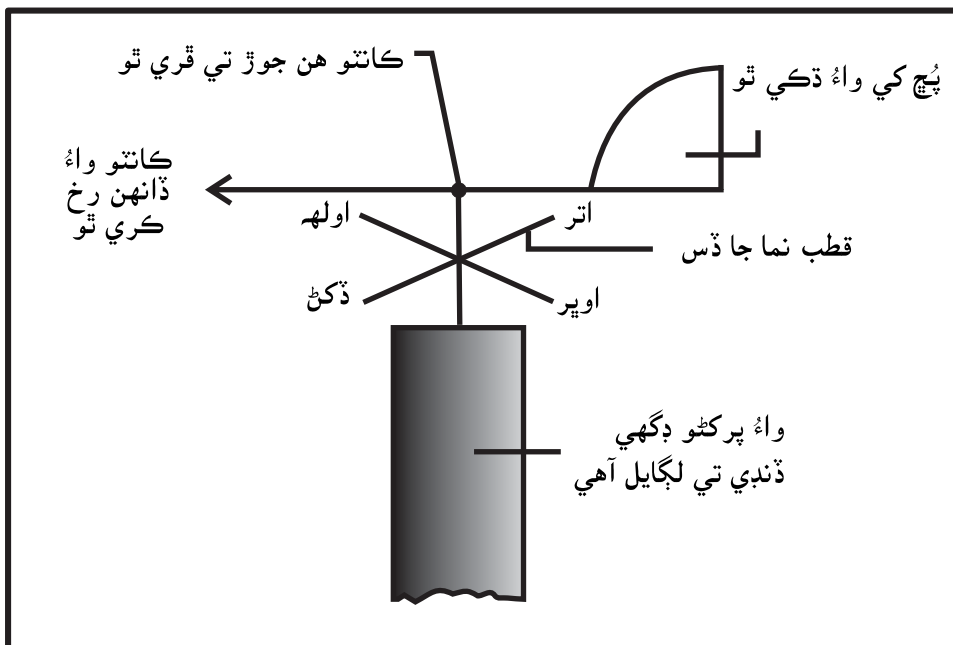
استاد لاءِ هدايتون: اسڪول ۾ ٿرما ميٽر آڻيو. سمجهائي ڏيو ته اهو گرمي پد ڪيئن ٿو ڏيکاري. ٿرما ميٽر گرم پاڻي ۾ وجهي شاگردن کي ڏيکاريو ته پارو ڪيئن ٿو مٿي چڙهي. پارو هيٺ لاهڻ لاءِ ٿرما ميٽر کي جهٽڪو ڏيو.



## هوائون (واء):



ڌرتي جي مٿاڇري تي هوا جي چرپر کي هوا يا واءُ چئجي ٿو. موسميات جا ماھر هوائن بابت ٻن شين ۾ دلچسپي وٺندا آهن. انهن جو رخ (هوا ڪهڙي طرف هلي رهي آهي) ۽ ان جي رفتار (يعني هوا ڪيتري تيز لڳي رهي آهي). هوا جو رخ، واءُ پرڪڙي يا واءُ ڏسڻي سان معلوم ڪري سگهجي ٿو. جيئن شڪل 4.5 ۾ ڏيکاريل آهي. واءُ پرڪڙو عام طور ڪنهن عمارت جي مٿانهين حصي تي رکيو وڃي ٿو، جيئن ڪابه شيءِ هوا جي چرپر کي نه روڪي.



شڪل 4.5 واءُ ڏسڻي ٺاهڻ وقت قطب نما ضروري لڳايو، جيئن واءُ ڏسڻي جا طرف ۽ قطب نما جا بنيادي طرف پاڻ ۾ ملي سگهن.

واءُ پرڪڙي ۾ هڪ ڪاتو ٿئي ٿو، جڏهن واءُ ان جي ويڪري پُچ سان لڳندو آهي، تڏهن اهو ڪاتو بنا ڪنهن روڪ توڪ جي چرڻ لڳندو آهي. واءُ ويڪري پُچ کي پوئتي ڏڪيندو ويندو آهي، ايستائين جو ڪاتو سڌو واءُ جي رخ ڏانهن ٿي ويندو آهي. واءُ پرڪڙي جي هيٺان لڳل قطب نما، واءُ جو رخ سڃاڻڻ ۾ مدد ڪندو آهي.

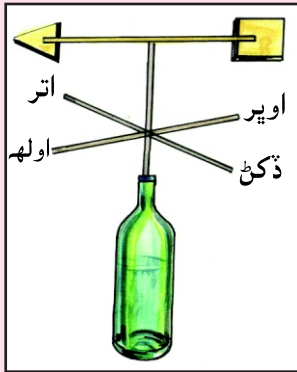
**استاد لاءِ هدايتون:** شڪلين کي ڏسي شاگردن کي سمجهائي ڏيو ته ڪيئن ”هوا جو رخ ڏسڻي“ ۽ ”رفتار ڪيچي“ هوا جو رخ ڏسڻن ٿا ۽ هوا جي رفتار رڪارڊ ڪن ٿا. ”هوا جو رخ ڏسڻي“ ۽ ”رفتار ڪيچي“ اهڙي هنڌ رکيو جتي هوا کي ڪو رنڊائڻ وارو نه هجي. شاگردن کي انهن جو ڪم ڏيکاريو ۽ کائڻن هوا جو رخ ۽ رفتار لکرايو.

## سرگرمي:

هوا يا واء پرکڻي تيار ڪريو. اهڙي هنڌ رکو جتي ان کي هوا ڇهي، هوا جي رخ جي داخلا رکو. داخلا پوري هفتي جي رکي وڃي.

گهربل شيون:

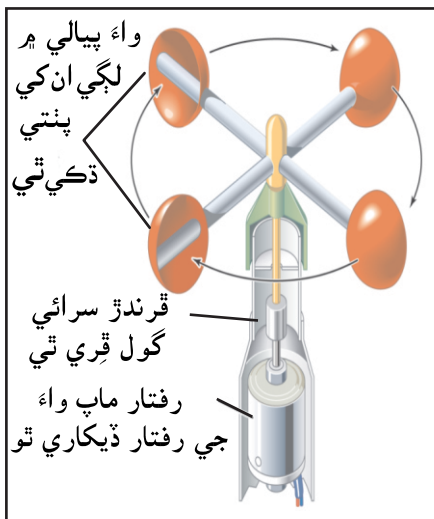
- 16 انچ ڪاٺي تير لاءِ
- 8 انچ وارا ڪاٺي (ٻه قطب نما لاءِ ۽ هڪ ان لاءِ جهل)
- خالي پاڻيءَ جي بوتل
- واري
- پانو
- هڪ سنهو ۽ ڊگهو ڪوڪو يا ڪلي



تياري

1. ڪاٺي جي هر چيڙي تي چير ٺاهيو.
2. پاني جي ڪاغذ مان طرف ٺاهيو. انهي کي ڪاٺ جي چيڙن سان چنبڙايو. وڏو ٽڪر پچ لاءِ ۽ ننڍو ٽڪر تير تي ڏسڻ لاءِ. انهن کي ڪاٺي جي چيڙن تي ٺاهيل چيرن ۾ رکو جيئن شڪل ۾ ڏيکاريو ويو آهي.
3. ڪاٺ جي پوري وچ تي سنهو ڪوڪو لڳايو. ان تي قطب نما پڻ رکو. هوا جو رخ پرکڻي لاءِ کي هڪ ڪاٺ جي ٽڪر تي بيهاريو.
4. واريءَ سان پيريل بوتل ۾ ڪاٺي لڳايو.

## هوائن جي رفتار:



شڪل 4.6 واءِ جي رفتار ماپڻو

واءِ جي رفتار ”انيموميٽر“ ذريعي ”ناتن“ يعني (ڪلاڪ سامونڊي ميلن) ۾ ماپي ويندي آهي. انيموميٽر ”واءِ جي رفتار ماپڻو“ ۾ ڪجهه پيالا هڪ ڦرندڙ سرائيءَ سان ڳنڍيل هوندا آهن. هوا پيالي ۾ لڳي ان کي پوئتي ڏکي ٿي، جنهن جي نتيجي ۾ سرائي ڦرڻ لڳندي آهي. سرائي جو ڦيرو رفتار ماپڻي جي رڪارڊ تي واءِ جي رفتار ڏيکاري ٿو.

## سرگرمي:

هڪ انيموميٽر استاد جي مدد سان تيار ڪريو. ٻڌايو ته اهو ڪيئن ٿو ڪم ڪري؟

گهربل شيون:

1. 2 ننڍا رپڙ يا پلاسٽڪ جا بال (ٻه ٽڪر ٿيل)

2. 8 انچن وارا ٽي ڪاٺ جا ٽڪرا (ٻه ٽڪرا پيالن لاءِ ۽ هڪ ٽڪرو پيالن جي جهل طور)

3. ڪوڪو هڪ

4. پاڻيءَ واري خالي بوتل

5. واري

6. چار ٽوپز پنون

تياري:

1. رپڙ جي بال کي اڏو اڏ ڪريو.

2. انهن کي ٻنهي ڪاٺين جي چيڙن تي ٽوپر پنن سان لڳايو.

3. هيٺئين بورڊ (ڪاٺ جي ٽڪري) تي ڪوڪو هڻي، ڪوڪو مٿي ڪري ان جي

جهنب تي ٻئي ڪاٺيون هڻو. انهن جي ڦرڻ جي پڪ ڪريو.

4. ڪاٺي بوتل ۾ وجهي واري پري ان ۾ رکو.



## گهر:




شڪل 4.7 آبي چڪر

فضا يا وايو منڊل ۾ پڻ پاڻيءَ جو بخار يا ٻاڦ موجود رهي ٿي. اهو بخار گهڻو ٿڌو بخارجڻ (گرمي جي ڪري پاڻيءَ جو پاڻيٺ مان گئس ۾ مٽجڻ) واري عمل وسيلي ڌرتيءَ جي مٿاڇري تان هوا ۾ وڃي ٿو. وايو منڊل ۾ موجود پاڻي جي مقدار کي گهر چئبو آهي. هوا ۾ گهر جو دارومدار گهڻو ڪري مٿاڇري تي ٿئي ٿو، جتان هوا لنگهي ٿي. جنهن هوا سمنڊ يا ڍنڍ مٿان لڳندي، گهڻو مفاصلو طئي ڪيو هوندو، سا پاڻ سان پاڻيءَ جي بخارن جو ڳچ حصو کڻي ٿي، تنهن ڪري ان هوا ۾ گهر به گهڻي ٿئي ٿي. جنهن هوا زمين تان ڊگهو مفاصلو طئي ڪيو هوندو سا وڌيڪ خشڪ هوندي.

## مينهن يا برف پوڻ:



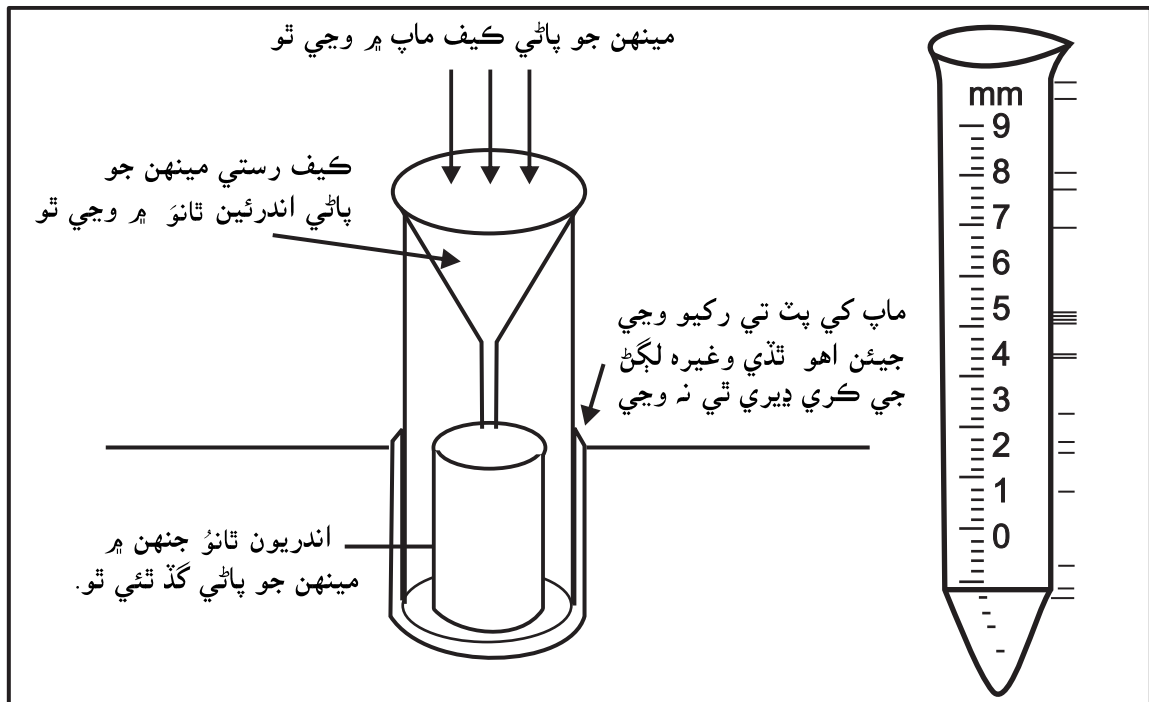
وايو منڊل ۾ موجود پاڻيءَ جا بخار ٿڌا ٿيڻ سبب وري پاڻيءَ جي صورت وٺندا آهن. انهيءَ عمل کي ”گهاتو ٿيڻ“ چئبو آهي. شروع ۾ پاڻيءَ جا ڦڙا تمام ننڍا ۽ ايترا ته هلڪا هوندا آهن جو اهي فضا ۾ ترندا رهندا آهن، جنهن جي نتيجي ۾ ڪڪر ٺهي پوندا آهن. پاڻيءَ جو بخار جيئن جيئن گهاتو ٿيندو آهي، تيئن تيئن پاڻيءَ جا ننڍڙا ڦڙا پاڻ ۾ ملي وڌيڪ ٿلها ٿي پوندا آهن ۽ ڳرا ڪڪر ٺهي پوندا آهن. اهي ڪڪر ڌرتيءَ جي مٿاڇري تي برسات جي صورت ۾ وسي پوندا آهن. (جڏهن گرميءَ جو



درجو مٿي هوندو آهي). برف يا ڳڙا اهڙيءَ حالت ۾ جڏهن گرميءَ جو درجو گهٽ هوندو آهي، هن کي مينهن پوڻ يا برف ڪرڻ سڏبو آهي. شڪل 4.9 ۾ ”رين گيج“ ۽ ”مينهن ماپ“ ڏيکاريل

شڪل 4.8 برسات ۽ برف باري

آهي، جيڪو مينهن جو مقدار ماپڻ لاءِ ڪتب اچي ٿو. مينهن جو مقدار ملي ميٽرن ۾ ماپيو ويندو آهي.



شڪل 4.9 رين گيج آلو ۽ پيمائشي سلينڊر




## سرگرمي:

هڪ رين گيج تيار ڪيو

گهربل شيون

1. هڪ لٽر واري خالي بوتل پاڻيءَ واري
2. 50 ملي ليٽر پاڻيءَ واري خالي بوتل
3. هڪ ڪئنجي



تياري

1. پاڻي جي خالي بوتل يا شيشو مٿان ڪٽيو.
2. ننڍي شيشي يا بوتل جي چوٽي ڪپي لاهيو.
3. ننڍي شيشيءَ جي لٿل سسي مان ڪيمو يا ڪيف بڻايو.
4. ڪيمي مان پاڻي نايو ڏسو ته مينهن جو پاڻي گڏ ٿو ٿئي.

## موسم کي ماپڻ، ڪچڻ ۽ ان بابت اڳڪٿي ڪرڻ:

موسم واري اڀياس يا علم واري سائنس کي ميٽرالاجي سڏجي ٿو. ميٽرالاجيءَ کي موسميات به سڏبو آهي. اها ڄاڻ رکندڙ ماهر کي ماهر موسميات سڏجي ٿو. موسميات اسٽيشن تي موسم يا آب هوا کي ڇاڇڻ جا اوزار رکيل هوندا آهن ۽ ماهر موسميات هر روز جي موسم کي ڇاڇيندا آهن ۽ موسم (گرمي پد، گهم ۽ مينهن) جو رڪارڊ به رکندا آهن. انهن سالن جي رڪارڊ جي مطالعي کان پوءِ ماهر موسميات ڪنهن جڳهه جي آب هوا (Climate) کي سمجهندا آهن. اهي موسمن جي باري ۾ اڳڪٿي پڻ ڪندا رهندا آهن. يعني ماهر اهو ڏسندا آهن ته ايندڙ وقت ۾ موسم ڪهڙي رهندي. ان جي مدد سان اسان گرمي يا سردي مطابق ڪپڙا پائي سگهندا آهيون ۽ طوفانن ۽ ٻين قدرتي آفتن سان مقابلو ڪرڻ ۾ پڻ مدد ملندي آهي.

عام قدرتي آفتون ۽ بچاءَ جون تدبيرون:

### خشڪ سالي ۽ ٻوڏ:

موسم جا ڪجهه ناڪاري اثر پڻ هوندا آهن. ڪڏهن ڪڏهن، ڪجهه جاين تي ڪيترن ئي سالن ۾ يا ته مينهن پونديو ئي ناهي، پر جي مينهن وسندو آهي ته اهو تمام ٿورو هوندو آهي. خشڪيءَ جي انهن عرصن کي خشڪ سالي چئبو آهي. خشڪ ساليءَ جي ڪري پوکي راهي تمام مشڪل ٿي پوندي آهي ۽ وڏي تعداد ۾ جانور مري ويندا آهن. نتيجي ۾ کاڌي جي کوٽ ۽ ڌڪار پوندو آهي. ڪڏهن ڪڏهن وري ايترو ته وڌيڪ مينهن پوندو آهي جو عام طور تي خشڪ علائقا پاڻيءَ هيٺ اچي ويندا آهن. ان کي ٻوڏ سڏبو آهي. ٻوڏون مال ملڪيت کي تباهه ڪري ڇڏينديون آهن ۽ ڪيترين ئي قيمتي جانين جو نقصان پڻ ٿيندو آهي.



ٻوڏ



خشڪ سالي

شڪل 4.10 ٻوڏ ۽ خشڪ ساليءَ جا ٻه منظر

### واچوڙا:



شڪل 4.11 سامونڊي طوفان جو منظر

ڇا توهان کي خبر آهي ته آمريڪا (USA) جي ڀرسان ايندڙ واچوڙن کي هريڪين (Hurricane) چئبو آهي. جڏهن ته ڏکڻ چيني سمنڊ ڀرسان ايندڙ واچوڙن کي ٽائيفون (Typhoon) سڏجي ٿو.

واچوڙا اهي سخت طوفان هوندا آهن جيڪي خطن (Tropics) جي ويجهو سمنڊ جي مٿان ايندا آهن. اهي تيز هوائون ۽ وڏا مينهن آڻيندا آهن. انهن جي ڪري عام ماڻهن جي روزمره جي زندگي سخت متاثر ٿئي ٿي، جيئن روڊن ۽ ريلن جو مواصلاتي نظام متاثر ٿئي ٿو ۽ بجلي ۽ پاڻيءَ جي سهولتن جو نظام پڻ درهم برهم ٿئي ٿو.

## زلزلا:

ڌرتي جي مٿاڇري جي اوچتو لڏڻ ۽ ڦرڻ کي زلزلا چئبو آهي. اهي ڪيئن ايندا آهن؟ ڌرتي جا چار وڏا ته آهن: اندريون ته، ٻاهريون ته، مينٽل ۽ ڪرسٽ. ڪرسٽ ۽ مينٽل جو مٿيون حصو گڏجي ڌرتيءَ جي مٿاڇري جي سنهي ڪل ٺاهين ٿا، پر هيءُ ڪل هڪ حصي تي مشتمل نه آهي مگر اها ڪيترن ئي منجهيل (ورن وڪڙن واري) حصن جي ٺهيل آهي ۽ ڌرتي جي سڄي مٿاڇري تي پکڙيل آهي. اسين انهن ورن وڪڙن وارن حصن کي ٽيڪٽونڪ پليٽس چوندا



آهيون ۽ انهن پليٽن (پٿر جا تمام وڏا حصا جن مان ڌرتيءَ جو مٿاڇرو ٺهيل آهي) جي ڇيڙن کي، پليٽن جون سرحدون سڏيندا آهيون. جنهن جڳهه تي پليٽن جون سرحدون ملن ٿيون، ان جاءِ تي زمين جي ڪرسٽ ۾ ڦاٽ آهن، جن کي فالٽ سڏبو آهي. ڌرتي جي چوڌاري اڪثر زلزلا انهن فالٽن تي ايندا

آهن. اهي پليٽون اڪثر ڪري حرڪت ۾ رهن ٿيون ۽ هڪٻئي جي مٿان چڙهي وڃن ٿيون. ڪڏهن ڪڏهن پليٽ جون سرحدون هڪٻئي سان چنٻڙي پونديون آهن، پر پليٽون هر وقت حرڪت ۾ رهنديون آهن. آخرڪار جڏهن پليٽ هڪ حد کان وڌيڪ حرڪت ڪري چڪندي آهي ته اهي چنٻڙيل سرحدون وڏي زور سان هڪٻئي کان جدا ٿينديون آهن ۽ نتيجي ۾ زلزلا ايندا آهن. زلزلا وڏن علائقن تائين محسوس ڪري سگهجن ٿا. جيتوڻيڪ اهي فقط هڪ منٽ کان به ٿوري عرصي تائين رهن ٿا.

## قدرتي آفتن کان بچڻ جون حفاظتي تدبيرون:

قدرتي آفتن کان بچڻ ۽ حفاظت لاءِ اهو ضروري آهي ته قدرتي آفتن جي اچڻ کان پهريائين ۽ پوءِ ڪجهه تدبيرون ڪيون وڃن.

اڳئين صفحن تي قدرتي آفتن (زلزلن، ٻوڏن، طوفانن ۽ برف ۽ مٽيءَ جون ڇيڙون ڪرڻ) کان پهريائين ۽ پوءِ ڪرڻ وارين تدبيرن جي فهرست ڏنل آهي.

## زلزلي اچڻ کان پهريائين ڇا ڪجي؟

اهو يقيني بنايو ته توهان وٽ باهه وسائڻ وارا اوزار، ترت طبي امداد جو سامان، هڪ بيٽريءَ تي هلندڙ ريڊيو، برقي لالٽين ۽ اضافي بيٽريون توهان جي گهر ۾ موجود آهن.

- ترت طبي علاج ڪرڻ سگهو.
- گئس، بجلي ۽ پاڻيءَ کي بند ڪرڻ سگهو.
- اها رٿابندي ڪريو ته هڪ زلزلي اچڻ کان پوءِ پنهنجي خاندان سان ڪٿي ملجي.
- پنهنجي اسڪول ۾ زلزلي بابت رٿابندي جو پروگرام بنايو.

## زلزلي کان پوءِ ڇا ڪجي؟

- خاموش رهو.
- پنهنجي ۽ ٻين جي جاچ ڪريو ته ڪنهن کي ڪو زخم ته نه رسيو آهي ۽ جنهن کي به ترت طبي امداد جي ضرورت آهي، ان کي اها فراهم ڪريو.
- ريڊيو کوليو ۽ ايمرجنسيءَ کانسواءِ فون جو استعمال نه ڪريو.
- تباهه ٿيل علائقن ۽ عمارتن کان پري رهو.
- پگڊل شيشن جي ٽٽل ٽڪرن کان پري رهو ۽ پنهنجي پيرن کي ڪٽجڻ کان بچائڻ لاءِ جوتا پائي رکيو.
- جيڪڏهن توهان اسڪول ۾ آهيو پوءِ يا ته حادثن واري رٿابندي (ايمرجنسي پلان) تي عمل ڪريو يا اتي موجود ڪنهن ذميوار جي هدايتن تي عمل ڪريو.



- ان ڳالهه کي يقيني بڻايو ته توهان جي گهر جي ڪنهن وڏي ڀاتيءَ پاڻي، گئس ۽ بجلي جي لائينن کي ٿيل ڪنهن امڪاني نقصان جي جاچ پڙتال ڪئي آهي. جيڪڏهن ڪنهن هڪ کي نقصان رسيو آهي، ته انهن نلڪن ۽ لائينن کي چڱيءَ طرح بند ڪرڻ گهرجي. گئس جي بدبوءَ جي پڻ جاچ ڪرڻ گهرجي. جيڪڏهن توهان کي گئس جي بدبوءَ اچي، ته سڀ دريون ۽ دروازا کوليو ۽ فوري طرح سان گهر خالي ڪري لاڳاپيل اختيارين کي اطلاع ڪريو (ڪنهن ٻئي جي فون کي استعمال ڪندي).




### ٻوڏ کان پهريائين:

- ان ڳالهه جو تعين ڪريو ته امڪاني طور تي توهان جو علائقو ڪيئن ٻڌي سگهي ٿو.
- ان ڳالهه کي يقيني بنايو ته علائقي ۾ توهان جي خاندان کي ٻوڏ جو اڳواٽ اطلاع ملي سگهي.
- هر روز موسم جون خبرون ٻڌندا ڪريو.
- ٻوڏ ستيل علائقن مان نڪرڻ جي رٿابندي ڪريو ۽ ان ڳالهه کي يقيني بنايو ته خاندان جا سڀ ماڻهو پنهنجون پنهنجون ذميواريون سمجهن ٿا.
- پنهنجي خاندان ۽ چوپائي مال جي محفوظ علائقي ڏانهن نڪرڻ جي نشاندهي ڪريو ۽ بين کي پڻ ان جي باري ۾ آگاهه ڪريو.
- کاڌي جو اهڙو ذخيرو رکو جنهن کي ٿوري پچائڻ ۽ ٿڌي ڪرڻ جي ضرورت پئي.

## ٻوڏ کان پوءِ:

- پنهنجي گهرن ۾ داخل ٿيڻ کان پهريائين احتياطي طور تي برقي تارچ استعمال ڪريو. لائين يا ڏيئو استعمال ڪرڻ کان پرهيز ڪريو ڇو جو گهر اندر اهڙيون شيون ٿي سگهن ٿيون جن کي آسانيءَ سان باهه لڳي سگهي ٿي.
- باهه جي خطري کان هوشيار رهو ڇو جو ڪا تنل تار موتمار ٿي سگهي ٿي. جيستائين بجليءَ جي لائينن جي چڱيءَ طرح جاچ نه ڪريو، بجليءَ تي هلندڙ ڪي به اوزار شروع (آن) نه ڪريو.
- ايستائين کاڌو نه کائو ۽ پاڻي نه پيئو، جيستائين اهو معلوم ڪريو ته اهو ٻوڏ جي پاڻي جي گدلاڻ کان بچيل آهي.
- ڪنهن به عام نفعي واريءَ لائين (بجليءَ، پاڻيءَ، گئس ۽ ٽيليفون) جي ٽٽڻ جي صورت ۾ لاڳاپيل اختيارين کي اطلاع ڪريو.
- بيماريءَ کان محفوظ رهڻ لاءِ صحت کاتي جي اختيارين سان رابطو ڪريو.
- ٻوڏ جي پاڻيءَ ۾ ڪيڏڻ کان پرهيز ڪريو ڇو جو ان سان توهان بيمار ٿي سگهو ٿا.



## طوفان جي اطلاع ملڻ کان پوءِ:

- پاڻيءَ جي برتن ۽ برنين کي پيئڻ جي پاڻيءَ سان ڀري رکيو.
- پنهنجي گهر جي سامان جي فهرست تيار ڪريو.
- پنهنجي ڪار/موٽر سائيڪل کي ٻارڻ (فيول) سان ڀري رکيو ۽ ان کي ڪنهن سخت ڍڪ هيٺان بيهارڻ چڏيو. پنهنجي ڏاند گاڏين ۽ بيٽرين کي ڪنهن علائقي جي مضبوط جاين وٽ، جنهن جي مٿان سخت ڇت هجي ۽ وڻن کان پري ٻڌي چڏيو. ڪريل وڻ بيٽرين ۽ ڏاند گاڏين کي پڇي سگهن ٿا.

- سڀ دروازا ۽ دريون بند ڪري ڇڏيو ۽ گهرن اندر رهو.
- هنگامي حالت واري سامان سان گڏ پنهنجا گرم ڪپڙا، ضروري دوائون، قيمتي دستاويز، پاڻي، اڻ رڌيل (سڪل) کاڌو ۽ ٻيون قيمتي شيون پاڻي روڪ (واٽر پروف) ٿيلهن ۾ گڏ ڪڍو.
- پنهنجي مقامي ريڊيو/ٽي وي کي ٻڌڻ سان گڏ مقامي چٽاڻ واري نظام سان رابطي ۾ رهو.
- زبردست طوفان جي اطلاع جي صورت ۾ پنهنجي خاندان سميت پڪين سرن واريءَ عمارت ڏانهن منتقل ٿيو.
- خطرناڪ ۽ تيز طوفان جي اطلاع جي صورت ۾ پنهنجي خاندان، قيمتي شين، دستاويزن ۽ هنگامي اڀاءُ واري سموري سامان سميت ان علائقي کي خالي ڪريو. پنهنجي خاندان ۾ ٻارن، بزرگن، بيمارن ۽ حمل سان عورتن جو خاص خيال رکيو. هنگامي حالت ۾ ڪم ايندڙ سامان جيئن مخصوص کاڌي جو ذخيرو، پاڻي ۽ اهڙو ٻيو سامان ڪڏهن به ڪڍڻ نه وسارڻ گهرجي. توهان کي ويجهي طوفان کان بچاءُ لاءِ ٺاهيل پناهه گاهه ۾ يڪدم وڃڻ گهرجي.

### طوفان کان پوءِ:

- جيستائين سرڪاري طور تي اهو اعلان نه ڪيو وڃي ته ٻاهر وڃڻ خطري کان خالي آهي، ايستائين ٻاهر نه نڪرو.
- گئس خارج (ليڪ) ٿيڻ جي جانچ ڪندا رهو ۽ جيڪڏهن برقي اوزار پاڻيءَ ۾ پُسيل آهن ته انهن جو استعمال نه ڪريو.
- جيڪڏهن توهان کي گهر خالي ڪرڻو پوي يا توهان اڳ ۾ ڪري چڪا آهيو ته جيستائين سرڪاري طور اعلان نه ٿئي واپس گهر نه اچو ۽ گهر اچڻ لاءِ فقط صلاح ڏنل رستي جو استعمال ڪريو ۽ تڪڙ ڪري غلط رستي تي نه وڃو.
- نانگ جي ڏنگ جو خاص خيال رکيو. پاڻ سان لٺ يا بانس جو ڏنڊو ضرور ڪڍو.
- بجليءَ جي ڪريل تارن، نقصان پهتل پُلين، عمارتن ۽ وڻن جو خيال ڪريو ۽ سڀني اعلانن کي غور سان ٻڌو.

### برف، مٽيءَ ۽ جبل جي چپ ڪرڻ جي صورت ۾ بچاءُ جا طريقا:

- ڪنهن لاهي، جنهن تان چپ ڪرڻ جو انديشو آهي، کي پار ڪرڻ کان پهريائين پنهنجي جسم تي پاتل ڪپڙن کي چڱيءَ طرح مضبوط طريقي سان ويڙهيو ته جيئن پاڻي/برف جسم تائين نه پهچي سگهي.

- جيڪڏهن ان لاهيءَ کي پار ڪرڻ جو ٻيو ڪوبه رستو ناهي، ته پوءِ هڪ وقت ۾ هڪ ٿي ان لاهيءَ کي پار ڪريو ته جيئن امڪاني خطري کي گهٽائي سگهجي.
- ڪنهن لاهيءَ تي چڙهڻ يا ان تان لهڻ مهل، امڪاني چپ جي جيترو ٿي سگهي پاسن کان پري رهو ته جيئن چپ ڪرڻ جي صورت ۾، توهان ان کان محفوظ رهو.
- پاڻ سان گڏ ٻين همراهن جي حالت کان باخبر رهو. جيڪڏهن انهن مان ڪو ٽڪيل، بيمار هوندو يا ٿڌ محسوس ڪندو هوندو ته اهو نه ته بهترين فيصلو نه وري بهترين ڪوشش ڪري سگهندو.
- جيڪڏهن توهان ڪجهه ڪلاڪن کان وڌيڪ ٻاهر رهڻ لاءِ وڃي رهيا آهيو، ته هر وقت موسم يا گرمي پد جي صورتحال کان خبردار رهو.
- چپ کان بچڻ جا اوزار جيئن پري کان روشنيءَ ذريعي اطلاع ڏيڻ واري بتي ۽ ڪوڏر، پنهنجي ٿيلهي يا گاڏيءَ ۾ رکو.

## اختصار

هن باب ۾ اسان هيٺيون ڳالهيون سڳيون آهن.

- ڌرتيءَ جي چوڌاري موجود گئس جي تهه کي آبها چئجي ٿو ۽ ڪنهن خاص جڳهه ۽ وقت تي آبها ۾ تبديلين کي موسم سڏبو آهي.
- موسم تي ڪيترائي عنصر اثرانداز ٿين ٿا جيئن گرمي پد، هوا جو دٻ، هوا، گهم ۽ مينهن يا برف باري.
- ماهر موسميات موسم جو مطالعو ڪندا آهن. اهي هر روز موسم کي ماپيندا ۽ رڪارڊ ڪندا آهن ۽ ان جي مدد سان اها اڳڪٿي ڪندا آهن ته مستقبل ۾ موسم ڪيئن ٿيندي ته جيئن اسين گرميءَ يا سرديءَ جي حساب سان مناسب لباس پائي سگهون ۽ پڻ طوفان، تيز هوا ۽ ٻوڏن جي لاءِ پاڻ کي تيار ڪري سگهون.



## مشق

### (الف) هيٺيان خال ڀريو:

1. موسم گهڻي وقت تائين \_\_\_\_\_ نه ٿي رهي.
2. ٿرما ميٽر \_\_\_\_\_ ماپڻ لاءِ استعمال ٿيندا آهن.
3. \_\_\_\_\_ ۾ ڪجهه پيالو ڦرڻ واريءَ سرائي سان گڏيل هوندا آهن.
4. فضا يا وايو منڊل ۾ پاڻيءَ جا بخار يا ٻاڦ جي مقدار کي \_\_\_\_\_ چئبو آهي.

### (ب) هيٺين سوالن جا جواب ڏيو:

1. لفظ موسم جي وصف لکو.
2. موسم تي اثرانداز ٿيندڙ عنصرن جا نالا لکو.
3. سنڌ جي آب هوا جي باري ۾ ٻڌايو. سنڌ جي مختلف حصن تي سامونڊي هوائن جو ڪهڙو اثر ٿئي ٿو؟
4. اسان جي صوبي جي آب هوا هتان جي ماڻهن جي لباس، کاڌي پيئي ۽ تفريحي سرگرمين تي ڪيئن اثر چڙهي ٿي؟

(ج) هيٺ ڏنل جدول جهڙي جدول ٺاهيو ۽ ان کي ضروري معلومات سان ڀريو. هڪ توهان جي رهنمائيءَ لاءِ حل ڪيل آهي.

ماپڻ جو ايڪو	ان کي ماپڻ لاءِ استعمال ٿيندڙ اوزار	اها اسان کي ڇا ٿي ٻڌائي	موسم تي اثرانداز ٿيندڙ عنصر
ڊگري سينٽي گريڊ $^{\circ}\text{C}$ ۽ ڊگري فارنهيٽ $^{\circ}\text{F}$	ٿرما ميٽر	هوا جي گرمي يا سردِي	گرمي پد

هيٺ جدول ڏانهن نهاريو. ان ۾ حيدرآباد ۽ لاهور شهرن ۾ جولاءِ ۽ ڊسمبر جي مهينن ۾ پوندڙ برساتن ۽ ساڳين مهينن دوران گرمي پد جي معلومات ڏني وئي آهي. حيدرآباد ۽ لاهور ۾ جولاءِ ۽ ڊسمبر مهينن ۾ پوندڙ برساتن ۽ گرمي پد ۾ فرق معلوم ڪريو.

شهر	جولاءِ ۾ گرمي پد	جولاءِ ۾ پوندڙ مينهن	ڊسمبر ۾ گرمي پد	ڊسمبر ۾ پوندڙ مينهن
حيدرآباد	42 °C	20 mm	06 °C	02 mm
لاهور	45 °C	80 mm	02 °C	05 mm

### (د) عملي ڪم:

1. پوشاڪ ۽ کاڌو جيڪو ماڻهو اونهاري ۽ سياري ۾ کاڌو کائين ۽ ڪپڙا پائين ٿا ۽ سندن تفريحي سرگرمين جون تصويرون ٺاهي ڏيکاريو.
2. پاڻي جي ڦيري يا آبي چڪر جي صورتحال (شڪل) تيار ڪري، ان تي ليبل لڳايو.

### (ه) تحقيقات:

1. معلوم ڪريو ته زلزلا ڪيئن ايندا آهن ۽ ڪي به ٽي بچاءُ جون تدبيرون ٻڌايو.

### (و) اضافي سرگرمي:

1. هڪ مهيني لاءِ هر روز گرمي پد ماپيو. اهو توهان کي ڇا ٿو ٻڌائي؟

## صوبائي حڪومت

شاگردن جي سڪڻ جا نتيجا

هن باب جي پڄاڻيءَ تي شاگرد ان لائق ٿيندا ته:

- معاشري، جمهوريت، قانون، حڪومت ۽ قائدن کي بيان ڪرڻ سان گڏ انهن جا مختلف مثال به ڏئي سگهن.
- صوبائي حڪومت جي ٺاهڻ جا سبب بيان ڪري سگهن.
- صوبائي حڪومت جي خاص شاخن (قانون سازي، عدليه ۽ انتظاميه جي فهرست ٺاهي سگهن).
- پنهنجي ڪلاس جي مانيٽر مقرر ڪرڻ لاءِ چونڊ ڪرائي سگهن.
- حڪومت جي انتظامي شاخ جو ڪم ٻڌائي سگهن.
- عدالت جي ڪم کي سمجهي سگهن.
- عدالت ۾ هڪ جج جي ڪردار کي سمجهي سگهن.
- ڊرامي جي ذريعي هڪ عدالت جي وهنوار کي سمجهي سگهن.
- صوبائي حڪومت جي مختلف شاخن جي باري ۾ مختلف ذريعن (اخبارن، ڪتابن ۽ وڊن کان) معلومات کڻي ڪري لکت ۾ پيش ڪري سگهن.
- اهو سمجهي سگهن ته مقامي ۽ صوبائي حڪومتن جا ادارا ڪيئن پنهنجي شهرين جي خدمت ڪن ٿيون.
- لفظ ”شهري“ جو مقصد سمجهي سگهن.
- انهن طريقن جي نشاندهي ڪري سگهن جن سان ماڻهو ڪنهن ملڪ جو شهري ٿي پوي ٿو.
- ڪنهن ملڪ جي شهرين جي حقن جي اهميت سمجهي سگهن.
- شهرين جون اهم ذميواريون ۽ حقن جي فهرست تيار ڪري سگهن.
- انهن طريقن جي نشاندهي ڪري سگهن جنهن سان ڪو عام ماڻهو صوبائي سطح تي هڪ ذميوار شهري ٿي سگهي.
- شهرين پاران ٺاهيل انهن جماعتن (پيشه ورائين، پلائي سماجي) جي نشاندهي ڪري سگهن جيڪي شهرين جي حقن جي ترقي ۽ انهن جو تحفظ ڪري سگهن.
- ان ڳالهه کي سمجهي سگهن ته ڪهڙيءَ طرح هڪ ذميوار فرد صوبائي شهري ٿي رهي سگهي ٿو (ذميوار صوبائي شهريءَ جو مظاهرو ڪري سگهي).

## صوبي جي حڪومت

گڏ رهندڙ ماڻهو سماج ناهين ٿا. ڪنهن به سماج جا ماڻهو گڏ رهن ٿا ۽ هڪٻئي جي پلائي لاءِ گڏجي ڪم ڪن ٿا. ماڻهن جي گڏ رهڻ جي نتيجي ۾ ڪجهه اهڙا مسئلا پيدا ٿيندا آهن، جيڪي سڀني تي هڪ جيترو اثر انداز ٿيندا آهن. ماڻهو انهن مسئلن کي منهن ڏيڻ لاءِ ڪجهه ماڻهن جي چونڊ ڪندا آهن. ماڻهن جي ان جماعت (گروپ) کي حڪومت سڏبو آهي. پاڪستان جو عوام پنهنجن ئي ماڻهن منجهان چونڊ ذريعي ماڻهن جي هڪ جماعت (گروپ) جي چونڊ ڪندو آهي. ماڻهن جي ان چونڊيل ٽولي کي وفاقي حڪومت چئبو آهي. اها چونڊيل جماعت پوري ملڪ جو ڪم ڪار هلائي ٿي ۽ سڄي پاڪستان جي مسئلن کي منهن ڏئي ٿي (اسين اڳتي هلي پنجين ڪلاس ۾ سکنداسون ته پاڪستان ۾ حڪومت ڪيئن هلائي وڃي ٿي). پاڪستان ۾ چار صوبا آهن. هر صوبي جي ڪم ڪار هلائڻ لاءِ هڪ حڪومت هوندي آهي، جيڪا اُتي جو وهنوار هلائي ٿي. ان کي صوبائي حڪومت سڏجي ٿو. صوبي جي حڪومت پڻ اتان جو عوام ووت جي ذريعي چونڊي ٿو. هن باب ۾ اسين اهو پڙهنداسين ته صوبي جي حڪومت ڪيئن ٺهندي ۽ ڪم ڪندي آهي.

### صوبي جي حڪومت ٺاهڻ جا هيٺيان مقصد آهن:

1. وفاقي حڪومت تان وزن (بوجھ) گهٽائڻ لاءِ.
2. ماڻهن کي ووت جو حق ڏيڻ لاءِ ته جيئن انهن جا چونڊيل نمائندا صوبائي اسيمبليءَ ۾ انهن جي لاءِ ڳالهائين.
3. ماڻهن کي وڌيڪ سهولتون ڏيڻ لاءِ.
4. ماڻهن کي ترت انصاف جي فراهميءَ لاءِ.
5. امن امان برقرار رکڻ لاءِ.
6. ماڻهن جي حقن جي حفاظت لاءِ.

### ڇا توهان کي خبر آهي؟

هر ملڪ کي پنهنجو آئين هوندو آهي. آئين اهڙو قانون آهي، جنهن جي مطابق حڪومت هلائي ويندي آهي. اهو حڪومت جي مختلف شاخن جي اختيارن ۽ انهن جي باهمي رابطن جي باري ۾ ٻڌائيندو آهي. ان ۾ شهرين جا حق ۽ فرض بيان ٿيل هوندا آهن.



## صوبائي حڪومت ٽن شاخن ۾ ورهايل آهي:

- قانون ساز (قانونيه)
- انتظاميه
- عدليه

شڪل 6.1 ۾ هر شاخ جا اختيار ڏسو.



شڪل 6.1 حڪومت جون شاخون

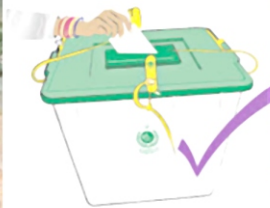
## قانون ساز (قانونيه):

صوبائي حڪومت جي قانون ساز شاخ کي صوبائي اسيمبلي سڏيندا آهن. صوبائي اسيمبلي نوان قانون جوڙيندي آهي ۽ اڳ ۾ موجود قانون ۾ ڦير ڦار ڪندي آهي. ڇاڪاڻ ته اتي اهڙا فيصلو ڪيا ويندا آهن، جيڪي اسان سمورن تي لاڳو ٿيندا آهن، ان ڪري صوبائي اسيمبليءَ جا ميمبر عوام چونڊيندا آهن. صوبائي اسيمبليءَ جا ميمبر ڪيئن چونڊيا ويندا آهن؟ عام طور سياسي پارٽيون چونڊن ۾ حصو وٺنديون آهن. هر پارٽي پنهنجا اميدوار چونڊن ۾ بيهاريندي آهي. چونڊن جي ڏينهن سڀ ووٽر پنهنجي پسند مطابق اميدوارن کي ووٽ ڏيندا آهن. چونڊ کان پوءِ ووٽن جي ڳڻپ ٿيندي آهي.

### ڇا توهان کي خبر آهي؟

جمهوريت حڪومت جو اهو نظام هوندو آهي جنهن ۾ ماڻهو يا ته پاڻ تي سڌي حڪمراني يا وري پنهنجي چونڊيل نمائندن ذريعي حڪومت ڪندا آهن، جن کي اهي ووٽ جي ذريعي چونڊيندا آهن. قانون انهن قاعدن کي چڱو آهي جيڪي حڪومت ٺاهيندي آهي. قاعدا اسان کي ٻڌائيندا آهن ته اسان کي ڇا ڪرڻ ۽ ڇا نه ڪرڻ گهرجي.

اميدوارن مان جيڪو گهڻا ووٽ کڻندو آهي، اهوئي صوبائي اسيمبليءَ جو ميمبر ٿيندو آهي. ان کي MPA سڏبو آهي. يعني ميمبر پراونشل اسيمبلي.



شڪل 6.2 ماڻهو پنهنجو ووٽ وجهندي



شڪل 6.3 سنڌ اسيمبليءَ جي عمارت ۽ اجلاس جي تصوير

### سرگرمي:

پنهنجي ڪلاس جي مانيٽر مقرر ڪرڻ لاءِ چونڊ ڪريو.

### انتظاميه:

انتظاميه جو ڪم قانون لاڳو ڪرائڻ يا ان تي عمل ڪرائڻ هوندو آهي. ان ۾ گورنر، وزيراعليٰ ۽ وزير شامل هوندا آهن. وزير اعليٰ صوبائي حڪومت جو سربراھ هوندو آهي. وزيراعليٰ اڪيلو قانون تي عمل نٿو ڪرائي سگهي، نه وري سمورا ڪم جيڪي حڪومت کي ڪرڻا هوندا آهن، اڪيلو پورا ڪري سگهي ٿو، تنهن ڪري هو صوبائي اسيمبليءَ جي ميمبرن مان ڪجهه وزير چونڊيندو آهي، جنهن کي ”ڪابينه“ سڏيو آهي. عام طور هر وزير هڪ کاتي جي سرڪاري ڪمن ڪارين جي نگراني ڪندو آهي. مثال طور: تعليم وارو وزير تعليم کاتي جي سار سنڀال لهندو آهي.

انتظاميه جو ٻيو ڀاڱو پبلڪ يا سول سروس آهي. پبلڪ يا سول سروس ۾ سرڪاري ڪم ڪار لاءِ ماڻهن جون خدمتون پئسن عيوض ورتيون وينديون آهن. يعني ماڻهن کي نوڪرين ۾ رکيو ويندو آهي، جيئن اهي ماڻهن يا شهرين جو ڪم ڪار ڪن ۽ انهن جي خدمت ڪري کين سک پهچائين.



شڪل 6.4 سرڪاري ملازم ذميوارين سرانجام ڏيندي

### سرگرمي:

سنڌ جي تعليم، صحت ۽ ثقافت جي وزيرن جا نالا ٻڌايو. اهو پڻ ٻڌايو ته انهن وزيرن کي مليل کاتن پاران ماڻهن جي صحت، تعليم ۽ تفريح جي حقن لاءِ ڪهڙا اپاءَ ورتا ويا آهن.

## عدليه:

عدليه جو مکيه ڪم ”تشریح“ يعني قانون جي معنيٰ مراد کي چٽو ڪرڻ آهي. ان جو مطلب ته اها قانون جي معنيٰ مراد جو فيصلو ڪندي آهي، ته جيئن قانون جي برخلاف ڪم نه ٿئي ۽ جيڪڏهن ڪير به ائين ڪري ته ان کي سزا ملي. صوبي جون عدالتون ۽ جج عدليه جو حصو آهن. اڪثر ڪري ماڻهن جي وچ ۾ تڪرار ٿي پوندو آهي. اهي ڪوشش ڪندا آهن ته ڳالهه ٻولهي يا ڪنهن جي تياڪڙيءَ جي ڪري تڪرار حل ٿي وڃي، پر ڪڏهن ڪڏهن ائين مسئلو حل نه ٿي سگهندو آهي، تنهن ڪري اهي عدالت ڏي معاملو کڻي ويندا آهن. اهي عدالتون جيڪي ماڻهن جي وچ ۾ عام جهڳڙن سان منهن ڏينديون آهن، انهن کي سول عدالتون چئبو آهي. ڪڏهن ڪڏهن ماڻهو قانون جي خلاف ڪم ڪندا آهن. اهي قتل ۽ ڦر ڪرڻ جهڙا ڏوهه ڪندا آهن. جيڪي عدالتون ڏوهن جا مسئلا ٻڌنديون آهن، انهن کي ڪرمنل ڪورٽون چئبو آهي.

## سرگرمي:

عدالت جنهن نموني پنهنجو ڪم ڪري ٿي ۽ جج کيس جو فيصلو ڪن ٿا، ان بابت لکو ۽ ڇهن جي گروپن ۾ ان جي اداڪاري ڪري ڏيکاريو.

## شهري:

اهو ماڻهو شهري آهي جيڪو ڪنهن ملڪ ۾ رهندو آهي. سمورا شهري حڪومت طرفان ڏنل سڀني حقن مان فائدو وٺندا آهن. شهرين تي ڪيتريون ئي ذميواريون پڻ هونديون آهن. اسان مان اڪثر ماڻهو پاڪستان ۾ ڄاوا آهن ۽ اسين هتي ئي رهون ٿا، ان ڪري اسين پاڪستان جا شهري آهيون. شهري هجڻ جي ڪري اسان کي تعليم، تحفظ ۽ ڪيڏڻ جا حق ڏنل آهن. اسان تي ڪجهه ذميواريون پڻ آهن جيئن: سخت محنت ڪرڻ ۽ اسڪول ۾ سٺي ڪارڪردگي ڏسڻ، جن پارڪن (وندر گاهن) ۽ راندين جي ميدانن تي اسان ڪيڏون ٿا انهن کي صاف رکڻ ۽ قاعدن مطابق روڊ جي ٻئي پاسي ٽپڻ جيئن مٿي ذڪر ڪيو ويو آهي. اسان مان اڪثريت پاڪستان جي شهرين جي آهي. اسين پنهنجي والدين وٽ پاڪستان ۾ پيدا ٿيا آهيون ۽ اسان جا والدين پاڪستان جا شهري آهن. توهان کي پنهنجي خاندان جي ڪجهه ماڻهن جي خبر هوندي جيڪي ڪنهن ٻاهرئين ملڪ ويا هوندا ۽ ڪجهه سال اتي رهڻ کان پوءِ ان ملڪ جا شهري بنجي ويا هوندا. اهو شهري ٿيڻ جو هڪ ٻيو طريقو آهي. ان کان سواءِ شهرت وٺڻ جو هڪ اضافي طريقو ڪنهن ٻئي ملڪ جي شهريءَ سان شادي ڪرڻ به آهي.

## شهرين جا حق ۽ ذميواريون:

جيئن ته توهان صفحي نمبر 80 تي ”چا توهان کي خبر آهي“ واري خاني ۾ پڙهيو آهي ته پاڪستان جي آئين ۾ شهرين جي حقن ۽ ذميوارين جي فهرست ڏني وئي آهي. بحثيت شهرين جي اسان جا ڪجهه حق هي آهن:

- زندگي ۽ آزاديءَ جو حق.
- برابري ۽ عزت جو حق.
- تعليم جو حق.
- مال ملڪيت رکڻ جو حق.
- هر ماڻهو کي پنهنجي مذهب تي رهڻ ۽ ان تي عمل ڪرڻ جو حق.
- پنهنجي زبان ۽ ثقافت کي بچائڻ ۽ ان کي ترقي وٺرائڻ جو حق.
- پاڪستان جي ڪنهن به علائقي ۾ سفر ڪرڻ ۽ رهڻ جو حق.
- ٻين سان ملڻ ۽ تنظيم ٺاهڻ جو حق.
- پنهنجي راءِ ۽ خيالن جو اظهار ڪرڻ جو حق.

انهن حقن سان گڏ شهرين جون ڪجهه ذميواريون به آهن. ڪجهه ذميواريون قانون آهن ۽ اهي اسان کي هر حال ۾ پوريون ڪرڻيون آهن.

- ملڪ جي قانونن کي مڃڻ جي ذميواري.
- محصول (ٽئڪس) ڀرڻ جي ذميواري.

ٻين ذميوارين جو تعلق پاڻ سان سماج ۾ گڏ رهندڙ ماڻهن سان سنو ورتاءُ ڪرڻ سان آهي. انهن مان ڪجهه ذميواريون هي آهن:

- ٻين جو احترام ڪرڻ جي ذميواري.
- پنهنجي پاڙي کي صاف سترو رکڻ جي ذميواري.
- پبلڪ پراپرٽي (عوامي ملڪيت) جو خيال رکڻ جي ذميواري.
- ٻين جي دل ڪنهن ڳالهه/ڪم سان نه ڏڪائڻ جي ذميواري.
- ضرورتمندن جي مدد ڪرڻ جي ذميواري.

### سرگرمي:

مٿي ڏنل هر ذميواري لاءِ ڪابه هڪ ڳالهه لکڻ جيڪا سنڌ صوبي جي شهريءَ طور پوري ڪري سگهيو ٿا.

ان ڳالهه کي يقيني بنائڻ لاءِ ته شهرين کي پنهنجا حق ملن ٿا. صوبائي حڪومت سڄي صوبي اندر اسڪول، اسپتالون، وندر گاهون ۽ راندين جا ميدان ٺهرايا آهن. پر حڪومت اڃان تائين اهي سهولتون هر ماڻهوءَ تائين نه پهچائي سگهي آهي. ان جي ڪري شهرين کيتريون ئي تنظيمون ٺاهيون آهن، جيڪي ماڻهن جي حقن لاءِ جاکوڙين ٿيون. انهن مان ڪجهه جيئن سنڌ فائونڊيشن ۽ سنڌ گريجوئيٽس ايسوسيئيشن (سگا) سڄيءَ سنڌ اندر ڪيترائي اسڪول کوليا آهن. ان سان گڏ ايڏي، ڇيپا ۽ امن فائونڊيشن نالي وارا فلاحي ادارا ايمبولينس جي سهولت فراهم ڪن ٿا. ايڏي ۽ سيلاني ويلفيئر لوارٿ مردن، عورتن ۽ يتيم ٻارن جي مدد ڪن ٿا. ان کان سواءِ ”ايس او ايس ٻارن جا ڳوٺ“ يتيم ۽ ڇڏيل (لوارٿ) ٻارن کي رهائش فراهم ڪن ٿا.



شڪل 6.6 ڇيپا ايمبولينس



شڪل 6.5 ايس او ايس ٻارن جو ڳوٺ، ڪراچي

مولانا عبدالستار ايڏيءَ ٻارن قائم ڪيل ايڏي فائونڊيشن طرفان سڄي ملڪ ۾ ماڻهن جي پلائيءَ لاءِ ڪيترائي خيراتي ڪم ڪيا آهن. جهڙوڪ لوارٿ مرد، عورتن ۽ ٻارڙن کي ”پنهنجو گهر“ ۾ داخل ڪري سندن هر طرح سان سار سنڀال ۽ کاڌي پيئي جو بندوبست ڪيو وڃي ٿو. ان کان سواءِ کين مختلف هنر پڻ سيکاريو وڃن ٿا ته جيئن اهي پنهنجي پيرن تي بيهي سگهن. غريب ۽ يتيم ڇوڪرين جي شادي ۽ ڏاج جو به بندوبست ڪيو وڃي ٿو. ايڏي صاحب طرفان ڪيل فلاحي ڪم نه رڳو ملڪ ۾ پر پرڏيهه ۾ به ڪيا وڃن ٿا، جيڪي سندس شخصيت جا نمايان پهلو ۽ انسانيت جي خدمت جا اڻ مت مثال آهن. ايڏي صاحب پنهنجي سڄي حياتي انسانيت جي خدمت لاءِ وقف ڪري ڇڏي هئي. قوم ۽ ملڪ کي سندس خدمتن ۽ سادگيءَ تي فخر آهي.





**سرگرمي:** ڪالم الف ۾ ڏنل لفظ کي ڪالم ب ۾ ڏنل ان جي حقيقي معنيٰ (وصف) سان ملايو.

ڪالم الف - لفظ	ڪالم ب - وصفون
شهري	حڪومت جو اهو نظام جنهن ۾ ماڻهو يا ته پنهنجي مٿان سڌي حڪمراني يا پنهنجي چونڊيل نمائندن ذريعي حڪومت ڪندا آهن.
جمهوريت	ڪنهن ملڪ ۾ سمورن حقن ۽ ذميوارين سان رهندڙ ماڻهو.
حڪومت	ڪنهن شهر، صوبي يا ملڪ جي حڪومت جو ٺاهيل قانون.
قانون	اهڙو بيان جيڪو ٻڌائي ته اسان کي ڇا ڪرڻ جي اجازت آهي ۽ ڇا ڪرڻ جي اجازت ناهي.
قاعدو	ڪنهن سماج ۾ گڏ رهندڙ ماڻهو.
سماج	اهي ماڻهو جيڪي قانون ٺاهيندا آهن.

## اختصار

- هن باب ۾ اسان هيٺيون ڳالهيون سڳيون آهن.
- ڪنهن صوبي ۾ رهندڙ ماڻهو ساڳين ئي مسئلن کي منهن ڏين ٿا. اهي صوبي جي آباديءَ مان ماڻهن جي هڪ جماعت جي چونڊ ڪن ٿا، جيڪي ماڻهن جي مسئلن کي حل ڪن ٿا. ماڻهن جي اها چونڊيل جماعت صوبائي حڪومت ناهي ٿي.
  - صوبائي حڪومت، حقيقت ۾، وفاقي حڪومت تان بوجھ گهٽائڻ لاءِ ماڻهن کي ووت ذريعي پنهنجي نمائندي چونڊڻ جو حق ڏيڻ لاءِ جيڪو صوبائي اسيمبليءَ ۾ انهن لاءِ ڳالهائي، ماڻهن کي پنهنجا حق ڏيارڻ لاءِ ۽ امن امان ۽ قانون کي قائم رکڻ لاءِ ناهي ويندي آهي.
  - صوبائي حڪومت جون ٽي اهم شاخون آهن: قانونيه نالي واري صوبائي حڪومت جي شاخ قاعدا ۽ قانون ٺاهيندي آهي، انتظاميه (انتظامي شاخ) جيڪا قانون تي عمل ڪرائيندي آهي ۽ عدالتي شاخ جيڪا قانون جي تشريح ڪندي آهي.
  - هڪ شهري اهو ماڻهو آهي جيڪو ڪنهن خاص ملڪ ۾ پيدا ٿيو هجي. شهري ٿيڻ جا ٻيا طريقا پڻ هوندا آهن، جيئن ڪنهن ملڪ ۾ هڪ مقرر مدي تائين رهڻ يا ڪنهن ٻئي ملڪ جي شهريءَ سان شادي ڪرڻ.
  - هڪ شهريءَ جا ڪيترائي حق ۽ ذميواريون هونديون آهن. پاڪستان جي آئين ۾ شهرين جي حقن ۽ ذميوارين جي فهرست ڏني وئي آهي. اها حڪومت جي ذميواري آهي ته شهرين کي آئين ۾ طئي ٿيل حق ڏئي ۽ شهرين جو وري فرض آهي ته پنهنجون ذميواريون پوريون ڪري. جيئن ته پاڪستان ۾ حڪومت شهرين کي سڀ حق فراهم نه ڪري سگهي آهي، ان ڪري شهرين جي ڪيترين ئي تنظيمن گڏجي سڏجي ان لاءِ جاکوڙي رهيون آهن ته شهرين کي انهن جا حق ملن.

## مشق

### (الف) هيٺيان خال ڀريو:

1. \_\_\_\_\_ حڪومت جون ٽي شاخون آهن.
2. انتظاميه \_\_\_\_\_ تي عمل ڪرائي ٿي.
3. \_\_\_\_\_ شاخ جو اهم ڪم قانون جي تشريح ڪرڻ آهي.
4. ڏوهن سان منهن ڏيندڙ \_\_\_\_\_ عدالتون آهن.

### (ب) هيٺين سوالن جا جواب ڏيو:

1. اسڪول جي ڪن به ٽن قاعدن جا نالا لکو.
2. حڪومت جي ٽن اهم شاخن جا نالا لکو.
3. حڪومت جي هر شاخ جي ڪم جي باري ۾ ٻڌايو.
4. سلسليوار ٻڌايو ته صوبائي حڪومت ڪيئن ٺهندي آهي.
5. حڪومت جي انتظاميه واري شاخ جو ڪم ٻڌايو ۽ هڪ جج (منصف) جو ڪهڙو ڪم آهي؟ ۽ جج جو ڪم ڇو ضروري آهي؟
6. پاڪستان جي شهريءَ جي حيثيت ۾ حاصل پنهنجا ڪي به ٽي حق لکو ۽ هر حق سان لاڳاپيل هڪ ذميوارِي به بيان ڪريو.
7. پنهنجون ذميواريون پوريون ڪرڻ ڇو ضروري آهن؟ ڪي به ٽي ڳالهيون ٻڌايو، جن کي ڪرڻ سان توهان پنهنجي صوبي کي رهڻ لاءِ بهترين جڳهه بنائي سگهو.

### (ج) جدول ٺاهيو ۽ ڀڙهو:

1. هيٺ ڏنل جدول لاءِ صحيح معلومات گڏ ڪريو ۽ ان کي ڏنل ٽيبل ۾ لکو (پنهنجي والدين، استادن کان، اخبارن، ڪتاب ۽ انٽرنيٽ تان مدد وٺو).

شاخ	اهي ڪير آهن	انهن جي ڪم جي اهميت	اهي ڇا ڪن ٿا
قانون ساز (قانونيه)			
انتظاميه			
عدليه			

### (د) عملي ڪم:

1. ننڍن گروپن (ٽولن) ۾، ڪارڊ واري پني کي ڪٽي ان مان ٽن شاخن وارو هڪ وڻ ٺاهيو. وڻ جي هر شاخ تي حڪومت جي هر شاخ جو نالو، هر هڪ جو ڪم ۽ هڪ مثال لکو.
2. فرض ڪريو ته توهان راند جي ميدان تي آهيو ۽ توهان هڪ رديءَ جو پنو لڌو آهيو، ان تي خاڪو ڪيو ته هڪ سٺو شهري ڇا ڪندو آهي.

### (ه) تحقيقات:

پنهنجي ضلعن مان ماضيءَ جي ڪن به ٻن شخصيتن هڪ مرد ۽ ٻي عورت، تلاش ڪريو، جن ڪجهه اهڙو ڪيو جنهن سان ٻين کي فائدو پهتو. هيٺيان خال پري انهن جي باري ۾ حقيقت تي ٻڌل دستاويز ٺاهيو.

عورت	مرد
نالو _____	نالو _____
پيءُ جو نالو _____	پيءُ جو نالو _____
ماءُ جو نالو _____	ماءُ جو نالو _____
پيدائش جي جڳهه ۽ تاريخ _____	پيدائش جي جڳهه ۽ تاريخ _____
تعليم _____	تعليم _____
ڏندو _____	ڏندو _____
انهن ٻين لاءِ ڇا ڪيو _____	انهن ٻين لاءِ ڇا ڪيو _____
وفات جي جڳهه ۽ تاريخ _____	وفات جي جڳهه ۽ تاريخ _____

## مواصلات جا ذريعا

شاگردن جي سڪڻ جا نتيجا

هن باب جي پڄاڻيءَ تي شاگرد ان لائق ٿيندا ته:

- مواصلات جي ذريعن جي نشاندهي ڪري سگهن.
- مواصلات جي ڪنهن به هڪ ذريعي جي تاريخ بيان ڪري سگهن.
- مواصلات جي ڪنهن به هڪ جديد طريقي جا فائدا ۽ نقصان بيان ڪري سگهن.
- انهن طريقن جي نشاندهي ڪري سگهن جن جي ڪري ڪمپيوٽر جي مدد سان مواصلات وڌيڪ آسان ٿي آهي.
- اهي هڪ پوسٽ ڪارڊ ٺاهي، ان تي پيغام کي هڪ دوست ڏانهن ان کي پوسٽ ڪري سگهن.
- اهي پنهنجي علائقي جي حادثن وارين خدمتن (پوليس، فائر برگيڊ، ايمبولينس) جا ٽيليفون نمبر، ٽيليفون ڊائريڪٽريءَ مان ڳولي سگهن.

## مواصلات جا ذريعا

لفظ ”مواصلات“ بين تائين پيغام رسائڻ ۽ جواب ۾ بين کان پيغام وٺڻ جو عمل آهي. ماڻهو ڪيترن ئي سببن جي ڪري بين ڏانهن پيغام رسائين ٿا. جيئن بين سان رابطي ۾ رهڻ، خيالن ۽ رايي جي ڏي وٺ ڪرڻ. اسين هڪ ٻئي سان ڳالهائڻ، لکڻ يا اشارن ذريعي رابطي ۾ ايندا آهيون.

### مواصلات جا وسيلا:

هڪ ٻئي سان حال احوال ڪرڻ جا گهڻا ئي وسيلا ڪم ايندا آهن. اسين آمهون سامهون ويهي يا فون جي ذريعي هڪ ٻئي سان ڳالهائي سگهون ٿا. اسان خط پوسٽ وسيلي موڪليندا آهيون ۽ ضروري پيغام جلد رسائڻ لاءِ ٽيليگرام ڪندا آهيون. اڄڪلهه حال احوال ڪرڻ لاءِ ڪمپيوٽر به ڪتب اچن ٿا، جيڪي هڪٻئي سان ”انٽرنيٽ“ جي ذريعي ڳنڍيل آهن. اي ميل (برقي ٽپال)، جنهن سان اسان انٽرنيٽ ذريعي ڳنڍيل آهيون، جي مدد سان اسان هڪٻئي سان ترت ڳالهائي ۽ خط موڪلي سگهون ٿا. هن باب ۾ اسين مواصلات جي نون ۽ پراڻن وسيلن کي بيان ڪنداسون.

### ڳالهه بولڻ:

حال احوال وٺڻ ۽ ڏيڻ جو عام ذريعو ڳالهه بولڻ آهي. ڳالهائڻ سان ٻڌڻ به لاڳاپيل آهي.

شڪل 7.1 ۽ شڪل 7.2 ۾ هيٺ ڏنل جدولن ڏانهن نهاريو، جيڪي صاف ڳالهائڻ ۽ ڏيان سان ٻڌڻ جي باري ۾ ڪي سبق سيڪارين ٿا.

ڏيان سان ٻڌڻ		صاف انداز ۾ ڳالهائڻ
<p>ڇا چئي سگهو ٿا:</p> <ul style="list-style-type: none"> <li>• سمجهڻ خاطر سوال ڪريو.</li> <li>• درست موت ڏيو (ڪلو جيڪڏهن ڳالهائيندڙ چرچو ڪري).</li> <li>• سوالن جا جواب ڏيو.</li> </ul>	<p>ڇا ڪري سگهو ٿا:</p> <ul style="list-style-type: none"> <li>• ڳالهائڻ واري ڏانهن ڏسو.</li> <li>• خاص ڳالهيون لکو!</li> <li>• پنهنجو مٿو ڌوڻيو.</li> </ul>	<ul style="list-style-type: none"> <li>• ڳالهائڻ يا تفريح کان اڳ پنهنجي خيالن کي ڪاغذ تي لکي وٺو.</li> <li>• ايتري بلند آواز سان ڳالهايو جو ماڻهو توهان کي ٻڌي سگهن.</li> <li>• نه تمام تيز ۽ نه تمام جهيٽو ڳالهايو.</li> <li>• ٻڌندڙن تي نظر رکيو.</li> </ul>


شڪل 7.2 ڏيان سان ڪيئن ٻڌجي

شڪل 7.1 صاف انداز ۾ ڪيئن ڳالهائجي

استاد لاءِ هدايتون: ڪلاس ۾ هر موضوع تي ڳالهائڻ جي لاءِ ٻارن کي صاف ۽ واضح انداز ۾ ڳالهائڻ ۽ ٻڌڻ لاءِ شڪل 7.1 ۽ 7.2 ۾ ڏنل طريقن مطابق تربيت ڏجي.



ڪجهه ماڻهو ڳالهائي نه سگهندا آهن. هو پاڻ ۾ اشارن جي زبان ۾ ڳالهه بولڻ ڪندا آهن. هيٺئين خاڪي ڏانهن ڏسو، ان ۾ ڪجهه اشارا ڏنا ويا آهن.



شڪل 7.3 ڪجهه اشارا رابطي لاءِ استعمال ٿين ٿا ۽ ٻار اشارن جي زبان ۾ ڳالهائيندي

### سرگرمي:

ڪجهه اشارا سکو ۽ پنهنجي دوستن سان انهن جي ذريعي ڳالهه بولڻ ڪريو.



### ٽيليفون:

ڳالهه بولڻ جو هڪ ٻيو ذريعو ٽيليفون آهي. ٽيليفون جي ايجاد متن مائٽن، دوستن ۽ واپاري ماڻهن لاءِ دنيا ۾ ڪٿي به ڳالهائڻ کي ممڪن بنائي ڇڏيو آهي. اڄڪلهه اڪثر ماڻهو موبائيل فون تي ڳالهائين ٿا. ڪمپيوٽر تان انٽرنيٽ وسيلي فون ڪري سگهجي ٿي.

### ڇا توهان کي خبر آهي؟


ٽيليفون 1876ع ۾ اليگزينڊر گراهام بيل ايجاد ڪئي. ٽيليفون پڙلاءِ کي آواز ۾ تبديل ڪندي آهي. موبائيل فون ٽيليفون جي جديد صورت آهي.

### سرگرمي:

موبائيل فون جا فائدا ۽ نقصان بيان ڪريو.

**خط:**


لکت ۾ حال احوال ڏيڻ وٺڻ جو عام طريقو خط جي ذريعي هوندو آهي. ماڻهو خطن وسيلي هڪ ٻئي سان اهم معلومات جي ڏي وٺ ۽ ڪم ڪار جي ڳالهه ڪندا آهن. اسين پوسٽ وسيلي



شکل 7.4 خط

خط موڪليندا ۽ وٺندا آهيون. ملڪ اندر توڙي ٻاهرين ملڪن کان خط پهرين مرڪزي پوسٽ آفيس ۾ پهچندا آهن، جتي انهن جي علائقن جي حساب سان ورڇ ٿيندي آهي. پوءِ هر علائقي جي ٽپاليءَ کي خط ڏنا ويندا آهن. جيڪو اهي خط در در رسائيندو آهي. اڄڪلهه ماڻهو اي ميل يا اليڪٽرانڪ ميل (برقي ٽپال) ذريعي به خط موڪلين ٿا.

**تار (ٽيليگرام):**



شکل 7.5 تار (ٽيليگرام)

ماڻهو تار وسيلي ٻين شهرن ڏانهن تڪڙا پيغام موڪليندا آهن. تار وسيلي پري رهندڙ ماڻهن کي ساڳئي ڏينهن تي پيغام پهچي ويندو آهي. تنهن ڪري تار موڪلڻ خط موڪلڻ کان گهڻي مهانگي آهي.

**سرگرمي:**

هڪ کاغذ تي اهو پيغام لکو، جيڪو شکل 7.4 ۾ خط ۾ ڏنل آهي، پر ان ۾ فقط ٻه ئي ڳالهيون ٽيليگرام (تار) ڪرڻ جهڙيون لکو.

**فيڪس:**



ماڻهو لکت وارا پيغام موڪلڻ لاءِ فيڪس مشين جو استعمال پڻ ڪن ٿا. فيڪس ڪرڻ لاءِ:

- هٿ سان لکيل يا ٽائپ ڪيل کاغذ فيڪس مشين ۾ رکو.
- جنهن ماڻهوءَ کي فيڪس موڪلڻو آهي ان جو نمبر ملايو.
- فيڪس مشين ٻڌائيندي ته پيغام پهتو يا نه.

**انٽرنيٽ:**

شروعات ۾ ذاتي ڪمپيوٽر يا PCs تمام سادي مشين هئي. بس ان تي ڪم جو اڪلاڻ ٿي ٿيو يعني ڪم تڪڙو ٿي ويو ٿي، جيڪو ٻين طريقن سان به ٿي سگهندو هو. جيئن ئي شخصي ڪمپيوٽر جو استعمال وڌيو، تيئن ئي ڪمپيوٽرن کي هڪ ٻئي سان ڳنڍڻ ۽ هڪ ٻئي جي

جاڻ مان فائدو وٺڻ توڙي وسيلن وڌائڻ جي ضرورت اهم بنجي وئي. پوري دنيا ۾ ڪمپيوٽر جي وڏي تعداد ۾ انهيءَ ڳانڍاپي کي انٽرنيٽ چيو وڃي ٿو. انٽرنيٽ مواصلات کي بيحد آسان ڪري ڇڏيو آهي.

**ماڻهو انٽرنيٽ کي هيٺين مقصدن لاءِ استعمال ڪن ٿا:**

- سڄي دنيا جي چوڌاري ٻين ڳالهائيندڙن ”چيٽرن“ سان چيٽ ڪرڻ يعني ڳالهائڻ.
- مائٽن، دوستن ۽ ڪم ڪار جي مقصد لاءِ اي ميل ڪرڻ.
- انٽرنيٽ فون ذريعي ٻين سان ڳالهائڻ.
- انهن سان اسڪائپ ڪرڻ (انهن سان ڳالهائڻ دوران انهن کي ڏسڻ).

انٽرنيٽ سماجي ڳانڍاپي لاءِ پڻ استعمال ٿئي ٿي (دوستن يا واسطي وارن سان تعلق ۾ رهڻ لاءِ). ماڻهو فيس بڪ ۽ ٽوئٽر تي پنهنجا اڪائونٽ (ڪاتا) رکن ٿا. فيس بڪ تي اهي پنهنجون تصويرون رکن ٿا ۽ دوستن لاءِ پيغام ڇڏين ٿا، جيڪي وري ان جو يا ته جواب ڏين ٿا يا پنهنجي راءِ جو اظهار ڪن ٿا. ٽوئٽر تي ماڻهو پنهنجون تصويرون رکن ٿا ۽ مختصر پيغام موڪلين ٿا يا ٻين ماڻهن جي پيغامن تي پنهنجي راءِ ڏين ٿا. ٽوئٽر تي فقط 280 اکرن جو پيغام ڇڏي سگهجي ٿو.



انٽرنيٽ ۽ ويب سائيٽ جا مختلف ڏيک

## اختصار

- هن باب ۾ اسان هيٺيون ڳالهيون سکيون آهن.
- مواصلات جي ذريعي اسان ٻين ڏانهن پيغام موڪلي ۽ انهن کان پيغام وصول ڪري سگهون ٿا. مواصلات جا ڪيترائي ذريعا آهن جيئن آمهون سامهون يا ٽيليفون تي ڳالهه ٻولهه ڪرڻ، خط، فيڪس ۽ انٽرنيٽ.
  - اڄڪلهه انٽرنيٽ مواصلات جو انتهائي اهم ذريعو آهي، انٽرنيٽ مواصلات کي انتهائي آسان بنائي ڇڏيو آهي ڇو جو ان جي مدد سان اسين ڳالهائي سگهڻ کان سواءِ اي ميل (برقي ٽپال) پڻ موڪلي سگهون ٿا ۽ اسان انٽرنيٽ تي فون استعمال ۽ اسڪائپ (ماڻهن سان ڳالهائڻ کان سواءِ ڏسي پڻ) ڪري سگهون ٿا. ان سان گڏ سماجي رابطن وارين ويب سائيٽن جيئن ”فيس بڪ“ ۽ ”ٽوئٽر“ ذريعي دوستن ۽ واسطي وارن سان رابطي ۾ رهي سگهون ٿا.

## مشق

### (الف) هيٺيان خال ڀريو:

1. اسان فون تي \_\_\_\_\_ سگهون ٿا.
2. اڄڪلهه گهڻا ماڻهو \_\_\_\_\_ تي ڳالهائڻ پسند ڪن ٿا.
3. اسان خط \_\_\_\_\_ ۽ \_\_\_\_\_ ذريعي موڪليون ۽ حاصل ڪريون ٿا.
4. انٽرنيٽ \_\_\_\_\_ کي آسان ڪري ڇڏيو آهي.

### (ب) هيٺين سوالن جا جواب ڏيو:

1. مواصلات جي مختلف ذريعن جا نالا ٻڌايو.
2. اهڙا طريقا ٻڌايو جن جي ذريعي ڪمپيوٽرن مواصلات کي آسان بنايو آهي.
3. جدول ٺاهيو ۽ پڙهو:

(ج) هيٺ ڏنل ٽيبل جهڙي ٽيبل ٺاهيو، مواصلات جي ذريعن جا نالا لکي، انهن جي سامهون هر هڪ جا ٻه فائدا ۽ ٻه نقصان لکو.

مواصلات جا ذريعا	فائدا	نقصان

### (د) عملي ڪم:

1. هڪ پوسٽ ڪارڊ (ٽپال جو ڪارڊ) ٺاهيو. ان جي هڪ پاسي هڪ تصوير ۽ ٻئي پاسي دوست لاءِ پيغام لکو ۽ ان کي ٽپال رستي دوست ڏانهن موڪليو.
2. ذاتي فون نمبرن جي ڊائريڪٽري (عبارت نامو) ٺاهيو. ان ۾ پنهنجي دوستن جا نالا الف ب جي ترتيب سان ڏئي سامهون انهن جا فون نمبر لکو. پنهنجي علائقي ۾ موجود هيٺين ايمرجنسي سروس وارن ادارن جا نمبر ڳولي ٻڌايو. پوليس، فائر برگيڊ ۽ اسپتال.

### (ه) تحقيقات:

پنهنجي ڪنهن استاد، والدين، وڏن ڀائرن ۽ پيئرن ۽ انٽرنيٽ جي مدد سان موبائيل فون يا ڪمپيوٽر جي تاريخ لکو، ان جي ايجاد ٿيڻ ۽ ان کان پوءِ ٿيل ترقيءَ جي تائيم لائين (وقت جو چارٽ) ٺاهيو.

## ٻين سان گڏ زندگي گذارڻ

شاگردن جي سڪڻ جا نتيجا

هن باب جي پڄاڻيءَ تي شاگرد ان لائق ٿيندا ته:

- تڪرار ۽ امن جي وصفن کي سمجهي سگهن.
- تڪرار ۽ امن جي امڪاني نتيجن جي نشاندهي ڪري سگهن.
- امن جي قائم ٿيڻ جا امڪاني طريقا پيدا ڪري سگهن.
- اهو سمجهي سگهن ته تڪرار اڻٿر آهن ۽ انهن سان (هاڪاري انداز ۾) منهن ڏئي سگهجي ٿو.
- تڪرار کي حل ڪرڻ جي مختلف طريقن جي نشاندهي ڪري سگهن.
- اهو سمجهي سگهن ته مواصلات ۽ رابطو تڪرار کي حل ڪرڻ جو اهم طريقو آهي.
- مسئلن کي حل ڪرڻ جي طريقن جي مدد سان ذاتي (گهر، اسڪول) مسئلن کي حل ڪري سگهن.



## ٻين سان گڏجي رهڻ

اسين هڪ ئي وقت ڪيترن ئي سماجن ۾ گڏ رهون ٿا. مثال طور خاندان، اسڪول، پاڙو. انهن ئي سماجن ۾ اسان هڪ ٻئي سان سهڪار ڪرڻ، پنهنجي سوچن ۽ احساسن کي ٻين تائين ۽ پاڻ جهڙن ۽ پاڻ کان مختلف ماڻهن سان گڏ رهڻ سکون ٿا. جڏهن اسين درست نموني هڪٻئي سان رابطي ۾ اچون ٿا، هڪ ٻئي جي عزت ڪريون ٿا ۽ پنهنجن مسئلن کي گڏجي سڏجي حل ڪريون ٿا، تڏهن حقيقت ۾ اسين امن امان کي هٿي ڏيون ٿا. ڪڏهن ڪڏهن اسين ان وقت ماڻهن سان جهڳڙي ۾ ايندا آهيون، جڏهن اسان جون ضرورتون، عقيدا ۽ قدر هڪٻئي کان مختلف هوندا آهن. مثال طور، توهان وٽ فقط هڪ ئي پينسل آهي. توهان کي ۽ توهان جي ڀاءُ/پيٽ کي ساڳئي وقت ان جي ضرورت آهي. جيئن ته پينسل فقط هڪ ئي آهي، ان ڪري تڪرار پيدا ٿئي ٿو.

### سرگرمي:

انهن سڀني سماجن جا نالا لکو جن سان توهان جو واسطو آهي.

### تڪرار ڇا آهي؟

تڪرار اسان جي زندگين جو رواجي ۽ قدرتي حصو آهي. تڪرار پاڻمرادو ڪا خراب شيءِ نه آهي. پر جنهن طريقي سان اسين ان جو جواب ڏيندا آهيون، اهو جواب طئي ڪندو آهي ته تڪرار سٺو آهي يا خراب. مٿئين مثال مطابق توهان کي ۽ توهان جي ڪنهن ڀاءُ/پيٽ کي ساڳئي وقت هوم ورڪ ڪرڻ لاءِ پينسل جي ضرورت آهي. توهان ان لاءِ وڙهي سگهو ٿا ۽ جيئن ته توهان عمر ۾ وڏا ۽ جسماني طور مضبوط آهيو، ان ڪري توهان پينسل زوريءَ ڦري سگهو ٿا، پر ان سان توهان جو ننڍڙو ڀاءُ/پيٽ رڙيون ڪندو ۽ ناراض ٿي پوندو. توهان پاران مسئلي کي ڏنل رد عمل ان کي خراب بنائي ڇڏيو آهي. توهان جو ننڍڙو ڀاءُ/پيٽ ناراض ۽ ڏکيل آهي.

هاڻي ساڳئي مثال تي ٻيهر ڏسو. توهان پنهنجي وڏي ڀاءُ/پيٽ هجڻ جي حيثيت ۾ پنهنجي ننڍي ڀاءُ/پيٽ جي هوم ورڪ ڪرڻ ۾ مدد ڪرڻ کان پوءِ ساڳي پينسل سان پنهنجو ڪم ختم ڪريو. توهان جو اهڙو رد عمل ان تڪرار کي پرامن بنائي ڇڏيندو ۽ توهان جو ڀاءُ/پيٽ خوش ٿي ويندو.

## تڪرار جا سبب:

تڪرار جا سبب ٽن حصن ۾ ورهائي سگهجن ٿا: دولت، طاقت (بين تي اثر انداز ٿيڻ) ۽ قدرن تي تڪرار. مثال طور جيڪڏهن ٻه ٻار فقط هڪ پينسل تي وڙهي رهيا آهن (جيئن مٿئين مثال ۾) ته اهو تڪرار گهٽ وسيلن تي آهي. جيڪڏهن ٻار ٻئي ٻار کي ديڄاري يا ڌمڪائي ته اهو تڪرار طاقت جي غلط استعمال تي آهي. جيڪڏهن ڪو امير ٻار ڪنهن غريب ٻار تان ٺٺوليون ڪري رهيو آهي ته ان جو مطلب ته هُن/هن کي سيڪاريو ويو آهي ته غريب نيچ هوندا آهن. اهڙيءَ طرح تڪرار جو سبب قدرن ۾ فرق آهي. طاقت ۽ ملڪيت جا تڪرار، قدرن جي تڪرار کان حل ڪرڻ ۾ آسان هوندا آهن.

## سرگرمي:

تڪرار جي هر قسم: طاقت، دولت ۽ قدرن مان هر هڪ جو هڪ مثال پنهنجي گهر، اسڪول يا پاڙي مان ڏيو.

## تڪرار جو جواب يا ردِ عمل:

جيئن اسان مٿي پڙهيو آهي ته تڪرار اسان جي زندگين جو رواجي ۽ قدرتي حصو آهي. حقيقت ۾ تڪرار کي، ڏنل اسان جو ردِ عمل اهو طئي ڪندو آهي ته اهو تعميري يا تباهي آڻيندڙ تڪرار آهي. وڳوڙ تڪرار جو تباهي آڻيندڙ جواب آهي. جڏهن ته تڪرار سان منهن ڏيڻ لاءِ عدم تشدد ۽ بيا تعميري طريقا سٺيون تبديليون آڻين ٿا. جيئن پنهنجي دوست سان ڪنهن تڪرار کي ڳالهين جي ذريعي نبيرڻ توهان لاءِ بيا به ڪيترائي دوست پيدا ڪندو. پاڻيءَ جي اڻ برابري واري ورهاست تي جهڳڙي ڪرڻ لاءِ هر ڪنهن کي قطار ۾ بيھڻ ۽ واري واري سان پاڻي وٺڻ جي لاءِ چوڻ تڪرار کي نبيرڻ جو تعميري ۽ صحتمند نبيرو آهي. وڳوڙ ۽ بيا تباهي آڻيندڙ طريقا، ڪنهن تڪرار کي وڌيڪ ڳنڍڻ بنائين ٿا. اهڙيءَ طرح تڪرار کي زور زبردستيءَ ذريعي نبيرڻ جي ڪوشش توهان جي دوستن کي به توهان جو دشمن بنائي ڇڏيندي. ان کان سواءِ ڪنهن کي ان ڪري قتل ڪرڻ ته ان جا عقيدا ۽ قدر توهان جي عقيدن ۽ قدرن کان مختلف آهن، پڻ وڌيڪ قتل عام جو سبب بڻجي ٿو.

## تڪرار کي نبيرڻ جا طريقا:

تڪرار کي نبيرڻ جا ڇهه طريقا آهن.

## رابطي ۾ اچڻ:

غلط فهميون به تڪرار پيدا ڪري سگهن ٿيون. ڳالهه ٻولهي مسئلي/غلط فهمين کي نبيرڻ ۾ مدد ڏئي سگهن ٿيون.

## ڳالهيون ڪرڻ:

جڏهن به يا ان کان وڌيڪ ماڻهو ڪنهن تڪرار تي غور ڪري اهڙو حل ڪيڏ لاءِ بحث ڪندا آهن، جيڪو ٻنهي ڌرين لاءِ فائديمند هجي ته اهي هيٺيان قدم کڻندا آهن. پهريون قدم: هڪ ڌر پنهنجا دليل پيش ڪندي آهي. ٻيو قدم: ٻي ڌر پنهنجو نقط نظر پيش ڪندي آهي. ٽيون قدم: ٻئي ڌريون فيصلو ڪنديون آهن ته ڪنهن جا دليل وڌيڪ مضبوط آهن.

## تياڪڙي:

ڪڏهن ڪڏهن ماڻهو پنهنجا مسئلا پاڻ حل ڪرڻ چاهيندا آهن، پر ائين ڪرڻ ممڪن نه هوندو آهي. ان ڪري اهي ڪنهن اهڙي ماڻهوءَ کي مدد لاءِ چوندا آهن، جيڪو تڪرار ۾ ڌر نه هوندو آهي. ان وچ واري ماڻهوءَ کي تياڪڙي ڪندڙ چئبو آهي. تياڪڙي ڪندڙ ڳالهين ڪرائڻ لاءِ مٿي ذڪر ڪيل قدامت جو استعمال ڪندو آهي ته جيئن تڪرار ڪندڙ ماڻهو هڪ ٻئي کي سمجهي سگهن ۽ گڏيل ٺاه سان ڪو فيصلو ڪري سگهن. تياڪڙي ڪندڙ جو ڪم فيصلو ڪرڻ نه پر جيڪي ڌريون تڪراري آهن، انهن کي فيصلي ڪرڻ ۾ مدد ڪرڻ آهي.

## فيصلو ڪرڻ:

فيصلي ڪرڻ لاءِ هڪ منصف يا امين کي سڏيو ويندو آهي. منصف تڪرار سان لاڳاپيل ڌرين جو فيصلو ڪندو آهي. اهڙيءَ طرح سان، جڏهن ماڻهو ڪنهن منصف جي مدد وٺن ٿا ته انهن کي ان جو ڏنل فيصلو قبول به ڪرڻو پوندو آهي.

## مقدمي بازي ڪرڻ:

جڏهن ماڻهو پاڻ ۾ ڪوبه تڪرار حل نه ڪري سگهندا آهن ته پوءِ اهي عدالت ۾ ويندا آهن. ٻئي ڌريون وڪيلن جون خدمتون حاصل ڪنديون آهن. هر ڌر جو وڪيل جج (منصف) کي عدالت ۾ اهو قائل ڪرڻ جي ڪوشش ڪندو آهي، ته هوجن ماڻهن جي پاران عدالت ۾ پيش ٿيو آهي اها ڌر صحيح آهي. جج ٻنهي ڌرين جا دليل ٻڌڻ کان پوءِ قانون جي مطابق فيصلو/حل ٻڌائيندو آهي. قانوني طرح ٻئي ڌريون جج جي فيصلي کي مڃڻ لاءِ پابند آهن، پر ماڻهن کي اعليٰ عدالت ۾ وڃڻ جو حق حاصل آهي.

## قانون سازي ڪرڻ:

قانون سازيءَ جو مقصد ڪنهن به شيءِ کي قاعدو يا قانون بنائڻي ڇڏڻ آهي. ڪڏهن ڪڏهن ڪو تڪرار وري وري پيدا ٿيندو آهي. تڪرار جي ٻيهر پڙڪڻ کان بچڻ لاءِ موجود قانون تبديل يا نوان قانون ٺاهبا آهن.

## رابطي ۾ رهڻ جا طريقا:

ڪنهن به تڪرار کي حل ڪرڻ يا ان کي وڌيڪ خراب بنائڻ ۾ رابطي جو وڏو هٿ آهي. رابطي ۾ رهڻ جو مقصد صرف ڳالهائڻ يا ٻڌڻ نه پر اهڙو ڳالهائڻ يا ٻڌڻ آهي، جيڪو اسان کي ٻين جي ڳالهه سمجهڻ ۾ مدد ڪري.

## 1. ڌيان سان ٻڌڻ:

ڌيان سان ٻڌڻ جي مهارت جو مقصد آهي ته ڪيئن ٻين کي همٿائجي، وضاحت ڪجي، ٻيهر ڳالهه بيان ڪجي ۽ ان کي مختصر ڪجي ته جيئن معاملي کي درست نموني سمجهي سگهجي.

### همٿائڻ:

ڪنهن ماڻهو جي ڳالهه ٻڌڻ ۾ دلچسپي ڏيکاريو ۽ هن کي پنهنجي ڳالهه ڪرڻ لاءِ همٿايو. جيئن آءُ ساره جي باري ۾ وڌيڪ ٻڌڻ پسند ڪندس.

### وضاحت:

جيڪڏهن توهان ڪا اڳ ڪيل يا مڃيل ڳالهه سمجهڻ چاهيو ٿا ته ان جي باري ۾ سوال ڪريو. جيئن ان ڳالهه مان توهان جو ڇا مقصد آهي، مهرباني ڪري ان جي ٻيهر وضاحت ڪريو.

### ٻيهر بيان ڪريو:

ڪنهن ڳالهه جي بنيادي خيال کي پنهنجي لفظن ۾ ٻيهر چئو ته جيئن اهو واضح ٿي سگهي ته توهان صحيح ڳالهه ٻڌي يا سمجهي آهي. اهو ضروري آهي ته مختصر انداز ۾ ڪنهن ڳالهه جي اهم نقطن کي ٻيهر ورجايو وڃي. مثال طور ”توهان چاهيو ٿا ته ڪريم توهان جو دوست ٿي پوي، ڇا اهو صحيح آهي؟“

اهو ڏيکاريو ته توهان ٻئي ماڻهو جي احساس کي سمجهو ٿا، مثال طور: ”جڏهن ساره ۽ ان جي دوستن توهان کي نظرانداز ڪيو ته توهان کي ڏاڍو خراب لڳو.“

### مختصر ڪريو:

اهم ڳالهين جو نئين سر جائزو وٺڻ لاءِ اهم نڪتن کي ٻيهر ورجايو ۽ اهم نقطن کي گڏ ڪريو. ساڳي ڳالهه جي هر هر ورجاءِ کان بچڻ لاءِ اختصار جو استعمال ڪريو. مثال طور ”مون هيستائين جيڪو ٻڌو آهي، مهرباني ڪري مون کي ان جو اختصار پيش ڪرڻ ڏيو.“

## 2. اثرانداز طريقي سان ڳالهائڻ:

اثرانداز طريقي سان ڳالهائڻ سان ٻئي ماڻهو تائين پنهنجا خيال ۽ احساس منهن ماري کان سواءِ پهچائي سگهجن ٿا ۽ ان طريقي سان وڌيڪ سٺي انداز ۾ بحث مباحثو پڻ ٿي سگهي ٿو. مثال طور، جيڪڏهن توهان کي اها خبر پئي ته، هميشه وانگر، توهان جي ساٿيءَ توهان جي ميز تان توهان جي پين ڪٺي آهي پر موٽائي نه ڏني آهي. توهان ان سان اهو چئي منهن ماري ڪري سگهو ٿا ته ”تون ڇو هميشه وانگر منهنجيون شيون کڻندو رهين ٿو؟“ يا وري توهان ڪو اثرانداز جملو ڳالهائڻ جيئن ”جڏهن منهنجي ميز تان منهنجيون شيون غائب ٿينديون آهن ته مان پريشان ٿي ويندو آهيان، ڇو ته ضرورت جي وقت اهي اتي موجود نه هونديون آهن.“ اثر انداز جملا منهن ماريءَ جي بجاءِ صحتمند بحث ڏي وٺي وڃن ٿا.

## سرگرمي:

<p>1. _____ آءَ محسوس ڪريان ٿو _____ (مخصوص ٿيو)</p>	<p>1. _____ <b>علي رومان</b> آءَ ڪاوڙ محسوس ڪريان ٿو جڏهن توهان مون سان خراب انداز ۾ ڳالهايو ٿا (مخصوص ٿيو)</p>
<p>2. _____ جڏهن توهان _____ (ورتاءَ ۽ صورتحال جا تفصيلات پيش ڪريو)</p>	<p>2. _____ <b>عبدالرحمن</b> جڏهن توهان منهنجي پين ڪٽي ۽ مون کي واپس نه ڏني ته مون سوال ڪيو (ورتاءَ ۽ صورتحال جو تفصيل پيش ڪريو)</p>
<p>3. _____ ڇاڪاڻ ته _____ (هي ڏکيو آهي: ”ڇو“)</p>	<p>3. _____ <b>عبدالرحمن</b> ڇاڪاڻ ته مون کي ڪنهن خاص ڪم لاءِ پين جي ضرورت هئي (هي ڏکيو آهي: ”ڇو“)</p>

### 3. بنا روڪ ٿوڪ جي سوال پڇڻ:

ڪنهن تڪرار جي صورتحال ۾ بنا روڪ ٿوڪ جي سوالن پڇڻ سان، اسين ان جهڳڙي بابت ۽ ٻين ماڻهن لاءِ ڪهڙي ڳالهه ضروري آهي ان بابت اهم ڄاڻ حاصل ڪري سگهون ٿا. بنا روڪ ٿوڪ سوالن ذريعي اسان کي اها خبر پوي ٿي ته تڪرار ۾ ڪهڙا ماڻهو ملوث آهن ۽ اهي ڇا ٿا چاهين. ان مان اسان کي ان تڪرار کي نبيرو ۾ وڏي مدد ملي ٿي. هيٺ ڏنل مثال ۽ ڏنل سوال پڙهو:

امجد ۽ اسد ساڳئي ڪلاس جا ٻه دوست آهن. امجد کي هڪ نئين پينسلن واري پيتي جي ضرورت هئي پر اها وٺي ڪونه سگهيو. جڏهن اسد پنهنجي نئين پينسلن واري پيتي اسڪول آندي ۽ امجد کي ڏيکاريائين ته امجد چيو ته اها پيتي خراب آهي.  
اسد: تنهنجي پينسلن جي پيتيءَ جيتري خراب نه آهي!  
امجد: تنهنجي پينسلن واري پيتي وڌيڪ خراب آهي.  
امجد اسد جي نئين پينسلن واري پيتي کي ڪٿي فرش تي اڇلائي ڇڏيو. نتيجي ۾ پيتي پڇڻ سان گڏ ان ۾ موجود سامان سڄي ڪمري ۾ فرش تي پڪڙجي ويو. اسد امجد ڏانهن وڌي هن کي ڏک هڻڻ جي ڪوشش ڪئي. امجد پري هٽي ويو. اسد هن کي قميص مان وٺي ان کي ڦاڙي ڇڏيو. امجد رڙ ڪري چيو ته: ”تو کي مون کي نئين قميص وٺي ڏيڻي پوندي.“

بنا روڪ ٿوڪ سوال:

1. امجد ڇا ٿي چاهيو؟
2. اسد جي نئين پينسلن واري پيتي ڏسي امجد ڇا محسوس ڪيو؟
3. امجد ڇا ڪيو؟
4. اسد ڇا ٿي چاهيو؟
5. اسد پنهنجي پينسلن جي نئين پيتيءَ جي باري ۾ ڇا ٿي سوچيو؟
6. امجد ڇا ڪيو؟



## اختصار

هن باب ۾ اسان هيٺيون ڳالهائون سڳيون آهن.

- اسان ٻين سان گڏ هڪ ئي وقت ڪيترن ئي سماجن ۾ رهون ٿا، جيئن خاندان، اسڪول، پاڙو ۽ ڳوٺ/شهر. ڪڏهن ڪڏهن اسان جو ٻين سان ڪنهن ڳالهه تان تڪرار ٿي پوندو آهي، ڇو جو اسان جون ضرورتون، گهرجون، عقيدا ۽ قدر مختلف هوندا آهن. تڪرار اسان جي روزمره جي زندگين جو رواجي ۽ قدرتي حصو آهي. تڪرار پاڻمرادو ڪا سٺي يا خراب شيءِ نه آهي، پر جنهن طريقي سان اسين ان تڪرار کي حل ڪرڻ جي ڪوشش ڪندا آهيون، ان مان خبر پوندي آهي ته اهو تڪرار تعميري آهي يا تباهي ڪندڙ آهي.
- تڪرار جي تن اهم سببن جو تعلق دولت، طاقت ۽ قدرن سان آهي.
- تڪرار کي حل ڪرڻ جا ڇهه تعميري طريقا هي آهن: رابطو ڪرڻ، ڳالهه ٻولهه ڪرڻ، تياڪڙي ڪرڻ، فيصلو ڪرڻ، عدالت ۾ ڪيس ڪرڻ ۽ آئين سازي ڪرڻ. اسين ٻار پهرين تن طريقن جو استعمال ڪندا آهيون.
- رابطو ڪرڻ بيحد اهم آهي ان ڪري توهان کي رابطي ڪرڻ جي مهارت جا طريقا جيئن ڏيان سان ٻڌڻ، صاف انداز ۾ ڳالهائڻ ۽ بنا روڪ ٽوڪ جي سوال جواب ڪرڻ سيکاريو ويا آهن. توهان انهن طريقن کي وري وري ورجائي رابطي ڪرڻ واري مهارت سڳو.

## مشق

### (الف) هيٺيان خال ڀريو:

1. \_\_\_\_\_ اسان جي زندگين جو رواجي ۽ قدرتي حصو آهي.
2. رابطو \_\_\_\_\_ جو تعميري جواب آهي.
3. تڪرار \_\_\_\_\_ طريقن سان نبيري سگهجي ٿو.
4. تياڪڙيءَ ۾ \_\_\_\_\_ کي مدد ڪرڻ لاءِ سڏبو آهي.
5. تڪرار جا \_\_\_\_\_ اهم سبب آهن.

### (ب) هيٺين سوالن جا جواب ڏيو:

1. امن ۽ تڪرار جي وصف بيان ڪريو .
  2. ڪنهن به سماج ۾ تڪرار سان منهن ڏيڻ جا ڪي به ٽي تعميري طريقا ٻڌايو.
  3. ڪنهن به سماج ۾ تڪرار کي ناڪاري انداز ۾ حل ڪرڻ جا ڪي به ٽي طريقا ٻڌايو.
  4. تڪرار کي حل ڪرڻ جي ڪن به ڇهن طريقن جا نالا ٻڌايو.
  5. امن امان جي قائم ٿيڻ جا ڪي به ٽي طريقا ٻڌايو.
1. گهر ۾      2. اسڪول ۾      3. پنهنجي سماج ۾

### (ج) جدول ٺاهيو ۽ پڙهو.

1. هيٺين جدول ڀريو.

احساس	مون کي ڪيئن پيش اچڻ گهرجي	رويو هاڪاري آهي يا ناڪاري
خوشي		
ڪاوڙ		
ساڙ		
امن		
تڪليف پهچائڻ		

### (د) عملي ڪم:

ڪلاس کي چئن جي ٽولين ۾ ورهايو. هر ٽوليءَ کي تڪرار جي هڪ صورتحال ڏيو (جيڪي هيٺ ڏنل آهن) ۽ تڪرار کي حل ڪرڻ جي هڪ هڪ حڪمت عملي (رابطو، ڳالهه ٻولهه، تياڪڙي ۽ فيصلو ڪرڻ) استعمال ڪريو. انهن کي چئو ته هڪ ڊرامي جي ذريعي تڪرار ۽ ان جي نبيري جو ڪردار ادا ڪن.

- گل ۽ ڪويتا ان ڳالهه تي بحث ڪري رهيا آهن ته رنگين پينسلن واري پيتي ڪير استعمال ڪندو.
- ڪلاس ۾ بحث مباحثي لاءِ ريحان، اسلم ۽ مير کي ذميوار ڏني وئي آهي ته هڪ موضوع ڳولين. هر هڪ جا موضوع لاءِ مختلف خيال آهن ۽ اهي گڏيل موضوع نٿا چوندي سگهن.
- سيما ان جي ڪري ناراض آهي ته هن جي بهترين دوست ريحان رسييس (وقفي) ۾ هن کي نظرانداز ڪري شازيه سان ويني هئي.
- مهريين شازيه تي سماجي اڀياس جي ٿيسٽ دوران نقل ڪرڻ جو الزام هنيو آهي.
- ضيا ۽ گل ساڳي ڪرڪيٽ ٽيم ۾ کيڏي رهيا آهن پر ٻئي بئننگ ڪرڻ چاهين ٿا. اهي هڪٻئي سان رڙيون ڪن ٿا.
- ڪجهه ٻار ماريه کي ڪلاس ۾ چيڙائي رهيا آهن. جنهن ڳالهه کان ماريه کي نفرت آهي. ان بابت هن پنهنجي استاد کي شڪايت ڪئي آهي.

### (ه) تحقيقات:

- ٻن نوجوانن جا امن بابت رايو لکو. انهن کان هيٺيان سوال پڇو ۽ انهن جا جواب ڏيو.
1. جڏهن توهان لفظ امن ٻڌو ٿا ته توهان جي دماغ ۾ ڪهڙا لفظ ۽ خيال اچن ٿا ۽ اهو لفظ توهان ڪڏهن ٻڌو؟
  2. توهان لفظ امن جي باري ۾ ڇا ٿا ڄاڻو؟
  3. ڪن به امن پسند ماڻهن جا نالا لکو.
  4. ڪهڙيون خوبيون انهن کي امن پسند بنائين ٿيون؟
  5. دنيا امن امان کان پوءِ ڪيئن نظر ايندي؟
  6. دنيا کي وڌيڪ امن امان واري بنائڻ لاءِ توهان ڪهڙيون ڳالهيون ڪندؤ؟

2. پنهنجي سماج ۾ ڪنهن به هڪ تڪرار جي باري ۾ ٻڌايو. نوجوانن جي مدد سان هيٺين سوالن جا جواب ڏيو:

1. تڪرار جي وصف بيان ڪريو.
2. تڪرار جي نتيجن بابت ٻڌايو.
3. اهو ٻڌايو ته تڪرار کي تعميري انداز ۾ حل ڪرڻ لاءِ ڇا ٿو ڪري سگهجي؟

## شيون ۽ خدمتون

شاگردن جي سڪڻ جا نتيجا

هن باب جي پڄاڻيءَ تي شاگرد ان لائق ٿيندا ته:

- اقتصادي پسند ۽ موقعي جي ملهه جون وصفون بيان ڪري سگهن.
- ذاتي مثالن (جيئن آئيس ڪريم ۽ چپس جي ٿيلهيءَ مان ڪنهن به هڪ جي چونڊ) جي مدد سان اقتصادي پسند ۽ موقعي جو ملهه جي نشاندهي ڪري سگهن.
- اقتصادي فيصلن (آئيس ڪريم جي بجاءِ ڪتاب خريد ڪرڻ) جا سبب ۽ اثر بيان ڪري سگهن.
- اهو سمجهي سگهن ته پنهنجي محدود وسيلن جي ڪري حڪومتون اقتصادي چونڊون (پسند/ناپسند) ڪن ٿيون.
- روزمره جي زندگيءَ ۾ استعمال ٿيندڙ شين ۽ خدمتن جي نشاندهي ڪري سگهن.
- روزمره جي زندگيءَ ۾ استعمال ٿيندڙ ساڳين خدمتن ۽ شين (چپس، مٺايون، مواصلات ۽ صحت جون خدمتون) جي پيٽ ڪري سگهن.

## شيون ۽ خدمتون

### شيون ۽ خدمتون ڇا آهن؟

اسان ڪلاس ٽئين ۾ پڙهي آيا آهيون ته مال اسباب اهي شيون آهن. جيڪي اسين خريد ۽ محسوس ڪري ۽ ڇهي سگهون ٿا. جيئن صوف، رانديڪا ۽ ڪتاب. مال ملڪيت، جنسون ۽ پيداوار.

اسان اهو به سڳيو آهي ته اسان ڪجهه اهڙيون شيون به خريد ڪريون ٿا، جن کي ڇهي نه ٿا سگهون. انهن کي 'خدمتون' چئبو آهي. هڪ 'خدمت' ڪنهن ٻئي ماڻهوءَ لاءِ ڪم يا فرض جي ادائينگيءَ کي چئبو آهي. مثال طور اسان وار ڪٽائڻ، تعليم، صحت، مرمت ڪرائڻ ۽ سفر ڪرڻ جون خدمتون خريد ڪندا آهيون. اسان سڀ شيون ۽ خدمتن جي ڏيئي لڀي، استعمال ۽ مٽا سٽا ڪندا آهيون. ڪجهه ماڻهو ڪارخانن ۾ ڪم ڪن ٿا جتي اهي مختلف ذريعن کي استعمال ڪري، اهي اسان لاءِ شيون تيار ڪن ٿا. انهن مان ڪجهه مثال ڪٽڪ مان بسڪيٽ ۽ ڪپهه مان ڪپڙا تيار ڪرڻ آهن. ڪجهه ماڻهو اسان کي 'خدمتون' مهيا ڪن ٿا، جيئن استاد، ڊاڪٽر، درزي، واڍا، بئڪر وغيره.

### سرگرمي:

هيٺين مان ڪهڙيون خدمتون ۽ ڪهڙيون شيون آهن.

- |            |                         |                                  |
|------------|-------------------------|----------------------------------|
| (i) گل     | (ii) رنگ ڪرڻ            | (iii) بسڪيٽن ٺاهڻ وارو بورچي     |
| (iv) سائڪل | (v) سئي هٽندڙ نرس       | (vi) گاهه وڍيندڙ مالهي           |
| (vii) ڪتاب | (viii) عمارت کي رنگ ڪرڻ | (ix) وار ڪٽيندڙ حجام (x) ڪئنڇيون |

اهي ماڻهو ۽ ڪارخانا جيڪي ذريعن جو استعمال ڪري شيون ۽ خدمتون مهيا ڪن ٿا، اهي اپت (پيدائش) ڏيندڙ آهن ۽ اهي ماڻهو جيڪي شيون ۽ خدمتون خريد ڪن ٿا، انهن کي واپرائيندڙ چئبو آهي.

### پئسن عيوض ملهه وٺڻ:

جڏهن به اسين شيون ۽ خدمتون خريد ڪريون ٿا، تڏهن اسين انهن جي قيمت ڏانهن ڏسون ٿا. جيتوڻيڪ هر شيءِ ۽ خدمت جي مقدار ۽ خاصيت ڏانهن پڻ ڏسندا آهيون. ڪنهن شيءِ جي



ساڳين مقدارن جي قيمتن جي ڀيٽ ڪرڻ سان اسين پئسي جو صحيح مُلھ معلوم ڪري سگهون ٿا ته بهتر سودو ڪهڙو آهي. 120 روپين ۾ ٻه ڊزن ڪيلا يا 195 روپين ۾ ٽي ڊزن ڪيلا؟ ان جي جواب لاءِ، هرايڪي جي قيمت معلوم ڪريو. ان لاءِ قيمت کي مقدار سان ونڊ ڪريو.

120 روپين جي 2 سان ونڊ ڪرڻ کان پوءِ = هر ڊزن جي قيمت 60 روپيا ٿي.

195 روپين جي 3 سان ونڊ ڪرڻ کان پوءِ = هر ڊزن جي قيمت 65 روپيا ٿي.

قيمت ۽ مقدار کان سواءِ اسان کي خاصيت جي پڻ ڀيٽ ڪرڻ ڪپي. هيٺ ڏنل جدولن 9.1 ۽ 9.2 ۾ ڊزئل مثالن ڏي نهاريو ۽ ٻڌايو ته توهان جي پئسن عيوض ڪهڙي خدمت يا شيءِ جو مُلھ آهي.

شيءَ جي قيمت	مقدار	خاصيت
5 روپين واري پٽائي جي چپس	50 گرام	سني ۽ سواڊي
10 روپين واري پٽائي جي چپس	125 گرام	سني ۽ سواڊي
5 روپين واري پٽائي جي چپس	75 گرام	لوڻيائي ۽ تيل واري

شڪل 9.1 شين جي قيمت واري جدول

خاصيت	مقدار	شيءَ جي قيمت
محفوظ، صاف، پوري وقت تي هر روز گهر اچڻ	هڪ مهيني لاءِ گهر مان ڪٽڻ ۽ ڇڏڻ جي سهولت	1000 روپين جي قيمت تي اسڪول جي گاڏيءَ جي سهولت
بس اسٽاپ گهر کان اڌ ڪلوميٽر پري آهي. اسڪول ويندي گاڏي خالي، جڏهن ته موت تي پريل هوندي آهي. بس ٽائيم تي نه اچڻ جي صورت ۾ 2 روپيا ڏنڊ پرڻو پوندو.	هر روز گهر مان اسڪول اچڻ وڃڻ جي سهولت	هر روز 20 روپين جي قيمت تي عوامي بس جي سهولت
محفوظ، صاف، پروسي جوڳي ۽ وقتائتي اچ وڃ لاءِ سهولت	هڪ مهيني لاءِ گهر مان ڪٽڻ ۽ ڇڏڻ جي سهولت	1500 روپين تي رکشي جي سهولت

شڪل 9.2 خدمتن جي جدول

ها، توهان صحيح آهيو ته 10 روپين ۾ 125 گرام سني ۽ مزيدار چيس پئسي جو صحيح مله آهي. ڪهڙي خدمت پئسي جي صحيح مله کي ظاهر ڪري ٿي.

### سرگرميون:

1. پنهنجي روزمره جي زندگيءَ جي ڪابه هڪ شيءِ چونڊيو ۽ هيٺئين جدول ۾ لاءِ ٽن ساڳين شين جي قيمتن، خوبين ۽ خاصيتن جي پيٽ ڪريو:

ڪنهن شيءِ جي قيمت	مقدار	خاصيت

2. پنهنجي روزمره جي زندگيءَ جي ڪابه هڪ خدمت چونڊيو ۽ هيٺئين جدول ۾ لاءِ ٽن ساڳين خدمتن جي قيمتن، خوبين ۽ خاصيتن جي پيٽ ڪريو.

ڪنهن شيءِ جي قيمت	مقدار	خاصيت


### اقتصادي چونڊ:

فرض ڪريو ته رسيس (وقفي) جي وقت توهان وٽ خرچ ڪرڻ لاءِ ڏهه روپيا آهن. هڪ ڪولڊ ڊرنڪ (ٽڙي بوتل) ۽ هڪ ٽيلهي چيس مان هر هڪ جي قيمت ڏهه روپيا آهي. توهان کي پنهنجي محدود پئسي جي ڪري خريداريءَ ۾ چونڊ ڪرڻي پوندي. محدود ذريعن ۽ آمدنيءَ جي ڪري ماڻهو کيس گهربل سڀ شيون ۽ خدمتون هڪ ئي وقت خريد نه ٿا ڪري سگهن. انهن کي ڪجهه شين جي چونڊ ۽ ڪجهه شين کي ڇڏڻو پوندو، جيئن توهان کي ڪولڊ ڊرنڪ (ٽڙي بوتل) ۽ چيس جي ٽيلهيءَ مان ڪرڻو پيو هو. ٻه يا ٻن کان وڌيڪ شين يا خدمتن مان ڪنهن به هڪ جي چونڊ کي اقتصادي چونڊ چئبو آهي. توهان جي والدين کي پڻ محدود وسيلن جي ڪري جيڪي شيون ۽ خدمتون خريد ڪن ٿا، انهن مان ڪن جي پسند ڪرڻي پوندي آهي. بلڪل ائين جيئن توهان کي چيس ۽ بوتل مان هڪ شيءِ جي چونڊ ڪرڻي پوندي آهي. جيئن اهي فلم ڏسڻ جي جاءِ تي سٺو ڪاڌو کائڻ کي ترجيح ڏئي سگهن ٿا. ان کان سواءِ توهان ۽ توهان جي خاندان وانگر حڪومت کي پڻ چونڊ ڪرڻي پوندي آهي. حڪومت کي پڻ پنهنجي محدود وسيلن جي صحيح استعمال لاءِ چونڊ ڪرڻي پوندي آهي. جيڪڏهن حڪومت بچاءَ جي نالي ۾ وڌيڪ خرچ ڪرڻ جو فيصلو ڪندي ته ان وٽ سڀني ٻارن کي تعليم ڏيارڻ لاءِ پئسا نه بچندا.

## موقعي جو مله:

هن باب جي شروعات ۾ ڏنل مثال مطابق جيڪڏهن توهان ڪولڊ ڊرنڪ (ٿڌي بوتل) جي چونڊ ڪري، چيس جي ٿيلهيءَ کي خريد ڪرڻ جو موقعو ڇڏيو ٿا، ته چيس جي ٿيلهي بوتل خريد ڪرڻ جي ڪري توهان لاءِ ”موقعي جو مله“ ٿيندي. اهڙيءَ طرح سان ٻي بهترين خواهش يا چونڊ (جنهن کي ضرور ڇڏي ڏجي) جڏهن ٻن مان هڪ جي چونڊ ڪجي ان کي ’موقعي جي مله‘ چئبو آهي. مگر ڪنهن ٻيءَ پسند کي نه فقط ۽ فقط ٻي سني ۾ سني پسند کي ’موقعي جو مله‘ چئبو آهي.

ڪنهن به پسند جي شيءِ لاءِ موقعي جو مله اهو آهي، جيڪو توهان خريد نه ڪيو. جيئن انيل کي ٻن شين مان هڪ جي چونڊ ڪرڻي آهي، هيءُ صوفن يا نارنگين مان ڪابه هڪ شيءِ خريد ڪري سگهي ٿو. هن صوفن جي چونڊ ڪئي. هن لاءِ نارنگيون موقعي جو مله آهن ڇو جو هو انهن جي چونڊ ڪري پئي سگهيو، پر هن ائين نه ڪيو. هن نارنگيون خريد ڪرڻ جي موقعي کي وڃائي صوفن جي چونڊ ڪئي.



شڪل 9.1 معاشي چونڊ ۽ موقعي جو مله

## سرگرميون:

1. توهان وٽ خرچ ڪرڻ لاءِ صرف 200 روپيا آهن ۽ توهان وٽ چونڊ ڪرڻ لاءِ ٻه ڳالهون آهن: يا ته توهان هڪ سني هوٽل تي وڃي کاڌو کائو يا وري کي ٻه سنا ڪتاب خريد ڪريو. جيڪڏهن توهان 200 روپين جا ڪتاب خريد ڪريو ٿا ته ان پسند جي ڪري ’موقعي جو مله‘ ڇا ٿيندو؟ ان جو توهان جي مستقبل جي زندگيءَ تي ڪهڙو اثر پوندو؟
2. توهان وٽ وانڊڪائيءَ جا صرف ٻه ڪلاڪ آهن. توهان يا ته ٽي وي پروگرام ڏسي يا وري ٻاهر وڃي ڪرڪيٽ کيڏي سگهو ٿا. جيڪڏهن توهان ٽي وي ڏسڻ جي چونڊ ڪريو ته ان پسند جي لاءِ موقعي جو مله ڇا ٿيندو؟ ان فيصلو جو توهان جي مستقبل جي زندگيءَ تي ڪهڙو اثر ٿيندو؟

**استاد لاءِ هدايتون:** شاگردن کي سمجهايو ته سرگرمي 1 ۾ پڇيل ”موقعي جو مله“ وڻندڙ کاڌو آهي. ڇو جو توهان ان جي چونڊ نه ڪئي. سرگرمي 2 ۾ پڇيل ”موقعي جو مله“ تي وي آهي ڇو جو توهان ان جي بجاءِ دوستن سان راند ڪرڻ کي ترجيح ڏني.

## اختصار

هن باب ۾ اسان هيٺيون ڳالهيون سکيون آهن.

- اسين شيون ۽ خدمتون خريد ڪندا آهيون. شيون اهي آهن جن کي اسين محسوس ڪري ۽ ڇهي سگهون ٿا. جيئن ڪتاب ۽ پينسلون وغيره. خدمتون بين لاءِ ڪيل ڪم يا فرض آهن. جهڙوڪ تعليم ۽ صحت وغيره.
- جڏهن اسين شيون يا خدمتون خريد ڪندا آهيون، تڏهن اسان کي انهن جي قيمتن، مقدار ۽ خوبين جي پڻ پيٽ ڪرڻ کپي. ان طريقي سان ئي اسين پئسي عيوض بهترين شيون ۽ خدمتون حاصل ڪري سگهون ٿا.
- اسين سڀ شيون ۽ خدمتون خريد ڪرڻ چاهيون ٿا، پر چاڪاڻ ته اسان وٽ محدود پئسا آهن، ان ڪري اسان کي ڪن شين جي چونڊ ڪرڻي پوندي آهي. ڪن به ٻن يا ٻن کان وڌيڪ شين (مال اسباب) ۽ خدمتن مان ڪنهن به هڪ جي چونڊ ڪرڻ کي ”اقتصادي پسند“ چئبو آهي.
- چونڊ ڪرڻ وقت ٻي بهترين خواهش يا پسند جنهن کي اسين ڇڏي ڏيندا آهيون، ان کي ”موقعي جو مُلھ“ چئبو آهي.
- ڪنهن پسند لاءِ ”موقعي جو مُلھ“ اها شيءِ آهي، جيڪا توهان ڇڏي ڏيو ٿا.

## مشق

### (الف) هيٺيان خال ڀريو:

1. ماڻهو \_\_\_\_\_ ۽ \_\_\_\_\_ خريد، استعمال ۽ ان جي ڏي وٺ ڪن ٿا.
2. \_\_\_\_\_ هڪ طبعي شيءِ آهي جنهن کي خريدي، ڇهي ۽ استعمال ڪري سگهجي ٿو.
3. \_\_\_\_\_ اهو ڪم آهي جيڪو ماڻهن جي لاءِ ان لاءِ ڪجي ٿو ڇو جو اهي ان جي قيمت ادا ڪن ٿا.
4. ڪلاس واري ڪمري ۾ منهنجي چوڌاري ٽي مال اسباب \_\_\_\_\_، \_\_\_\_\_ ۽ \_\_\_\_\_ آهن.
5. آءٌ به خدمتون \_\_\_\_\_ ۽ \_\_\_\_\_ استعمال ڪريان ٿو.

### (ب) هيٺين سوالن جا جواب ڏيو:

1. 'شيون' ڇا آهن؟ ڪن ٻن جا نالا لکو، جيڪي توهان پنهنجي روزاني جي زندگيءَ ۾ استعمال ڪندا آهيو.
2. 'خدمت' ڇا آهي؟ پنهنجي روزاني جي زندگيءَ ۾ استعمال ٿيندڙ ڪن ٻن خدمتن جا نالا لکو.
3. خدمتن ۽ شين ۾ فرق بيان ڪريو.
4. توهان اسپيلن (هجي) جي مقابلي جي تياري جي بجاءِ پنهنجي پسند جو ٽي وي پروگرام ڏنو. پنهنجي پسند ۽ موقعي جو ملهه ٻڌايو.

### (ج) جدول ٺاهيو ۽ پڙهو

نالو	ڪردار / ڪم
ڪارخانو	
دڪاندار	
واپرائيندڙ	
اپائيندڙ	
ماڻهو	
اسپتال	

### (د) عملي ڪم:

1. ڪن ٻه ٽن خدمتن جا رنگين خاڪا ٺاهيو، جيڪي توهان روزمره جي زندگيءَ ۾ گهر ۾ استعمال ڪريو ٿا.
2. ڪن ٻه ٽن خدمتن جا رنگين خاڪا ٺاهيو، جيڪي توهان روزمره جي زندگيءَ ۾ اسڪول ۾ استعمال ڪريو ٿا.

### (ه) تحقيقات:

شيون ۽ خدمتون جيڪي اسان روزمره جي زندگيءَ ۾ استعمال ڪريون ٿا. ڪالهه صبح کان ڪيل هر ڪم جي فهرست تيار ڪريو. انهن واقعن کي سلسليوار ترتيب ۾ لکو. توهان پوري ڏينهن ۾ استعمال ڪيل شين ۽ خدمتن جا تفصيل ڏيو.

استاد لاءِ هدايت: تحقيق جي لاءِ ٻارن کي يادگيري ڪرايو ته پنهنجي هر ننڍي يا وڏي ڳالهه کي لکن. جيتوڻيڪ ايڏي اهم نه به هجي مثال طور صبح جو اٿڻ مهل ڏندن کي برش ڏيڻ.

## نبي سڳورو حضرت محمد صلي الله عليه و آله وسلم

حضرت محمد صلي الله عليه و آله وسلم 12 ربيع الاول مطابق 20 اپريل 571ع تي مڪي شريف ۾ پيدا ٿيا. سندن تعلق قريش جي بنو هاشم قبيلي سان هو. سندن والده، حضرت عبدالله سندن ولادت کان ڇهه مهينا اڳ رحلت ڪري ويو. سندن ڏاڏي، حضرت عبدالطلب، سندن نالو ”محمد“ رکيو، جنهن جي معنيٰ آهي ”تمام ساراهيل“. سندن والده جو نالو بيبي آمنه بنت وهب هو. عرب جي آسودن خاندانن ۾ رواج هو ته اهي پنهنجا ٻار، صحيح پالنا واسطي، ڳوٺن ۾ رهندڙ ڏاين جي حوالي ڪندا هئا. اهي ڏاڻيون ٻارن کي پالينديون ۽ سنڀالينديون هيون. ٻارن کي ٻهراڙيءَ جي صحت افزا ماحول ۾ ڏاڍو لطف ايندو هو ۽ اهي نج عربي زبان سکي وٺندا هئا. پاڻ ڪريم صلي الله عليه و آله وسلم کي بني سعد قبيلي جي بيبي حليمه سعديه جي حوالي ڪيو ويو. بيبي حليمه کي پاڻ صلي الله عليه و آله وسلم سان ڏاڍو پيار هو ۽ هن کين وڏي خبرداريءَ ۽ شفقت سان نڀايو. پاڻ صلي الله عليه و آله وسلم ڪجهه وقت بيبي حليمه جي سار سنڀار هيٺ رهيا ۽ پوءِ پنهنجي والده وٽ مڪي موٽي ويا.

پاڻ ڪريم صلي الله عليه و آله وسلم جڏهن ڇهن ورهين جا ٿيا، تڏهن سندن والده بيبي آمنه وفات ڪري ويئي. ان کان پوءِ پاڻ صلي الله عليه و آله وسلم پنهنجي ڏاڏي حضرت عبدالطلب وٽ رهڻ لڳا. ٻن ورهين کان پوءِ جڏهن سندن ڏاڏي وفات ڪئي، تڏهن پاڻ ڪريم صلي الله عليه و آله وسلم پنهنجي چاچي، حضرت ابو طالب، جي سنڀال ۾ آيا. پاڻ ڪريم صلي الله عليه و آله وسلم ٻاروتڻ ۾ رين جي ڌڻن ۽ اٺن جي وڳن جي نظرداري ڪندا هئا. پاڻ صلي الله عليه و آله وسلم جڏهن جوان ٿيا، تڏهن واپار شروع ڪيو. پاڻ صلي الله عليه و آله وسلم پنهنجي ڏيئي لپيٽيءَ ۾ بيحد ايماندار ۽ سچا هئا، انهيءَ ڪري مڪي جا ماڻهو کين ”الصادق“ (سچا) ۽ ”الامين“ (ايماندار) سڏيندا هئا. پاڻ ڪريم صلي الله عليه و آله وسلم جي سچائيءَ ۽ ايمانداريءَ جو ٻڌي، مڪي جي اعليٰ ۽ امير خاتون، حضرت بيبي خديجه رضي الله تعالى عنها، کين پنهنجي ڪاروبار کي سنڀالڻ جي ذميواري ڏني. مُلڪ شام ڏانهن پنهنجي تجارتي سفر ۾ حضور صلي الله عليه و آله وسلم جن جي ايمانداريءَ واري ڏيئي لپيٽيءَ سبب، وڏو نفعو ٿيو، جيڪو حضرت بيبي خديجه رضي الله تعالى عنها جي اندازي کان گهڻو وڌيڪ هو. بيبي صاحب حضور صلي الله عليه و آله وسلم جن جي سچائيءَ ۽ ايمانداريءَ کان ايڏو ته متاثر ٿي جو کين شاديءَ جي آڇ



ڪيائين. پاڻ ڪريم صلي الله عليه وآله وسلم اها آڇ قبول ڪئي ۽ شادي ڪيائون. ان وقت پاڻ ڪريم صلي الله عليه وآله وسلم 25 ورهين جا هئا.

حضرت محمد صلي الله عليه و آله وسلم جي زماني ۾ عرب جا ماڻهو بُتن جي پوڄا ڪندا هئا، ڪوڙ ڳالهائيندا هئا، چوريون ڪندا هئا، شراب پيئندا هئا، جُوا کيڏندا هئا، پاڻ ۾ وڙهندا رهندا هئا ۽ معمولي ڳالهين تان هڪ ٻئي کي قتل ڪري ڇڏيندا هئا. وٽن ڪا چوڪري ڄمندي هئي ته انهن کي وڏي تڪليف ٿيندي هئي ۽ اڪثر ڪري ان کي جيئري ئي دفن ڪري ڇڏيندا هئا. حضور پاڪ صلي الله عليه و آله وسلم کي اهي ڳالهيون بنهه نه وڻنديون هيون.

پاڻ ڪريم صلي الله عليه وآله وسلم مڪي جي ڀرسان ”حرا“ نالي غار ۾ وڃي ”مراقبو“ ڪندا هئا. هڪ ڏينهن فرشتو جبريل عليه السلام غار حرا ۾ وٽن آيو. هن پاڻ ڪريم صلي الله عليه و آله وسلم کي الله تعاليٰ جو پيغام پهچايو. جبريل عليه السلام حضور صلي الله عليه و آله وسلم جن کي ٻڌايو ته الله تعاليٰ کين پنهنجو نبي (پيغمبر) چونڊيو آهي. ان وقت سندن عمر 40 سال هئي.

نبي پاڪ صلي الله عليه و آله وسلم، الله تعاليٰ جي پيغام ملڻ کان پوءِ ماڻهن کي سمجهايو ته اهي بچڙيون عادتون ڇڏي ڏين. بُتن جي پوڄا ترڪ ڪن ۽ الله تعاليٰ جي عبادت ڪن. پاڻ صلي الله عليه و آله وسلم جي اهڙيءَ تلقين تي مڪي جا ماڻهو ڏاڍو ڪاوڙيا. ٻيو ته نهيو پر سندن ويجهما مائت به سندن جاني دشمن ٿي پيا. جڏهن پاڻ ڪريم صلي الله عليه و آله وسلم ۽ سندن پوئلڳن کي دشمنن جي هٿان تمام گهڻيون تڪليفون ڏنيون ويون، تڏهن الله تعاليٰ کين حڪم ڪيو ته مڪي مان مديني هجرت ڪري وڃن. انهيءَ لڏپلاڻ کي ”هجرت“ سڏيندا آهن.

مديني شريف ۾ ان وقت به وڏا قبيلا اوس ۽ خزرج آباد هئا، جيڪي اڪثر پاڻ ۾ وڙهندا رهندا هئا پر پاڻ ڪريم صلي الله عليه وآله وسلم جي مديني ۾ اچڻ کان پوءِ انهن ٻنهي قبيلن جي وچ ۾ جهيڙو ختم ٿي ويو ۽ ماڻهو اسلام قبول ڪرڻ لڳا ۽ سندن تعداد ڏينهن ڏينهن وڌڻ لڳو. پاڻ صلي الله عليه وآله وسلم هڪ مسجد جو بنياد رکيو، جيڪا پوءِ مسجد نبوي جي نالي سان سڏجڻ لڳي. اسلام جي دشمنن پاڻ صلي الله عليه و آله وسلم کي مديني ۾ به آرام سان رهڻ نه ڏنو. هجرت جي ٻئي سال، دشمنن هڪ وڏو لشڪر گڏ ڪري ”بدر“ نالي هنڌ تي حضور صلي الله عليه و آله وسلم جن سان جنگ ڪئي. مسلمان ڪل 313 هئا، جڏهن ته دشمنن جو تعداد 1,000 هو. الله تعاليٰ مسلمانن کي فتح ڏني. ان کان پوءِ مسلمانن کي وڌيڪ جنگين ڪرڻ لاءِ مجبور ڪيو ويو، پر هر ڀيري دشمنن کي شڪست ملندي رهي.

حضور ڪريم صلي الله عليه و آله وسلم تمام سادي زندگي گذاريندا هئا. پاڻ ڪريم صلي الله عليه و آله وسلم سادو ڪائيندا هئا ۽ سادا ڪپڙا پائيندا هئا. پنهنجو ڪم پاڻ ڪندا هئا. پاڻ صلي الله عليه و آله وسلم نهايت رحمدل هئا ۽ جيڪڏهن ڪو ڪين تڪليف پهچائيندو هو ته ان کي به معاف ڪري ڇڏيندا هئا. پاڻ ڪريم صلي الله عليه و آله وسلم ٻارڙن سان ڏاڍو پيار ڪندا هئا. پاڻ ڪريم صلي الله عليه و آله وسلم غريبن ۽ ضرورتمندن جي مدد ڪندا هئا. پاڻ ڪريم صلي الله عليه و آله وسلم پاڙيسرين جو خيال رکندا هئا ۽ سندن عزت ڪندا هئا.

نبي ڪريم صلي الله عليه و آله وسلم، 12 ربيع الاول سن 11 هجري تي 63 ورهين جي ڄمار ۾ وصال ڪري ويا.

سڀني مسلمانن کي رسول ڪريم صلي الله عليه و آله وسلم جي تعليمات جي پيروي ڪرڻ گهرجي ۽ قول ۽ عمل ۾ پاڻ کي هڪ سچو مسلمان ثابت ڪرڻ گهرجي.

## مشق

(الف) هيٺين سوالن جا جواب ڏيو:

1. نبي ڪريم صلي الله عليه و آله وسلم ڪڏهن ۽ ڪٿي ڄاوا؟
2. عرب جا ماڻهو رسول پاڪ صلي الله عليه و آله وسلم کي ”الصادق“ ۽ ”الامين“ چو سڏيندا هئا؟
3. مڪي جي ماڻهن پاڻ ڪريم صلي الله عليه و آله وسلم جي مخالفت چو ڪئي؟

(ب) سرگرميون:

1. پيراگراف نمبر 7 ۾ نبي ڪريم صلي الله عليه و آله وسلم جي تعليمات ڏني وئي آهي، انهن مان هر هڪ تي توهان ڪهڙيءَ طرح عمل ڪريو ٿا.
2. حضور ڪريم صلي الله عليه و آله وسلم جن سادي زندگي گذاري. سندن حياتيءَ مان اوهان پنهنجي زندگيءَ کي سادو بڻائڻ لاءِ ڪو طريقو چونڊيو ۽ ان تي هلڻ جي ڪوشش ڪريو. اهڙين ڪوششن جو رڪارڊ ڪنهن ڊائريءَ ۾ پاڻ وٽ رکو.

(ج) عملي ڪم:

1. سعودي عرب جي نقشي تي مڪو ۽ مدينو ڳوليو.
2. پنهنجي اسڪول ۾ عيد ميلاد النبي صلي الله عليه و آله وسلم ملهايو. ڪنهن مذهبي عالم کي پاڻ صلي الله عليه و آله وسلم جي حياتي مبارڪ ۽ تعليمات تي ڳالهائڻ لاءِ گهرايو.

## خلفاء راشدين (خليفة سڳورا)

## حضرت ابوبڪر صديق رضي الله تعالى عنه

حضرت ابوبڪر صديق رضي الله تعالى عنه پاڻ نبي ڪريم صلي الله عليه و آله وسلم جن جو ننڍپڻ جو ساٿي ۽ صحابي هو. پاڻ ڏنڌي جي لحاظ کان واپاري هو ۽ مڪي جا ماڻهو سندس عزت ڪندا هئا. جڏهن پاڻ صلي الله عليه و آله وسلم نبوت جو اعلان ڪيو، تڏهن حضرت ابوبڪر صديق رضي الله تعالى عنه انهيءَ وقت ئي اسلام قبول ڪري ورتو. اهڙيءَ طرح پاڻ مردن ۾ سڀ کان پهرين اسلام قبول ڪيائون. قريش جي سخت مخالفت هوندي به، هو اسلام جي تبليغ ڪندو رهيو.

جڏهن حضور اڪرم صلي الله عليه و آله وسلم معراج جو واقعو بيان ڪيو، تڏهن ڪافرن حضرت ابوبڪر صديق رضي الله تعالى عنه کي چيو: ”اوهان جو نبي عجب جهڙيون ڳالهيون پيو ڪري، چوي ٿو ته پاڻ آسمانن جو سير ڪري راتو واه مڪي موٽي آيو آهي.“ حضرت ابوبڪر صديق رضي الله تعالى عنه پڇيو: ”ڇا پاڻ صلي الله عليه و آله وسلم واقعي ئي ائين چيو، جيڪو اوهان مون کي ٻڌائي رهيا آهيو؟“ هنن جواب ڏنو: ”هائو! اهي ڳالهيون هُنَ پاڻ ئي اسان کي ٻڌايون آهن.“ اهو ٻڌي حضرت ابوبڪر صديق رضي الله تعالى عنه هڪدم چيو: ”جيڪڏهن اهي ڳالهيون نبي ڪريم صلي الله عليه و آله وسلم پاڻ چيون آهن ته پوءِ بنا ڪنهن شڪ گمان جي سڃيون آهن. آءٌ انهن جي ساڪ ٿو پريان ته جيڪي ڪجهه هُن فرمايو، سو سارو سچ آهي.“ اهو ئي موقعو هو جڏهن کيس ”صديق“ (سچ جي ساڪ پريندڙ) جو لقب ڏنو ويو.

اسلام جي دشمنن سان ٿيل جنگين دوران، حضرت ابوبڪر صديق رضي الله تعالى عنه، حضور صلي الله عليه و آله وسلم سان هميشه گڏ هوندو هو ۽ کين قدر لائق صلاحون ڏيندو هو. هن پنهنجي پياري نياڻي، حضرت عائشه رضي الله تعالى عنها جي شادي پاڻ ڪريمن صلي الله عليه و آله وسلم سان ڪرائي. مسلمانن کي جڏهن به مالي امداد جي ضرورت پوندي هئي، تڏهن پاڻ جيڪو ڪجهه وٽس هوندو هو، سو ڏيئي ڇڏيندو هو. غزوه تبوك جي موقعي تي جڏهن مسلمانن کي مالي مدد جي گهرج هئي ته پاڻ پنهنجي گهر جو سمورو سامان کڻي اچي حضور ڪريم صلي الله عليه و آله وسلم جي خدمت ۾ پيش ڪيائون.

پاڻ ڪريم صلي الله عليه و آله وسلم جي وفات کان پوءِ مسلمانن کيس پنهنجو پهريون خليفو چونڊيو. تمام نازڪ وقت هو جو پاڻ اها ذميواري سنڀاليائين. پاڻ مسلمانن کي چيائين: ”منهنجي نظر ۾ طاقتور ۽ ڪمزور سڀئي هڪجڙا آهن ۽ آءٌ پنهنجي سان انصاف ڪرڻ چاهيان ٿو. آءٌ جهڙي طرح الله تعالى ۽ سندس رسول صلي الله عليه و آله وسلم جي پوئواري ڪريان ٿو، اهڙيءَ طرح اوهان به منهنجي پوئواري ڪريو. آءٌ جيڪڏهن الله

۽ سندس رسول صلي الله عليه و آله وسلم جي قانون کي نظر انداز ڪريان ته پوءِ اوهان تي به لازم نه آهي ته منهنجي اطاعت ڪريو.“

خلافت دوران کيس ڪيترن ئي مسئلن کي منهن ڏيڻو پئجي ويو. ڪن ماڻهن نبوت جي ڪوڙي دعويٰ ڪئي ۽ ڪن مسلمان قبيلن زڪوات ڏيڻ کان انڪار ڪري ڇڏيو. حضرت ابوبڪر صديق رضي الله تعالى عنه انهن پنهنجي مسئلن جو همت ۽ طاقت سان مقابلو ڪري انهن کي ڪاميابيءَ سان اڪلايو.

حضرت ابوبڪر صديق رضي الله تعالى عنه ڏاڍو رحمدل هو. هو پنهنجين عادتن ۾ سادو هو، غريبن جي مدد ڪندو هو ۽ سندن ڏڪن ۽ تڪليفن ۾ پاڻي پائيوار ٿيندو هو. هو نه رڳو پنهنجيون پڪريون پاڻ ڏهندو هو، پر خلافت ملڻ کان پوءِ به پاڙي وارن کي سندن پڪريون ڏهي ڏيندو هو.

خليفي جي حيثيت ۾ بنهه ٿورا پئسا پگهار طور کڻندو هو. وفات وقت، بيت المال (سرڪاري خزانو) مان پگهار ڪڍڻ واري ڳالهه تان ڏاڍي آند مانڌ ٿيس. سو پاڻ حڪم ڏنائين ته منهنجي ملڪيت وڪڻي، پگهار طور ڪنيل ساري رقم سرڪاري خزاني ۾ جمع ڪرائي وڃي.

هو تاريخ 22 جمادي الثاني، سن 13 هجريءَ ۾ وفات ڪري ويو ۽ کيس حضور صلي الله عليه و آله وسلم جن جي روضه مبارڪ جي پاسي ۾ دفن ڪيو ويو. وفات وقت سندس عمر 63 ورهيه هئي.

### حضرت عمر فاروق رضي الله تعالى عنه

حضرت عمر فاروق رضه، حضرت ابوبڪر صديق رضي الله تعالى عنه جي وفات کانپوءِ، اسلام جو ٻيو خليفو چونڊيو ويو.

جڏهن پاڻ ڪريم صلي الله عليه و آله وسلم، اسلام جي تبليغ شروع ڪئي، تڏهن حضرت عمر فاروق رضي الله تعالى عنه سندن سخت مخالفن مان هو، پر بعد ۾ پاڻ اسلام قبول ڪيائين. تنهن وقت تائين چاليهه مرد ۽ يارنهن عورتون اسلام قبول ڪري چڪا هئا. حضرت عمر رضي الله تعالى عنه جي مسلمان ٿيڻ کانپوءِ، اسلام ڏاڍو زور ورتو جو نبي پاڪ صلي الله عليه و آله وسلم مؤمنن کي هڪ جاءِ تي گڏ ٿيڻ ۽ ظاهر ظهور عبادت ڪرڻ جو فرمايو.

سندس خلافت دوران، مسلمانن ڪيتريون ئي جنگيون کٽيون ۽ ڪيترائي شهر ۽ ملڪ اسلامي رياست ۾ شامل ٿيا. هن مسجدون جوڙايون ۽ امام ۽ استاد مقرر ڪيا ته جيئن ڪوبه اڻپڙهيل نه رهي. بيت المال مان پاڻ لاءِ تمام ٿورڙي رقم پگهار طور مقرر ڪيائين. پاڻ اڪثر چوندو هو: ”مون کي بيت المال مان صرف ايتري رقم ڪڍڻ گهرجي، جنهن مان منهنجي ۽ گهر پاتين جو گذران ٿي سگهي.“ سو سندس ماهوار پگهار فقط ٻه درهم مقرر ڪئي ويئي. پگهار کانسواءِ، سال ۾ ٻه جوڙا ڪپڙن جا، هڪ اونهارو ۽ ٻيو سياري لاءِ مقرر ڪيا ويا. هو تمام سادو کاڌو کائيندو هو. سندس کاڌو تي مانيون (ڍوڍا) هونديون هيون. ڪڏهن انهن مانين کي زيتون جي تيل سان مڪيو ويندو هو، ته ڪڏهن هو اهي مانيون کير سان کائيندو هو.

حضرت عمر فاروق رضي الله تعالى عنه پنهنجي انصاف جي ڪري مشهور آهن.

سندس خلافت دوران قانون جي نظرن ۾ امير توڻي غريب هڪ جهڙا هئا. سڀ گورنر حج لاءِ مديني ايندا هئا. جيڪڏهن ڪنهن کي به انهن خلاف ڪا شڪايت هوندي هئي ته کيس خليفي جي سامهون پنهنجي شڪايت بيان ڪرڻ جي اجازت هئي. جيڪي گورنر معاملن کي سهڻي نموني نه نبيريندا هئا، تن کي سزا ملندي هئي. هو رات جي وقت، شهر جو گشت ڪري، ماڻهن جي حالت اکين سان ڏسندو هو ۽ ضرورتمندن جي مدد ڪندو هو. هو چوندو هو: ”جي ڪو ٻڪريءَ جو ٻچو به فرات نديءَ جي ڪنڌيءَ تي ضائع ٿي وڃي ته قيامت جي ڏينهن ان لاءِ عمر، الله تعاليٰ وٽ جوابدار هوندو.“

هيٺ سندن ڪي قول پيش ڪجن ٿا، جن ۾ اسان سڀني لاءِ زبردست پيغام سمايل آهي:

- پنهنجو فرض پورو ڪرڻ سڀ کان سٺي عبادت آهي.
- الله تعاليٰ انهن تي ٻاجه ڪري ٿو، جيڪي ٻين تي ٻاجه ڪن ٿا.
- ٽي شيون اوهان جي پاءُ جي دل ۾ اوهان لاءِ محبت پيدا ڪنديون، جڏهن اوهان، هن سان ملو، تڏهن پهريان کيس ڪيڪاريو. کيس انهيءَ نالي سڏيو، جنهن کي هو سڀ کان وڌيڪ پسند ڪري ٿو ۽ جڏهن هو گڏجاڻيءَ واري هنڌ اچي، تڏهن کيس ويهڻ لاءِ جاءِ ڏيو.

- علم پرايو جو ائين ڪري اوهان صبر، خود داري ۽ پنهنجي ذميواري سڃاڻي سگهندا. حضرت عمر فاروق رضي الله تعاليٰ عنه ساڍا ڏهه سال خليفو رهيو. هڪ ڏينهن، فجر جي نماز مهل، ابو لؤلؤ فيروز نالي هڪ غلام کيس زخمي ڪري وڌو، جنهن ڪري 1 محرم سن 24 هجري تي شهادت جو اعليٰ مقام حاصل ڪيائون. کيس حضرت ابوبڪر صديق رضي الله تعاليٰ عنه جي ڀر ۾ دفن ڪيو ويو.

### حضرت عثمان رضي الله تعاليٰ عنه

حضرت عثمان غني رضي الله تعاليٰ عنه، حضرت عمر فاروق رضي الله تعاليٰ عنه جي شهادت کانپوءِ خليفو ٿيو.

حضرت عثمان غني رضي الله تعاليٰ عنه، حضرت ابوبڪر صديق رضي الله تعاليٰ عنه جو ويجهو دوست هو. جڏهن حضرت ابوبڪر رضي الله تعاليٰ عنه کيس اسلام جي دعوت ڏني، تڏهن هن اها قبول ڪئي ۽ مسلمان ٿيو. انهيءَ وقت سندن عمر 34 سال هئي. حضرت عثمان غني رضي الله تعاليٰ عنه هڪ تمام شاهوڪار واپاري هو، پر سادي زندگي گذاريندو هو. اسلام جي واڌاري لاءِ، دل کولي خرچ ڪيائين ۽ مسلمانن جي مالي امداد ڪندو رهيو. پاڻ ڪريم صلي الله عليه وآله وسلم جي حياتيءَ ۾ جڏهن اسلام جي دشمنن سان جنگ ڪرڻ لاءِ جنگي سامان ۽ مالي مدد جي ضرورت پئي، تڏهن هن ڏهه هزار سپاهين لاءِ هٿيار پنهور ڏنا ۽ هڪ هزار اٺ، ستر گهوڙا ۽ هڪ هزار دينار (سونا سڪا) چنڊو ڏنو. جڏهن مديني جي مسلمانن کي پاڻيءَ جي کوٽ جو مسئلو پيش آيو، تڏهن هن هڪ يهوديءَ کان 35 هزار درهمن (چانديءَ جا سڪا) ۾ هڪ ڪوهه خريد ڪيو ۽ سڀني مسلمانن کي ان جو مفت پاڻي استعمال ڪرڻ جي اجازت ڏيئي ڇڏيائين.

حضرت عثمان غني رضي الله تعاليٰ عنه کي پاڻ ڪريم صلي الله عليه وآله وسلم سان

ڏاڍي محبت هوندي هئي. پاڻ ڪريم صلي الله عليه وآله وسلم پڻ حضرت عثمان غني رضي الله تعالى عنه سان محبت ڪندا هئا. پاڻ ڪريم صلي الله عليه وآله وسلم، حضرت عثمان رضي الله تعالى عنه کي، هڪ ٻئي پٺيان، ٻه نياڻيون پرڻائي ڏنيون، ان ڪري کيس ”ذوالنورين“ به چيو وڃي ٿو. هن اسلام جي دشمنن سان غزوه بدر کان سواءِ ٿيل سڀني جنگين ۾ حضور ورتو. پاڻ ان جنگ ۾ انهيءَ ڪري شريڪ ٿي نه سگهيو جو سندس گهر واري سخت بيمار هئي.

حضرت عثمان غني رضي الله تعالى عنه جي خلافت دوران انيڪ ڪاميابين سبب اسلامي رياست جون حدون گهڻو پري تائين وڌي ويون. هن غلطين کان پاڪ قرآن شريف جون ڪاپيون تيار ڪرايون ۽ انهن تي سرڪاري مهر هڻائي، مسلم دنيا ۾، مختلف هنڌن تي ڏياري موڪليون. اهڙي طرح هن الله جو پيغام پري پري تائين پهچايو. حضرت عثمان رضي الله تعالى عنه جي خلافت جا پهريان ڇهه سال امن امان رهيو، ان کانپوءِ اسلام جي دشمنن هن بابت ڪوڙيون ڳالهون پڪيڙڻ شروع ڪيون. هو الزامن جا جواب لحاظ ۽ مروت سان ڏيندو آيو. دشمنن سندس مروت جو بيواجبي فائدو ورتو. هڪڙي ڏينهن جڏهن حضرت عثمان رضي الله تعالى عنه گهر ۾ ويٺو قرآن پاڪ جي تلاوت ڪري رهيو هو، تڏهن دشمن اندر گهڙي آيا ۽ کيس شهيد ڪري ڇڏيائون.

### حضرت علي رضي الله تعالى عنه

حضرت عثمان غني رضي الله تعالى عنه جي شهادت کان پوءِ، حضرت علي رضي الله تعالى عنه کي اسلام جو چوٿون خليفو چونڊيو ويو.

حضرت علي رضي الله تعالى عنه، پاڻ ڪريم صلي الله عليه وآله وسلم جي چاچي، حضرت ابوطالب، جو فرزند هو. حضرت علي رضي الله تعالى عنه جي پالنا پاڻ ڪريم صلي الله عليه وآله وسلم جي پيار پري سنڀال هيٺ ٿي. حضرت علي رضي الله تعالى عنه ٻارن ۾ پهريون هو، جنهن اسلام قبول ڪيو.

حضرت علي رضي الله تعالى عنه پاڻ ڪريم صلي الله عليه وآله وسلم جي حياتيءَ دوران، سڀني جنگين ۾ حصو ورتو ۽ بهادريءَ جا جوهر ڏيکاريا. هن پنهنجي بهادريءَ ۽ جرئت سان خيبر جو قلعو فتح ڪيو. نبي ڪريم صلي الله عليه وآله وسلم جن کيس ”اسد الله“ جو لقب ڏنو، جنهن جي معنيٰ ”الله جو شينهن“ آهي.

حضرت علي رضي الله تعالى عنه تمام وڏو عالم هو. ديني ۽ دنيائي معاملن ۾ وسيع ڄاڻ جو مالڪ هو، هڪ موقعي تي رسول ڪريم صلي الله عليه وآله وسلم فرمايو: آءٌ علم جو شهر آهيان ۽ علي ان جو دروازو آهي.“ کانئس اڳ وارا خليفو سڳورا سڀني اهم معاملن بابت ساڻس صلاح مشورو ڪندا هئا.

حضرت علي رضي الله تعالى عنه پاڻ ڪريم صلي الله عليه وآله وسلم جي سڀ کان پياري نياڻي، حضرت فاطمه رضي الله عنها سان شادي ڪئي. حضرت علي رضي الله تعالى عنه جا ٻه پٽ حضرت امام حسن رضي الله تعالى عنه ۽ حضرت امام حسين رضي الله تعالى عنه بهادريءَ جي گڻ ۽ قربانيءَ جي جذبي سان نوازيل هئا. کين اهي خوبيون سندن والد حضرت علي رضي الله تعالى عنه جي ڪردار مان ئي مليون هيون.



حضرت علي رضي الله تعالى عنه تمام سادي زندگي گذاريندو هو. جيڪي ڪجهه وٽس موجود هوندو هو، سو الله جي نالي تي غريبن ۽ ضرورتمندن کي ڏيئي ڇڏيندو هو. ڪنهن به سواليءَ کي پنهنجي در تان هٿين خالي نه مونتائيندو هو. وٽس ڪو نوڪر ڪونه هو. سارو ڪم پنهنجي هٿن سان پاڻ ڪندو هو. حضرت علي رضي الله تعالى عنه پنهنجو گهڻو وقت الله جي عبادت ۾ گذاريندو هو ۽ گهڻو ڪري روزي سان هوندو هو. اسلام جي دشمنن طرفان پڪيڙيل ڪوڙين ڳالهين جي ڪري، مسلمانن ۾ اختلاف وڌي ويا ۽ اهي هڪٻئي سان جهيڙا جهٽا ڪرڻ لڳا. حضرت علي رضي الله تعالى عنه مسلمانن کي متحد رکڻ لاءِ وسان نه گهٽايو. سندس خلافت جي پنجين سال، جڏهن هو مسجد ۾ نماز پڙهي رهيو هو. هڪ دشمن مٿس حملو ڪيو ۽ کيس سخت زخمي ڪري وڌو. حملي جي ٽئين ڏينهن، 21 رمضان سن 40 هجريءَ تي پاڻ زخمن جي تاب نه سهندي شهادت جو عظيم منصب ماڻيائون. سندس مقبرو عراق جي شهر نجف اشرف ۾ آهي.

### مشق

#### (الف) هيٺين سوالن جا جواب ڏيو:

1. حضرت ابوبڪر رضي الله تعالى عنه کي ”صديق“ جو لقب ڪيئن مليو؟
2. حضرت عمر رضي الله تعالى عنه جو ڪو قول بيان ڪريو ۽ ٻڌايو ته اوهان کي اهو قول ڇو پسند آهي؟ اوهان پنهنجي حياتيءَ ۾ ان تي ڪيئن عمل ڪندا؟
3. حضرت عثمان رضي الله تعالى عنه جون اسلام لاءِ ڪيل خدمتون بيان ڪريو.
4. حضرت علي رضي الله تعالى عنه جي ڪردار جون ڪهڙيون خوبيون اوهان کي وڌيڪ پسند آهن؟ ڇو؟
5. ڪالم الف جي لفظن کي ڪالم ب جي مناسب لفظن سان ملائي جملا مڪمل ڪريو.

ڪالم الف	ڪالم ب
25 سالن جي عمر ۾	ڪين پيغمبر چونڊيو ويو
40 سالن جي عمر ۾	والده ماجد وفات ڪري ويئي
6 ورهين جي عمر ۾	بيبي خديجة الڪبري سان شادي ڪئي

6. هيٺين مان صحيح جملن جي سامهون  ۽ غلط جملن جي سامهون  جو نشان لڳايو.
  - i. پاڻ ڪريم صلي الله عليه و آله وسلم جڏهن ڇهن ورهن جا ٿيا ته سندن والده ماجده وفات ڪري وئي.
  - ii. جنگ بدر ۾ مسلمانن جو ڪل تعداد 500 هو.
  - iii. جي ڪو بڪريءَ جو بچو به فرات نديءَ جي ڪنڌيءَ تي ضائع ٿي وڃي ته قيامت جي ڏينهن ان لاءِ عمر، الله تعالى وٽ جوابدار هوندو.

#### (ب) عملي ڪم:

1. سڀني خليفن سڳورن سادي زندگي گذاري. سندن حياتيءَ مان اوهان پنهنجي زندگيءَ کي سادو بنائڻ لاءِ ڪو طريقو چونڊيو ۽ ان تي عمل ڪرڻ جي ڪوشش ڪريو. اهڙي ڪوششن جو رڪارڊ ڪنهن ڊائريءَ ۾ پاڻ وٽ رکو.

#### (ج) اضافي سرگرمي:

1. ڪنهن مذهبي عالم کي خليفن سڳورن جي حياتيءَ ۽ سندن حاصل ڪيل ڪاميابين تي ليڪچر ڏيڻ لاءِ پنهنجي ڪلاس ۾ گهرايو.

## اسان جا سُورما ۽ سُورميون بزرگ ۽ نوجوان - ماضي ۽ حال

شاگردن جي سڪڻ جا نتيجا:

هن باب جي پڄاڻيءَ تي شاگرد ان لائق ٿيندا ته:

- صوبي جي ماضيءَ ۽ حال جي اهم قديم ۽ جديد شخصيتن جي ذاتي خوبين جي مثالن جي نشاندهي ڪري سگهن.
- صوبي جي اهم شخصيتن جي صوبي جي ترقيءَ (سماجي، سياسي، مذهبي) ۾ نشاندهي ڪري سگهن.
- سورهياڻيءَ کي بيان ڪري سگهن.
- اسان جن شخصيتن (سماجي، سياسي، مذهبي) کي ساراهيون ٿا، انهن جون خوبيون بيان ڪري سگهن.
- اسان جي روزمره جي زندگيءَ ۾ سورهياڻيءَ جي اهميت کي سمجهي سگهن.
- ڪيئن اسان جا انفرادي عقيدا، ثقافت، وقت ۽ صورتحال اسان جي سورمن بابت پسند ڪي تبديل ڪن ٿا. ان کي بيان ڪري سگهن.
- مختلف صورتحالن ۾ ڪيئن عام ماڻهو، (مرد ۽ عورتون) اسان جا سورما ۽ سورميون ٿي پون ٿا. ان جي نشاندهي ڪري سگهن.

## اسان جا سُورما ۽ سُورميون

بزرگ ۽ نوجوان - ماضي ۽ حال

هر ماڻهوءَ جا پنهنجي زندگيءَ ۾ سورما ۽ سورميون هونديون آهن. سورما/سورميون اهي ماڻهو آهن، جيڪي ٻين سان ڀلائي ڪن ٿا ۽ بدلي ۾ ڪنهن به شيءِ جي لالچ نٿا رکن. انهن جي سندن عملن جي ڪري ۽ بي خوديءَ جي ڪري اسين انهن ڏانهن عزت جي نگاهه سان ڏسندا آهيون ۽ انهن جي تعريف پڻ ڪيون ٿا.

سرگرمي:

سوالن جا جواب سوچيو ۽ لکو: توهان جا ڪير سُورما/سورميون آهن؟ توهان ڇو انهن کي ساراهيو ٿا؟ انهن ۾ ڪهڙيون صلاحيتون آهن؟

توهان گهڻو ڪري پنهنجي والدين، ڪنهن استاد يا هڪ دوست ڪرڪيتر يا سماجي ڪم ڪندڙ جو نالو لکيو هوندو.

ها، روزمره جا ماڻهو پڻ سورما/سورميون ٿي سگهن ٿا، جيڪي اسان جي خاندان جي ماڻهن وانگر اسان جي ۽ اسان جي معاشري جي خدمت ڪن ٿا جيئن استاد، سماجي ڪم ڪندڙ ۽ پوليس عملو. توهان گهڻو ڪري اهو لکيو هوندو ته، توهان انهن جا مداح ان ڪري آهيو جو انهن توهان جي مدد يا ڪنهن ٻئي جي سهائتا ڪئي هوندي يا وري انهن مشڪل صورتحال ۾ ڪو ڪارنامو ڪيو هوندو.

توهان گهڻو ڪري انهن جون هي خاصيتون جيئن:

سُورما ۽ سُورميون اهي ماڻهو آهن جيڪي ٻين جي لاءِ ڪم ڪن ٿا ۽ انهن جي مدد به ڪن ٿا. اهي مشڪل صورتحال ۾ به سٺو ڪم ڪن ٿا ۽ خراب صورتحال کي صحيح ڪرڻ جي ڪوشش ڪن ٿا. ماڻهو ٻن ڳالهين جي ڪري بهادريءَ سان عمل ڪندا آهن.

- جنهن صورتحال ۾ اهي هوندا آهن.
- ۽ اهي ان صورتحال تي ڪيئن رد عمل ڏيندا آهن (لاڳاپيل سورمي جون خاصيتون ۽ صلاحون).

هر اهو ماڻهو سورما/سورمي ٿي سگهي ٿو/ ٿي، جيڪو ٻين جي مدد ڪرڻ جي ڪوشش ڪندو/ڪندي آهي، انهن جي حقن لاءِ وڙهندو/وڙهندي آهي يا پنهنجي آس پاس جي ماحول کي سڌارڻ جي ڪوشش ڪندو/ڪندي آهي. توهان جهڙا ٻار تمام ننڍڙا پر مختلف ڪم ڪري سورما/سورميون بنجي سگهن ٿا. جيڪڏهن توهان پنهنجي اسڪول، معاشري يا ملڪ کي بهتر بنائڻ جي ڪوشش ڪندؤ ته ٻيا ماڻهو توهان جي پوئواري ڪندا. سورما/سورميون

ڪيترن ئي خاصيتن جيئن بهادري، همت، پختي ارادي ۽ بي خوديءَ جا مالڪ هوندا آهن. اڪثر سورما/سورميون پنهنجي ڪارنامن جي ڪري ماڻهن ۾ مڃتا رکندا آهن ۽ انهن جي تمام گهڻي تعظيم پڻ ڪئي ويندي آهي. سورما/سورميون هميشه ساڳيا نه تارهن، پر اهي تبديل ٿيندا رهن ٿا.

اسان جي اعتقادن (عقيدن)، ثقافت، وقت ۽ صورتحال ۾ تبديليءَ سان اسان جي سُورمن/سورمين جي پسند ۾ تبديلي ايندي رهندي آهي. امجد جڏهن ننڍو ٻار هو تڏهن ”سپر مين“ هن جو سورمو هو. پر هو جڏهن وڏو ٿيو ته هن کي خبر پئي ته سپر مين حقيقي ماڻهو نه پر هڪ هٿرادو ٺاهيل ڪردار جو نالو آهي. هاڻي هو به ڊاڪٽر ادیب رضويءَ، جيڪو سنڌ انسٽيٽيوٽ آف يورولاجي اينڊ ٽرانسپلاٽ ۾ ڪم ڪري ٿو، جو مداح آهي، جو هو ماڻهن جون زندگيون بچائڻ لاءِ پاڻ پتوڙي ٿو. جڏهن زيبا هڪ ننڍي چوڪري هئي تڏهن هن ان ڪري ڊاڪٽر ٿيڻ پئي چاهيو ڇو جو ڊاڪٽر جام پئسا ڪمائين ٿا، پر جڏهن هن جي ملاقات ڊاڪٽر ”رت فائو“ سان ٿي، جيڪا ڪوڙهه جي مرض ۾ ورتلن سان ڪم ڪري ٿي ۽ پاڪستان ۾ ڪوڙهه جي مرض جي خاتمي لاءِ ڪوششون ڪري رهي آهي، تڏهن هن فيصلو ڪيو ته هو ڊاڪٽر ٿيندي ۽ ڊاڪٽر رت فائو وانگر ماڻهن جي خدمت ڪندي.

اهڙيءَ طرح غربت کان تنگ اچي چئن سالن جي ڄمار ۾ اقبال مسيح کي 1000 روپين عيوض هڪ غاليجا ٺاهيندڙ ڪارخاني جي مالڪ وٽ وڪرو ڪيو ويو. يارنهن سالن جي عمر ۾ هو ڪارخاني مان ڀڄي نڪرڻ ۾ ڪامياب ٿي ويو ۽ پنهنجو پڙهڻ جو خواب پورو ڪرڻ لاءِ اسڪول وڃڻ لڳو. هن غاليجن جي ڪارخاني ۾ مزدوري ڪندڙ ٻارن ۽ سڄي دنيا جي ٻارن جي حقن لاءِ ڳالهائڻ شروع ڪيو. هن جي ان جاکوڙ جي ڪم کي ساراهيو ويو. ڪارخاني مان آزاديءَ جي ٻن سالن کان پوءِ، اقبال کي پنهنجي ڳوٺ جي گهر ۾ گهڙي قتل ڪيو ويو. اقبال جي ان ڪهاڻيءَ سڄيءَ دنيا، خاص طرح سان ڪئناڊا ۾ رهندڙ ٻارنهن سالن جي ڪرئنگ نالي چوڪر کي ڏاڍو متاثر ڪيو. ڪرئنگ اخبارن ۾ اقبال جي بابت پڙهيو. هن پنهنجي ڪجهه دوستن کي گڏ ڪيو ۽ ”ٻارن کي آزاد ڪرايو“ نالي هڪ تنظيم جو بنياد رکيائين، جنهن جو مقصد ٻارن کي ظلم ۽ ڏاڍا ڪان بچائڻ ۽ سڄي دنيا کي اهو ٻڌائڻ ته ٻار ايترا ته ذهين آهن، جو اهي دنيا کي تبديل ڪرڻ جي صلاحيت رکن ٿا.

### سرگرمي:

پنهنجي علائقي جي ڪنهن اهڙي نوجوان جي باري ۾ ٻڌايو جنهن جي ڪيل ڪنهن ڪم جو ٻين ماڻهن کي فائدو ٿيو هجي.

اچو ته پنهنجي ڪجهه بزرگ ۽ نوجوان سُورمن ۽ سُورمين جي باري ۾ پڙهون.



### حضرت سچل سرمست

سچل سرمست 1739ع ۾ خيرپور ضلعي جي درازا ڳوٺ ۾ ڄائو هو. سندس اصل نالو عبدالوهاب هو، پر ننڍپڻ ۾ کيس پيار مان سچل، سچو ۽ سچيدنو ڪوٺيندا هئا. سچل معنيٰ ”سچ“ ۽ سرمست معنيٰ ”صوفي يا بزرگ“. حضرت سچل سرمست جو والد تڏهن گذاري ويو، جڏهن هيءُ پاڻ اڃان عمر ۾

ننڍو هو. هن جي تربيت پنهنجي بزرگ چاچي ميان عبدالحق ڪئي، جيڪو اڳتي هلي هن جو روحاني رهبر پڻ ٿيو. حضرت سچل سرمست انتهائي سادي، نوڙت واري ۽ پاڪ زندگي گذاري. پاڻ اڪيلائي ۾ رهڻ پسند ڪندو هو ۽ سادو کاڌو يعني دال ۽ دهلي کائڻ پسند ڪندو هو. حضرت سچل سرمست ”شاعر هفت زبان“ طور مشهور آهي ڇو جو هن ستن زبانن (عربي، سنڌي، سرائيڪي، پنجابي، اردو، فارسي ۽ بلوچي) ۾ شاعري ڪئي. پنهنجي شاعريءَ ذريعي هن انسانيت سان محبت جو پيغام پکيڙيو.

حضرت سچل سرمست 1827ع ۾ وفات ڪئي. سندس قبو مير رستم خان، جيڪو رياست خيرپور جو حڪمران هو، جوڙايو. هر سال 14 رمضان المبارڪ تي درازن ۾ سندس عرس وڏي ڌار ڌور سان ملهايو ويندو آهي. هن جي شاعريءَ کي مقامي موسيقار سنڌي ۽ سرائيڪي زبانن ۾ ڳائيندا آهن.

### حيدر بخش جتوئي



حيدر بخش جتوئي لاڙڪاڻي ضلعي جي هڪ ننڍڙي ڳوٺ ۾ 1901ع ۾ ڄائو. تعليم پوري ڪرڻ کانپوءِ حيدر بخش جتوئي سنڌ جي روينيو کاتي ۾ هيڊ منشي مقرر ٿيو. پنهنجي لياقت ۽ ايمانداريءَ سبب هن تڪڙيون ترقيون ورتيون ۽ وڃي ڊپٽي ڪليڪٽر جي عهدي تي پهتو. ان عهدي کي انگريزن واري دور ۾ وڏي اختيار وارو عهدو سمجهيو ويندو هو.

هن 1945ع ۾ ان عهدي تان استعفيٰ ڏئي، سياست ۾ حصو ورتو ۽ هاري ڪاميٽي جو ميمبر ٿيو. هي هاري ڪاميٽي ۾ ان ڪري شامل ٿيو ڇو جو هن سنڌ جي هارين جي حالت سڌارڻ چاهي ٿي. حيدر بخش جتوئي هارين جي حقن لاءِ وڙهي 1950ع ۾ سنڌ اسيمبليءَ مان ”سنڌ ٽيننسي ايڪٽ“ پاس ڪرايو. هن قانون مطابق هاري کي زمين جي پيداوار جو اڌ حصو ملندو. ساڳئي قانون ۾ هارين ۽ زميندارن جي حقن جي وضاحت ٿيل آهي. هن هارين ۾



سجاڳي پيدا ڪرڻ ۽ کين پنهنجي حقن لاءِ وڙهڻ تي همٿائڻ لاءِ ”هاري حقدار“ نالي هڪ اخبار جاري ڪئي. حيدر بخش جتوئي هڪ سٺو شاعر ۽ ليکڪ به هو. هن 21 مئي 1970ع تي وفات ڪئي. پاڪستان سرڪار مڃتا طور کيس 23 مارچ 2001ع

تي سنڌ ۾ هارين جي حالت سڌارڻ عيوض قومي اعزاز ”هلالِ پاڪستان“ سان نوازيو ويو.

### ليڊي نصرت هارون



نصرت خانم 1896ع ۾ ايران ۾ پيدا ٿي. هن جا وڏا ايران مان لڏي اچي بمبئي ۾ آباد ٿيا، جتان ڪراچي آيا ۽ اتي ئي رهي پيا. 1914ع ۾ هن جي شادي سر عبدالله هارون سان ٿي. ليڊي نصرت هارون کي شانائتي طريقي سان رهڻ پسند هو ۽ خوشامديءَ کان سخت نفرت هئي. هوءَ ضرورتمندن جي مدد ڪندي هئي، دوستن تي مهربان ۽ دشمنن سان به نرم رويو رکندي هئي. خلاف تحريڪ جي دوران هن جو

ڪراچيءَ وارو گهر تحريڪ جي ماڻهن لاءِ مهمان خانو (گيسٽ هائوس) بنجي پيو. مهمانن جي رهائش ۽ کاڌي پيئي جي ذميواري هن خود سنڀالي. ليڊي نصرت هارون پنهنجي مڙس سان گڏ سڄي ننڍي کنڊ جا دورا ڪيا. ٻئي غريبن ۽ ضرورتمندن جي زندگيءَ جي حالت سڌارڻ لاءِ آتا رهندا هئا.


انهن تعليمي ۽ سماجي ڀلائيءَ جا ڪيترائي ادارا کوليا. ليڊي نصرت هارون خاص ڪري ٻارن ۽ عورتن جون حالتون سڌارڻ لاءِ سرگرم رهندي هئي. ان ڪري هن ”حاجي عبدالله هارون يتيم خانو“، ”ليڊي نصرت هارون ويڙهه گهر“، ”گل راڻا نصرت انڊسٽريل هوم“ ۽ ”APWA ڪاتيچ انڊسٽريز شاپ“ ٺهرائڻ ۽ ان جي انتظام هلائڻ ۾ اهم ڪردار ادا ڪيو.

### علامه آءِ آءِ قاضي

علامه آءِ آءِ (امداد علي امام علي) قاضي 19 اپريل 1886ع تي دادو ضلعي جي هڪ ننڍڙي ڳوٺ پات شريف ۾ جنم ورتو. علامه آءِ آءِ قاضي ابتدائي تعليم حيدرآباد شهر ۾ حاصل ڪئي ۽ پوءِ اعليٰ تعليم لاءِ علي ڳڙهه يونيورسٽي ويو. ان کان پوءِ هيءَ قانون پڙهڻ لاءِ لنڊن روانو ٿيو. ملڪ موٽڻ تي علامه صاحب حيدرآباد ۾ سيشن جج مقرر ٿيو. جلد ئي علامه آءِ آءِ قاضي



ان عهدي تان استعفيٰ ڏئي ڇڏي، ڇو جو ڪيترن ئي ماڻهن هن جي فيصلن تي سفارش ۽



اجائي ڇو ڇو ذريعي اثرانداز ٿيڻ جي ڪوشش ڪئي.

علامه آءِ آءِ قاضي شروع کان ئي علم ۽ شعور سکڻ جي وات ورتي. علم جي شوق سبب هن ڪيترائي ڀيرا ٻاهرين ملڪن جا دورا ڪيا ۽ ڪجهه عرصي لاءِ انگلينڊ، فرانس ۽ جرمنيءَ ۾ پڻ رهيو ۽ اتان جون زبانون سکڻ سان گڏ اتان جي استادن جي صحبت ۾ گهڻو پرايائين.

علامه آءِ آءِ قاضي سنڌ يونيورسٽيءَ جو پهريون وائيس چانسلر مقرر ٿيو، جتي سخت محنت سان هن اداري جي ترقيءَ لاءِ ڪم ڪيائين. هن سنڌ يونيورسٽيءَ جي ملازمن ۽ استادن جي لاءِ مثالي ڪردار ادا ڪيو. علامه آءِ آءِ قاضي پنهنجي ذاتي مفادن جي بجاءِ ملازمن ۽ شاگردن ۽ اداري جي پلائي لاءِ پاڻ پتوڙيو.

سنڌ جو هي بي مثل عالم 13 اپريل 1968ع تي لاڏاڻو ڪري ويو. سندس مزار سنڌ يونيورسٽي ڪئمپس ڄام شوري ۾ آهي.

### بينظير ڀٽو

بينظير ڀٽو 21 جون 1953ع تي پيدا ٿي. هوءَ ملڪ جي اڳوڻي وزير اعظم ۽ هڪ وڏي سياسي پارٽي پاڪستان پيپلز پارٽيءَ جي بانيءَ جي وڏي نياڻي هئي. 1982ع ۾ جڏهن هوءَ فقط 29 سالن جي هئي ته پارٽيءَ جي اڳواڻ بنجي وئي. اهڙيءَ طرح هوءَ پاڪستان جي پهرين عورت هئي، جنهن کي اهو اعزاز نصيب ٿيو.



1988ع ۾ هوءَ ڪنهن به مسلمان رياست ۽ پاڪستان جي پهرين عورت وزير اعظم چونڊي وئي. هوءَ آڪٽوبر 1990ع


تائين ملڪ جي وزير اعظم رهي. هوءَ ٻيهر 1993ع ۾ پاڪستان جي وزير اعظم چونڊجي آئي ۽ نومبر 1996ع تائين ان عهدي تي رهي. 1997ع وارين چونڊن ۾ هارجٽ ڪان پوءِ پاڻ ئي جلاوطني اختيار ڪري دٻئي ۾ رهڻ لڳي. نون سالن جي عرصي کان پوءِ هوءَ 18 آڪٽوبر 2007ع تي، 2008ع جي شروعات ۾ ٿيندڙ چونڊن ۾ حصو وٺڻ لاءِ واپس پاڪستان موٽي. هن کي 27 ڊسمبر 2007ع ۾ چونڊ مهڻي دوران راولپنڊيءَ ۾ شهيد ڪيو ويو.

شهيد محترم بينظير ڀٽو نه فقط پاڪستان جي سياسي اڳواڻ هئي، پر هوءَ عالمي اڳواڻ پڻ هئي. آمريڪا، برطانيه ۽ دنيا جي ٻين ملڪن ۾ ڪيل تقريرون، ليڪچر ۽ پڙهيل مقالا هن جي ذهانت،

سياسي بصيرت ۽ عالمي اڳواڻ هجڻ جو ثبوت آهن. جمهوريت ۽ انساني حقن جي لاءِ سندس  
ڪيل جدوجهد کي مڃتا ڏيندي، گڏيل قومن (UN) پاران 2008ع ايوارڊ مليو آهي.

### ملالا يوسف زئي:

ملالا يوسف زئي 12 جولاءِ 1997ع تي سوات ضلعي جي شهر مينگورا ۾ پيدا ٿي. جڏهن  
ملالا ايجان اسڪول جي شاگردياڻي هئي، تڏهن طالبان چوڪرين کي اسڪول ۾ وڃڻ کان  
روڪڻ شروع ڪيو. 2009ع جي شروعات ۾ 12 سالن جي عمر ۾ ملالا هڪ ڪتاب لکيو  
جنهن ۾ هن سوات جي اندر طالبان جي مختصر حڪومتي دور ۾ پنهنجي زندگي ۽ طالبان  
جون سوات واديءَ تي قبضي ڪرڻ جون ڪوششون ۽ چوڪرين جي تعليم کي ترقي  
ڏيارڻ بابت لکيو. 9 آڪٽوبر 2012ع تي طالبان ملالا يوسف زئيءَ



کي اسڪول مان موٽڻ مهل نشانو بنايو. هن کي مٿي ۽ گچيءَ ۾  
گوليون لڳيون. حملي جي ڪيترن ئي ڏينهن تائين هوءَ بيهوش ۽  
ڳڻتيءَ جوڳي حالت ۾ رهي، پر جڏهن هن جي حالت سڌري، تڏهن  
هن کي برمنگهم، انگلينڊ علاج لاءِ موڪليو ويو، جتي هيءَ صحتياب  
ٿي وئي. ملالا کي پنهنجي بهادريءَ جي ڪري ڪيترائي ايوارڊ

مليا آهن. ايوارڊ ملڻ واري هر تقريب ۾ ملالا تعليم جي اهميت ۽ واڌاري جي ضرورت جي  
اهميت تي زور ڏيندي رهي ٿي. 2014ع ۾ ملالا کي ”امن جو نوبل“ انعام به ڏنو ويو آهي.

### سرگرمي:

ملالا يوسف زئي کي مليل ڪن به پنجن ايوارڊن جا نالا لکو.

### ارفع ڪريم:

ارفع عبدالڪريم رنڌاوا 28 فيبروري 1995ع تي ڄائو. نون سالن جي عمر ۾، 2004ع ۾ هن  
مائڪرو سافٽ نالي واري اداري کان سرٽيفڪيٽ حاصل ڪري نوجوان ترين مائڪرو سافٽ  
سند يافته پيشيوار (Microsoft Certified Professional) هجڻ جو اعزاز ماڻيو. اهو اعزاز هن وٽ



2008ع تائين رهيو. 2011ع ۾، سورنهن سالن جي عمر ۾،  
جڏهن ارفع لاهور گرامر اسڪول ۾ پڙهندي هئي ته هن  
کي مرگهيءَ جو سخت دورو پيو، جنهن جي ڪري هن جي  
دماغ کي سخت نقصان رسيو. هن کي ڳڻتي جوڳيءَ حالت ۾  
ڪمبائينڊ مليٽري اسپتال (CMH) لاهور ۾ داخل ڪيو ويو.  
اها خبر پوڻ تي مائڪرو سافٽ جي چيئرمين بل گيٽس  
هن جي مائٽن سان رابطو ڪيو ۽ انهن کي بين الاقوامي  
ڊاڪٽرن جي پينل جي خدمتن جي پيشڪش ڪئي ته جيئن

ارفع جي بيماري جي صحيح سڃاڻپ ۽ علاج ڪن. جيتوڻيڪ هن کي بهترين علاج ميسر ٿيو، مگر هوءَ جيئري رهي نه سگهي.

هن 14 جنوري 2012ع تي اسپتال ۾ وفات ڪئي. ارفع جي جنازي ۾ پنجاب جي وزير اعليٰ شهباز شريف به شرڪت ڪئي. وزير اعليٰ پنجاب ارفع جي ڪم جي مڃتا ۾ لاهور ٽيڪنالاجي پارڪ جو نالو مٽائي ”ارفع سافت ويئر پارڪ“ رکڻ جو اعلان ڪيو. ارفع پاڪستان جي ڪيترن ئي بين الاقوامي فرمن جيئن ”ٽيڪ ايد ڊويلپرز ڪانفرنس“ ۾ شرڪت ڪئي. ارفع کي حسن ڪارڪردگيءَ (Pride of Performance) جي صدارتي اعزاز سان پڻ نوازيو ويو. بل گيٽس ڪيس آمريڪا ۾ مائیکرو سافت جو مرڪزي دفتر گهمڻ جي دعوت ڏني.

### ماریه تور:



ماریه تور جو تعلق ڏکڻ وزيرستان سان آهي. ڏکڻ وزيرستان ۾ تشدد ۽ بي آراميءَ جي ڪري وڏو نقصان ٿيو آهي پر ان جي باوجود ماریه جو اسڪول جي راند سان تعلق برقرار آهي. آگسٽ 2007ع ۾ هن کي سلامِ پاڪستان جي صدارتي اعزاز (ايوارڊ) سان نوازيو ويو. ان کان سواءِ هن انڊر ٿرٽين (13 سالن جي عمر جي انڊر) رانديگر جو لقب پڻ حاصل ڪيو آهي.

ماریه جو نالو ”WISP“ 2007ع جي نوجوان رانديگر طور پڻ شامل ٿيو. ماریه جا ڪارناما اسان جي سڄي ملڪ لاءِ فخر ۽ اعزاز جو سبب آهن.

## اختصار

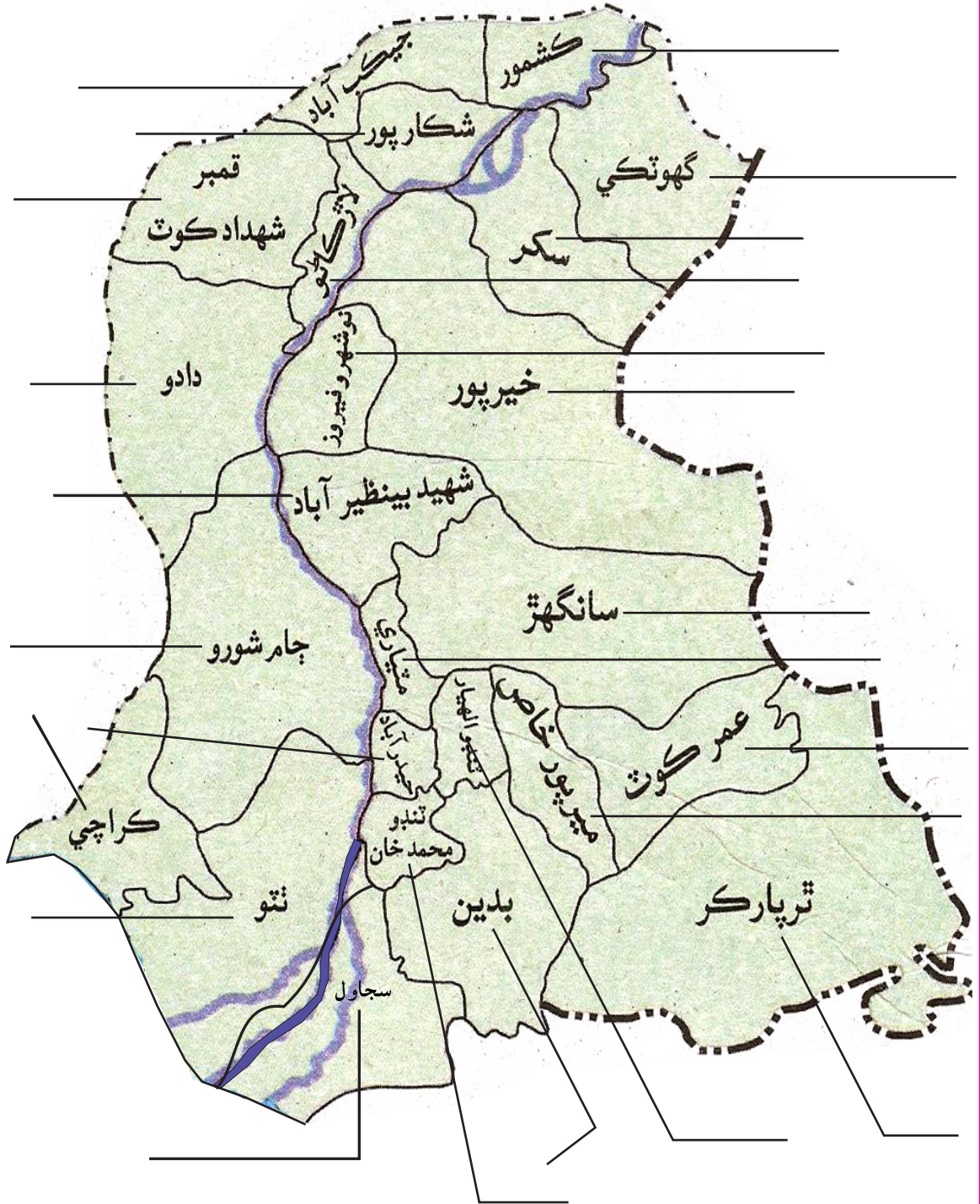
هن باب ۾ اسان هيٺيون ڳالهيون سکيون آهن.

- اسان جي عام رواجي زندگين ۾ سُورما ۽ سُورميون آهن. سُورما ۽ سُورميون اهي ماڻهو آهن جيڪي ٻين جي مدد ۽ انهن لاءِ ڪم ڪن ٿا، تمام ڏکي صورتحال ۾ بهترين ڪم ڪن ٿا ۽ ٻين جي لاءِ شيون بهتر بنائين ٿا.
- ٻه عنصر جيڪي ماڻهن ۾ سُورهيائي پيدا ڪن ٿا اهي هي آهن: جنهن صورتحال ۾ اهي پاڻ کي ڏسن ٿا ۽ هو ان تي ڪيئن رد عمل ظاهر ڪن ٿا.
- اسان جي سُورمن ۽ سُورمين، نوجوان ۽ پوڙهن جو ماضيءَ ۾ يا اڄڪلهه شفقت، وسيع سوچ، ۽ پختو ارادو آهي.



## مشق

(الف) سنڌ جي هر ضلعي مان هڪ هڪ اهم شخصيت جو نالو ڳوليو ۽ انهن جي نالن کي لاڳاپيل ضلعن جي مطابق خالي جڳهين تي لکو.



(ب) انهن ماڻهن جي معلومات سان هيٺئين جدول ڀريو جن جي باري ۾ توهان مٿي پڙهيو آهي.

مان پاڻ ۾ ڪهڙيون خوبيون پيدا ڪري سگهان ٿو.	هن/هن جو خوبيون	ڪهڙي ڳالهه هن/هن کي سورمو/سورمي بنايو؟ (هن شين جي لاءِ ڇا ڪيو، يا مشڪل تي ڪيئن قابو پاتائين)	شخصيت جو نالو

(ج) هيٺين سوالن جا جواب ڏيو:

1. لفظ بهادري/سورهيائي جي وصف لکو.
2. ڪن به تن ماڻهن جا نالا لکو جيڪي توهان جا سورما/سورميون آهن.
3. پنهنجي سورمي/سورميءَ جون ٽي خوبيون بيان ڪريو.
4. اهي ماڻهو توهان جا سورما/سورميون ڇو آهن؟
5. سنڌ جي ترقيءَ لاءِ علامه آءِ آءِ قاضي، ليڊي نصرت هارون ۽ حيدر بخش جتوئيءَ جي خدمتن جي باري ۾ ٻڌايو.

(د) عمل ڪر:

سورمن/سورمين جي باري ۾ ڪتاب ٺاهيو. هر صفحي تي هڪ سورمي/سورميءَ جو ذڪر ڪيل هجي انهن جون تصويرون ڪتاب ۾ چٽڙايو ۽ ڪجهه جملن ۾ لکو ته انهن کي ڪهڙيءَ ڳالهه سورمو/سورمي بنايو.

(ه) تحقيقات:

پنهنجي پسند جو سورمو/سورمي تلاش ڪريو. ان جي باري ۾ هڪ دستاويز ٺاهيو.

نالو \_\_\_\_\_

تاريخ ۽ جاءِ پيدائش \_\_\_\_\_

هن/هن جا اهي ڪارناما جن هن کي سورمو/سورمي بنايو \_\_\_\_\_

\_\_\_\_\_

\_\_\_\_\_

هن/هن جون خوبيون \_\_\_\_\_

\_\_\_\_\_